

موقع عيون البصائر التعليمي

كتاب

الجغرافيا



elbassair.net



elbassair.net

السنة الخامسة ابتدائي

elbassair.net

فهرس الكتاب

الصفحة

03	مقدمة الكتاب
04	كيف تستعمل كتابك
06	تقويم تشخيصي

المجال الأول : موقع الجزائر

14	1. الموقع محليا
21	2. الموقع اقليميا
29	3. الموقع عالميا



المجال الثاني : جغرافية الجزائر

42	1. مظاهر السطح في الجزائر
51	2. المناخ والنبات
63	3. الموارد الطبيعية



المجال الثالث : السكان في الجزائر

76	1. الكثافة وتوزيع السكان في الجزائر
86	2. العوامل المتحكمة في توزيع السكان
92	3. نشاط السكان الاقتصادي

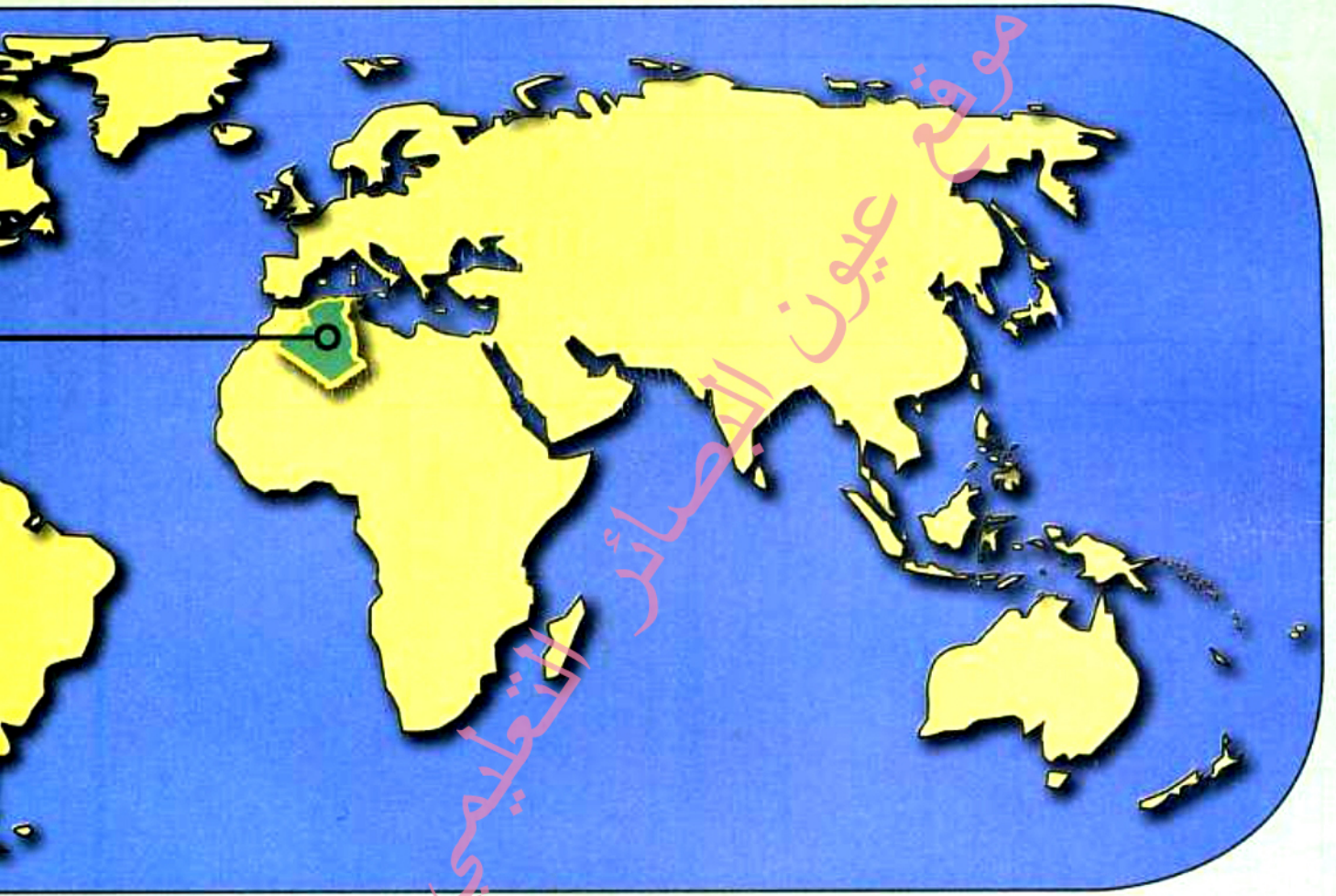


105	مصطلحاتي الجغرافية
-----	-------	--------------------

موقع الجزائر

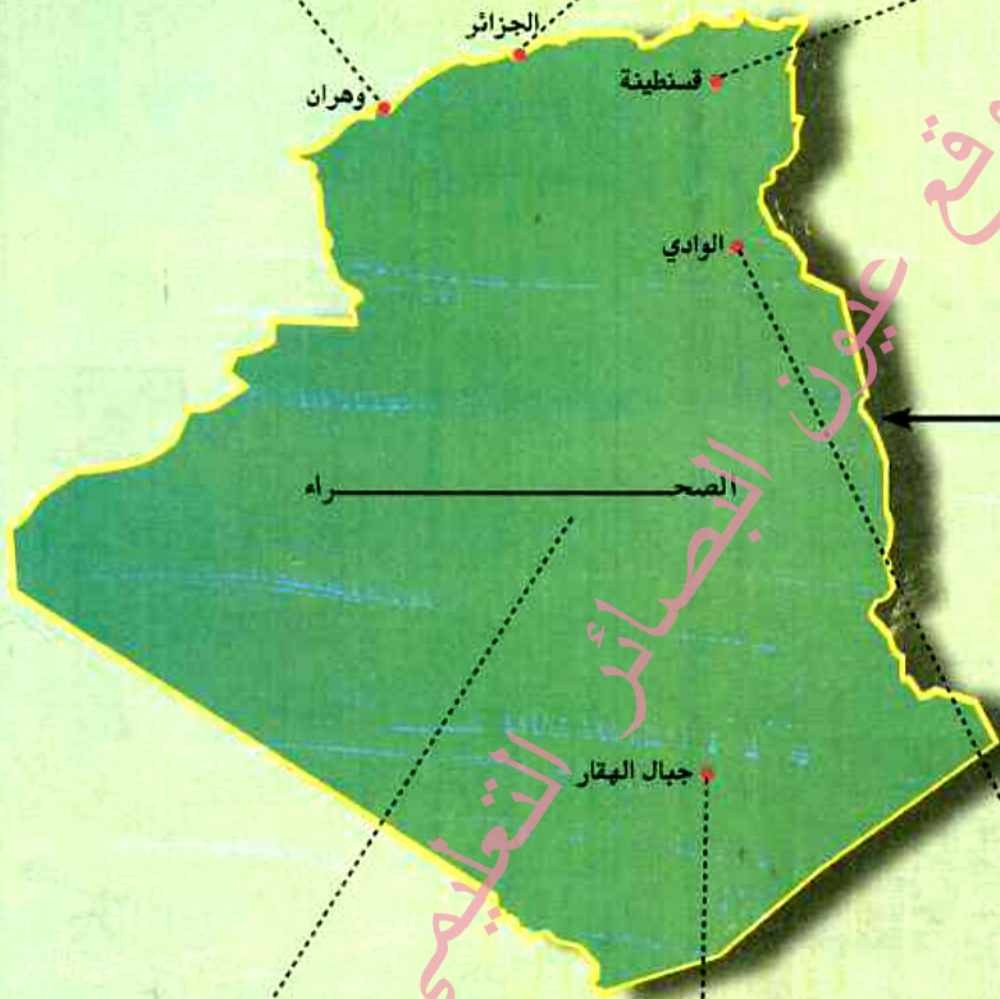


1. الموقع محليا
2. الموقع إقليمي
3. الموقع عالميا



بلادي الجزائر...

تتوسط دول المغرب العربي، وتنتمي إلى حوض البحر الأبيض المتوسط، وهي بوابة إفريقيا، ذات موقع استراتيجي عالمي.



موقع عين بطنان التعليمي

الموقع محليا (البلدية - الولاية)



أتذكر



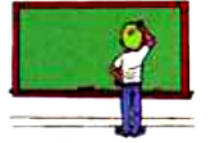
بالرغم من اختلاف المناطق وتشعب الشوارع والأحياء، سواء داخل الوطن أو خارجه، فإنه يمكننا تحديد عنوان أي شخص نرغب في الوصول إليه. كيف؟

شكل (1)

إلى السيد:
لخضر عيسى
حي الكفنان - بلدية المحمدية
الرمز البريدي 16211 - ولاية الجزائر
الجمهورية الجزائرية



البلدية



يتم تحديد عنوان أي شخص بمعرفة بلديته، ثم ولايته، ثم بلده، دون الحاجة إلى معرفة حتى الشارع في بعض البلديات الريفية.

النشاط الأول



ألاحظ وأكتشف



تأمل الوثيقة شكل (1):

إلى أي بلدية أرسلت الرسالة؟



حدد موقعها على الخريطة شكل (3).



أذكر البلديات المجاورة لها، وماذا يحدها من الشمال؟



ما هي البلدية في رأيك؟



في أي بلدية تعيش أنت؟



شكل (2): مقر بلدية المحمدية بولاية الجزائر



النشاط الثاني

ألاحظ وأكتشف



لاحظ البلديات (أ، ب، ج، د) الموجودة في الخريطة شكل (1)، (3) ثم أجب عما يلي:

ما اسم البلدية (أ)؟

ماذا يجدها من الشمال؟

إذن فهي بلدية ساحلية؟

ما اسم البلدية (ب)؟

هل تطل على الساحل؟

على ماذا تطل إذن؟

إذن فهي بلدية داخلية.

تأمل الخريطة شكل (3) التي توضح

بلديات ولاية إيليزي.

لاحظ موقعها ضمن خريطة الجزائر شكل (2).

ماذا يتبين لك؟

إنها بلديات صحراوية.

قارن بين البلديتين (ج) و(د) من حيث المساحة

والامتداد، ماذا تلاحظ؟

أستنتج



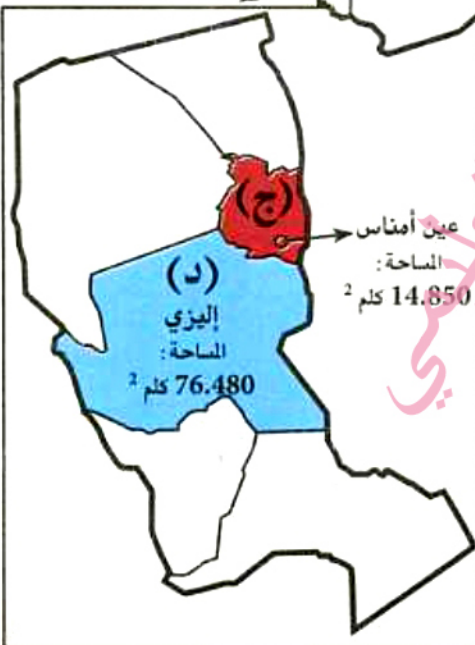
تختلف مساحة البلديات، كما يختلف موقعها الجغرافي فهناك الساحلية مثل بلدية المحمدية، وهناك الداخلية مثل بلدية عين الكرمة، وهناك الصحراوية مثل بلدية إيليزي، وهناك البلديات الحدودية مثل بلدية أم الطبول.



خريطة شكل (1): بلديات ولاية الطارف



خريطة شكل (2)



خريطة شكل (3): بلديات ولاية إيليزي

ما هي بلديتك (ساحلية-داخلية-صحراوية-حدودية)؟





خريطة شكل (1): بلديات ولاية قسنطينة

الولاية



النشاط الثالث



الاحظ واكتشف



لاحظ الخريطة شكل (1):
الذي يمثل مجموع بلديات
قسنطينة

ماذا تكوّن هذه المجموعة من
البلديات؟

إنها الولاية.

قارن بين مساحة أي بلدية
والولاية. ماذا يبدو لك؟

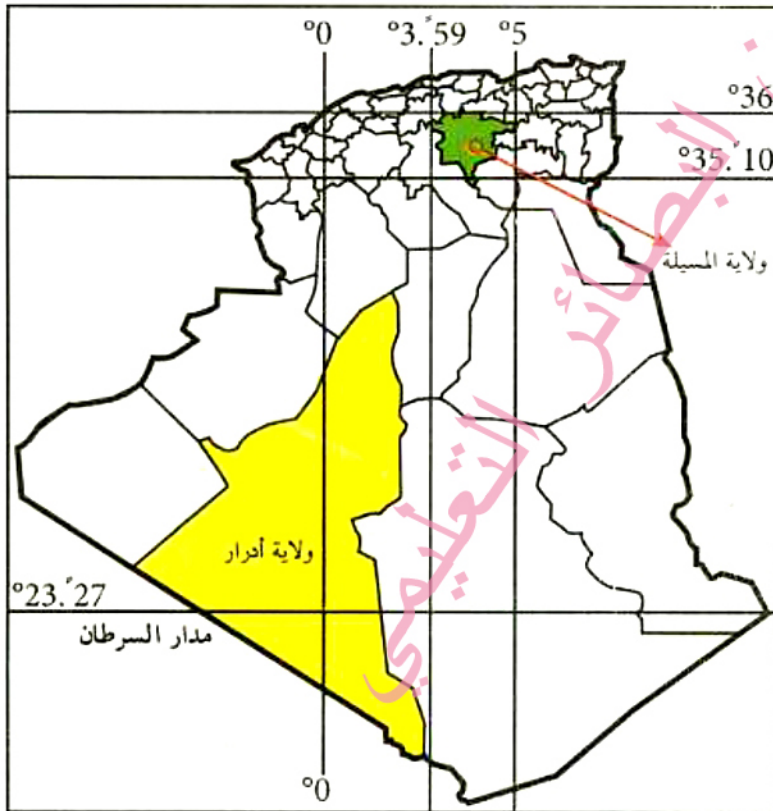
تأمل شكل (2):

ما هي الولاية التي يتقاطع
فيها خط الطول الرئيسي ومدار
السرطان؟

ما هما خطا الطول اللذان
تنحصر بينهما ولاية المسيلة؟

وما هما خطا العرض اللذان تنحصر بينهما ولاية المسيلة؟

إذن حدّد الموقع الفلكي لهذه الولاية.



خريطة شكل (2): الموقع الفلكي لبعض الولايات



أستنتج



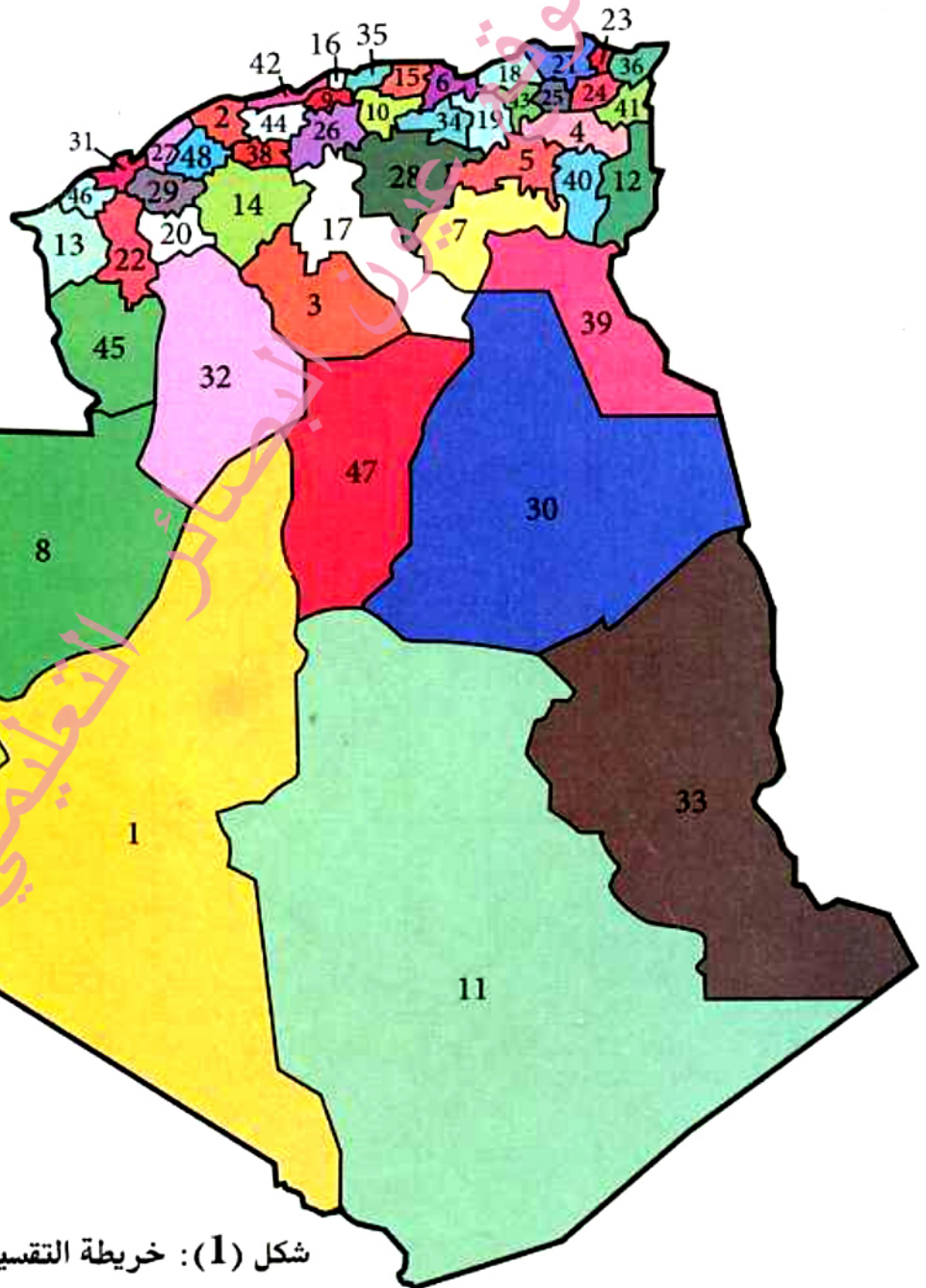
الولاية وحدة جغرافية وإدارية تختلف كل واحدة عن الأخرى من حيث المساحة والنشاط الإقتصادي وعدد السكان لكل ولاية مقر ورقعة جغرافية وحدود معينة.

ما الفرق بين البلدية والولاية؟



أثري معلوماتي:

- | | |
|-----------------|---------------|
| 21 سكيكنة | 01 أدرار |
| 22 سيدي بلعباس | 02 الشلف |
| 23 عنابة | 03 الأغواط |
| 24 قاللة | 04 أم البواقي |
| 25 قسنطينة | 05 باتنة |
| 26 المدية | 06 بجاية |
| 27 مستغانم | 07 بسكرة |
| 28 المسيلة | 08 بشار |
| 29 معسكر | 09 البليدة |
| 30 ورقلة | 10 البويرة |
| 31 وهران | 11 تمنراست |
| 32 البيض | 12 تبسة |
| 33 إيزي | 13 تلمسان |
| 34 برج بوعريبرج | 14 تيارت |
| 35 يومرداس | 15 تيزي وزو |
| 36 الطارف | |
| 37 تندوف | |
| 38 تيسمسيلت | |
| 39 الوادي | |
| 40 خنشلة | |



- | | |
|----------------|------------|
| 41 سوق أهراس | 16 الجزائر |
| 42 تيبازة | 17 الجلفة |
| 43 ميلة | 18 جيجل |
| 44 عين الدفلى | 19 سطيف |
| 45 النعامة | 20 سعيلا |
| 46 عين تيموشنت | |
| 47 غرداية | |
| 48 غليزان | |

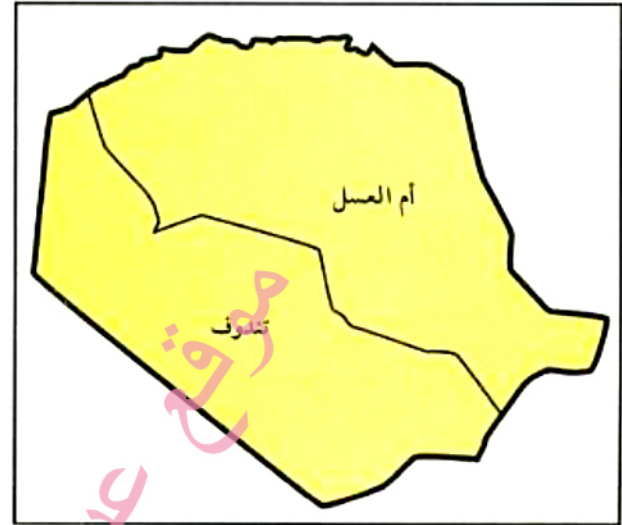
شكل (1): خريطة التقسيم الإداري لسنة 1984

عرفت الجزائر بعد الاستقلال ثلاث تقسيمات إدارية:

- الأولى عند الإستقلال عدد الولايات 15، عدد البلديات 632.
- الثانية سنة 1974 عدد الولايات 31، عدد البلديات 704.
- الثالثة سنة 1984 عدد الولايات 48، عدد البلديات 1541.



خريطة شكل (3): بلديات ولاية سوق أهراس الشمال الجزائري (26 بلدية)



خريطة شكل (2): بلديات ولاية تندوف الجنوب الجزائري (بلديتان)

- مساحة البلدية وحدودها قابلة للتغيير إما بالاتساع أو التقلص وفق التقسيم الإداري.
- بلديات شمال الجزائر صغيرة المساحة كثيرة العدد.
- بلديات جنوب الجزائر (الصحراء) واسعة المساحة قليلة العدد.

أتعلم

- أصغر وحدة في التنظيم الهيكلي الإداري هي البلدية.
- التنظيم الأكبر من البلدية هي الولاية.
- الولاية تضم عددا معينا من البلديات.
- إن اتساع مساحة الجزائر وامتدادها الكبير بين الشرق والغرب والشمال والجنوب أدى إلى:
 - كثرة البلديات الساحلية.
 - كثرة البلديات الحدودية.
- وكلها تعدّ نوافذ على العالم الخارجي البحري والبري.

اوظف معلوماتي



ابحث وأجب:

1. ما هي أهم المعالم التي تتميز بها:
 - أ- بلديتك؟
 - ب- ولايتك؟



عد إلى خريطة التقسيم الإدارية لسنة 1984. صفحة 18 واستعن بها في ملء الجدول التالي:

ولايات ساحلية	ولايات داخلية	ولايات صحراوية	ولايات حدودية	
				1
				2
				3
				4



علل مايلي:

- صغر مساحة ولاية الجزائر وكبر مساحة ولاية أدرار.



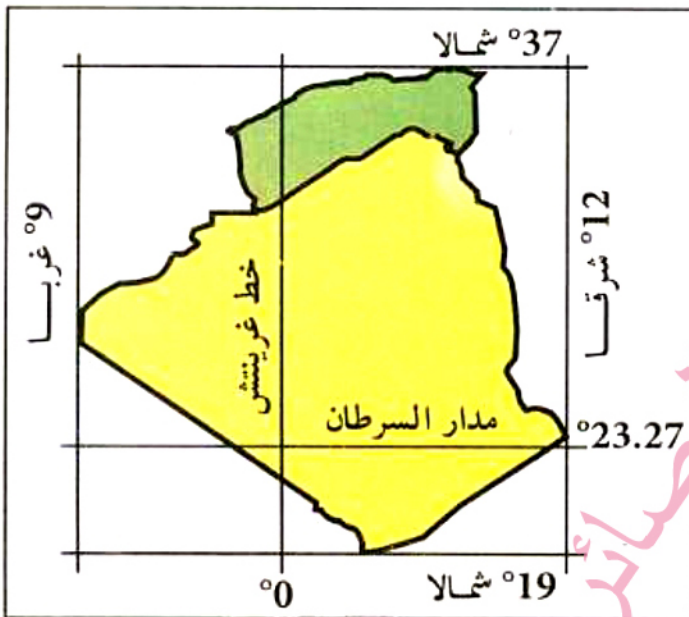
- املا الفراغات: يحد ولاية الجزائر:
- من الشمال:
 - من الغرب:
 - من الشرق:
 - من الجنوب:

التموقع إقليميا

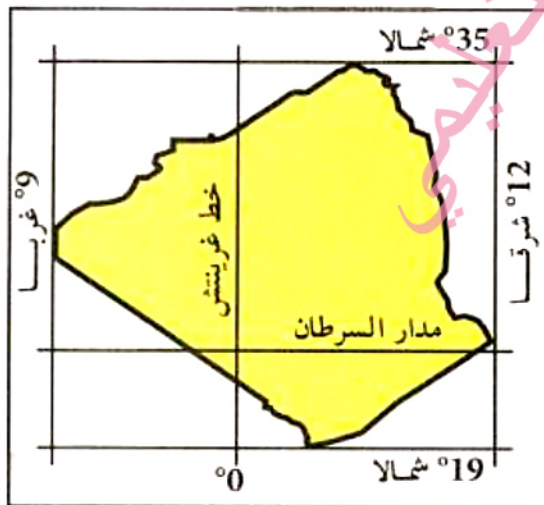


أتذكر

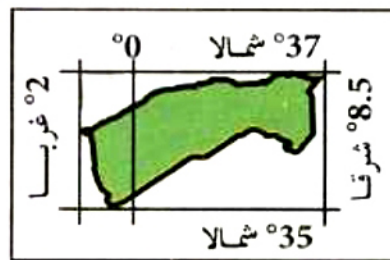
لتحديد موقع ما على سطح الأرض وضع العلماء شبكة من الخطوط الوهمية أطلقوا عليها اسم "خطوط الطول ودوائر العرض".



خريطة شكل (1): الموقع الفلكي للجزائر



خريطة شكل 3: الموقع الفلكي للصحراء



خريطة شكل (2): الموقع الفلكي للشمال

النشاط الأول

الاحظ واكتشف

تأمل الخريطة شكل (1):

ماذا تمثل؟

حدد خطي الطول اللذين تنحصر

بينهما الجزائر.

حدد دائرتي العرض اللتين تنحصر

بينهما الجزائر.

تأمل الخريطة شكل (2):

حدد موقعها الفلكي.

ماذا تمثل؟

تأمل الخريطة شكل (3):

ماذا تمثل؟

حدد موقعها الفلكي.

يمر بالجزائر خطان رئيسيان ما هما؟



أستنتج



تقع الجزائر بين خطي طول 12° شرقا و 9° غربا وبين دائرتي عرض 19° و 37° شمالا.

يمر بالجزائر خطان رئيسيان هما:

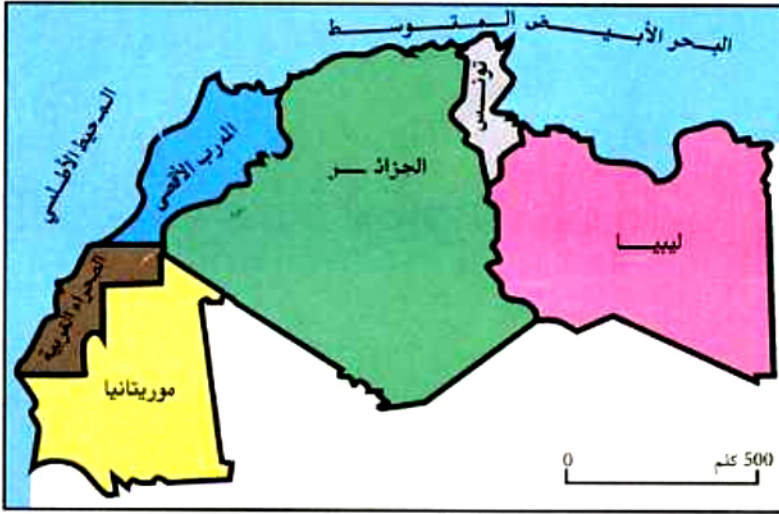
- خط غرينيتش ودرجته 0° ويمر بالغرب الجزائري قرب مدينة مستغانم.

- مدار السرطان ودرجته 23.27° شمالا ويمر إلى الشمال من مدينة تامنراست.

من خلال الخريطة شكل (1) استنتج عدد خطوط الطول ودوائر العرض التي تمر بالجزائر.



الجزائر صورة مأخوذة عن طريق القمر الاصطناعي



النشاط الثاني

الاحظ واكتشف

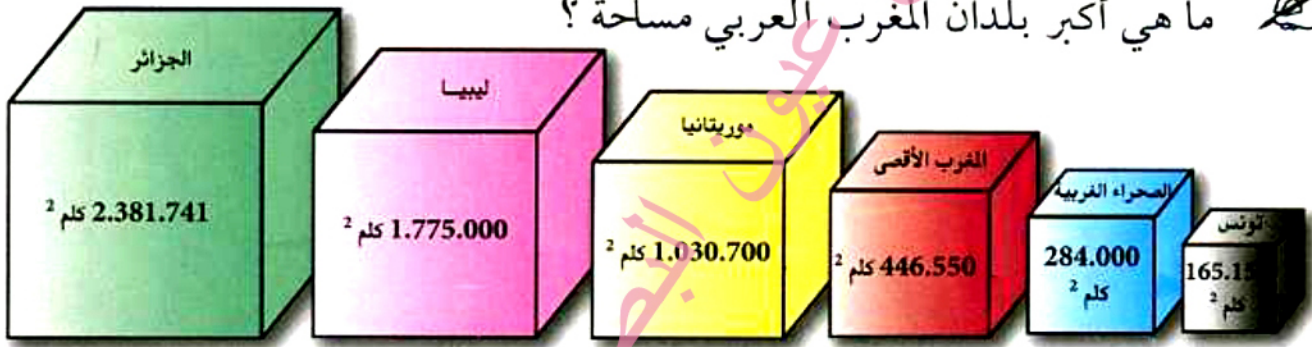
لاحظ الخريطة شكل 1 (أ-ب):

الخريطة شكل (1-أ): مساحة الجزائر بالنسبة لبلدان المغرب العربي

أين تقع الجزائر بالنسبة لبلدان المغرب العربي؟

للجزائر حدود مشتركة مع أي بلد من هذه البلدان؟

ما هي أكبر بلدان المغرب العربي مساحة؟



الشكل (1-ب): مكعبات بيانية تمثل مساحات بلدان المغرب العربي

لاحظ الخريطة شكل (2):



خريطة شكل (2): حوض البحر الأبيض المتوسط



ما هو البحر الذي تطل عليه الجزائر؟

من أين يبدأ الساحل الجزائري وأين ينتهي؟

ما هي أكبر بلدان حوض البحر الأبيض المتوسط مساحة؟

أستنتج

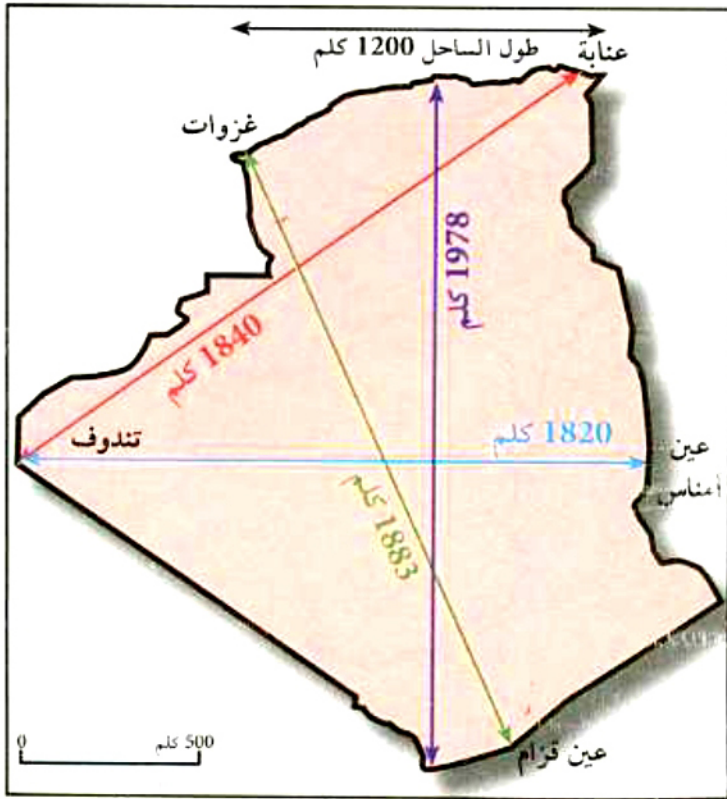


الجزائر إحدى بلدان المغرب العربي لها حدود مشتركة مع جميع دوله، هي أيضا إحدى بلدان حوض البحر الأبيض المتوسط. تحتل الجزائر المرتبة الأولى من حيث المساحة بالنسبة لبلدان المغرب العربي وبلدان حوض البحر الأبيض المتوسط.



الشكل (3): ورده الاتجاهات

استعمل ورده الاتجاهات شكل (3) لتحديد موقع بلدان المغرب العربي بالنسبة للجزائر.



الخريطة شكل (1): أبعاد الجزائر بالأرقام



الشكل (2): مدينة تندوف الحدودية

النشاط الثالث



الاحظ واكتشف



تأمل الخريطة شكل (1):

ثم أجب عما يلي:

- ماذا تمثل هذه الخريطة؟
- كم يقدر طول ساحل الجزائر؟
- كم تبلغ المسافة بين أقصى الشمال وأقصى الجنوب؟

كم تقدر المسافة بين الغزوات وعين قزام؟

كم تقدر المسافة بين تندوف وعنابة؟

وبين تندوف وعين أمناس؟

ماذا يمكنك أن تستنتج من خلال هذه الأبعاد؟

أستنتج



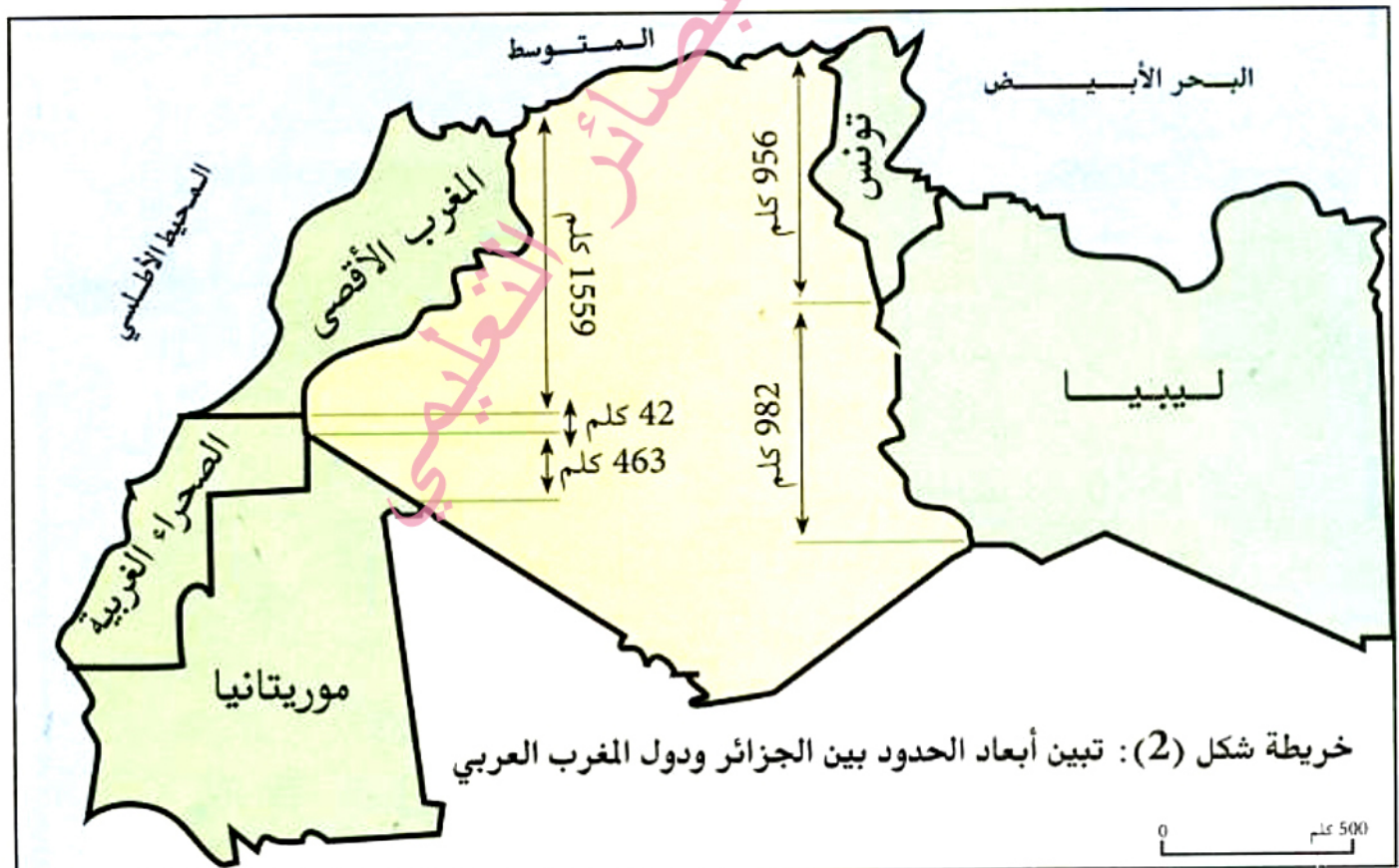
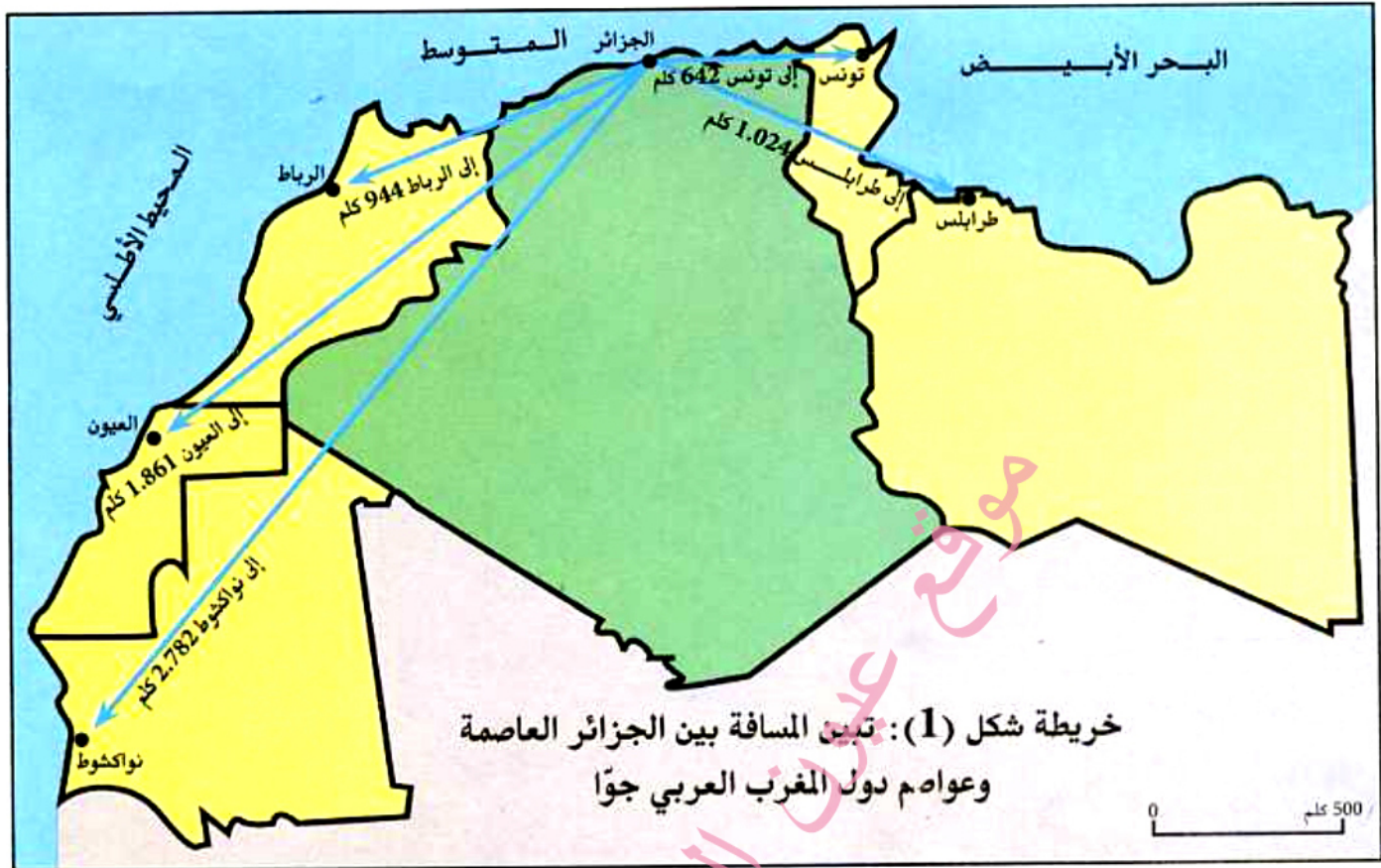
- للجزائر امتداد كبير بين الشرق والغرب والشمال والجنوب. أبعاد الجزائر كالتالي: - من الشمال إلى الجنوب 1978 كلم.
- من تندوف إلى أقصى الشمال الشرقي 1840 كلم.
 - من تندوف إلى الشرق (الحدود) 1820 كلم.
 - من أقصى الشمال الغربي إلى الجنوب 1883 كلم
 - طول الساحل 1200 كلم.

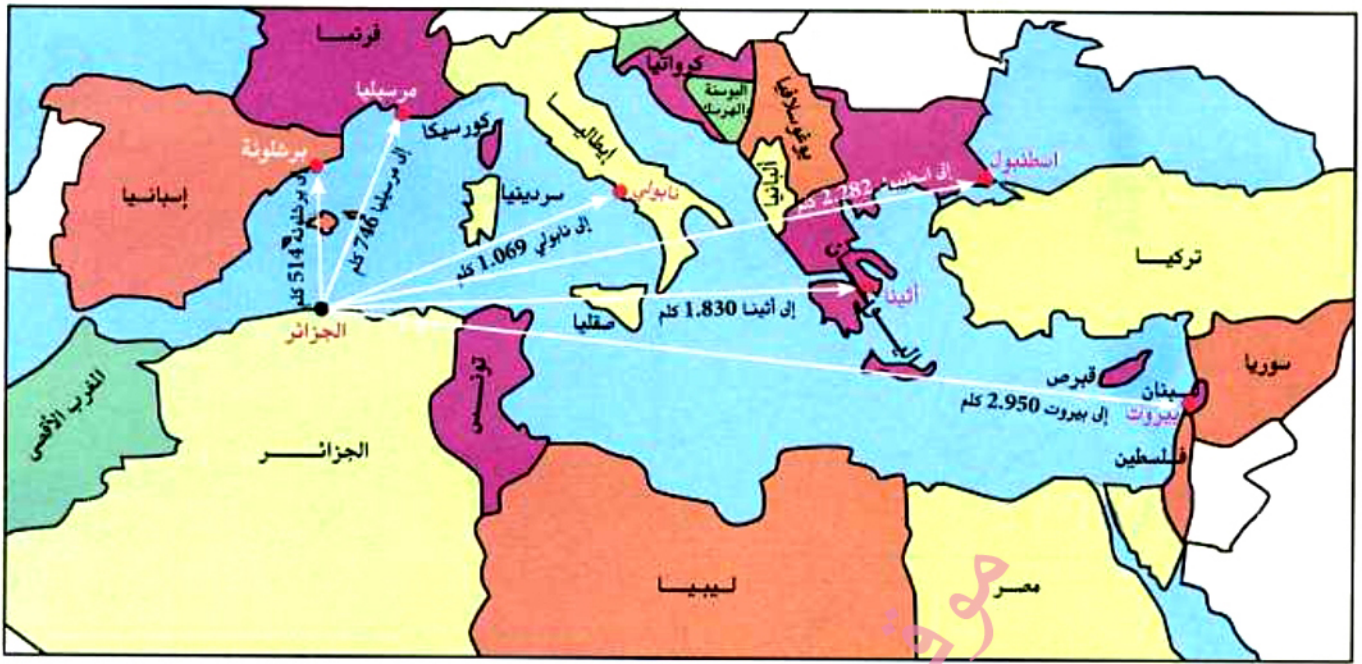
حدد موقع ولايتك فلكيا وجغرافيا.





أثري معلوماتي:





خريطة شكل (3): المسافة بين الجزائر العاصمة وبعض المدن المطلة على البحر الأبيض المتوسط جواً




الشكل (5): مساحة الجزائر بالنسبة لدول أوروبا المطلة على البحر الأبيض المتوسط

الشكل (4): مساحة الجزائر بالنسبة للمغرب العربي


أتعلم

- تتوسط الجزائر بلدان المغرب العربي وبلدان حوض البحر الأبيض المتوسط.
- هي الدولة الوحيدة التي ترتبط بحدود جغرافية مع كل بلدان المغرب العربي.
- للجزائر واجهة شمالية على البحر الأبيض المتوسط تمتد من القالة على الحدود التونسية شرقاً إلى الغزوات على الحدود المغربية غرباً بطول 1200 كلم.
- موقع الجزائر الاستراتيجي جعلها محل تنافس وأطماع استعمارية عبر التاريخ مما يحتم عليها أن تكون دائماً التأهب.

اوظف معلوماتي



- إليك خريطة المغرب العربي:
- انقلها على كراستك بواسطة ورق شفاف ثم قم بما يلي:
 - أ- أكتب أسماء هذه الدول.
 - ب- رتبها حسب المساحة في جدول.
 - ج- عين الدول التي يمر بها مدار السرطان.



- سافر فريد مع أبيه من مدينة تندوف إلى الجزائر العاصمة على مراحل كما يلي:
- (تندوف - بشار)، (بشار - مستغانم)، (مستغانم - الجزائر العاصمة).
- أوجد المسافة لكل مرحلة مستعينا بمقياس رسم خريطة المواصلات.
 - ب- أوجد المسافة العامة.



- أمامك خريطة الجزائر أنقلها على كراستك بواسطة ورق شفاف ثم قم بما يلي:
- أ- أكتب عليها حدود الجزائر.
 - ب- أكتب طول الساحل وطول الحدود مع كل دولة.
 - ج- أرسم خط غرينيتش.
 - د- أرسم مدار السرطان.



موقع الجزائر قاريا وعالميا



أتذكر



- * كم تبلغ مساحة الجزائر؟ وما هي أبعادها؟
- * ما موقعها بالنسبة لحوض البحر الأبيض المتوسط؟

النشاط الأول

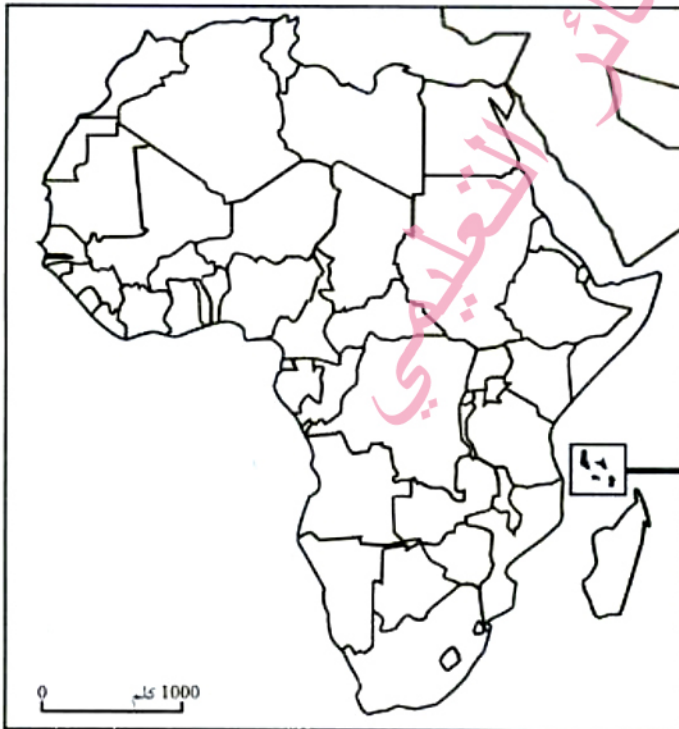


ألاحظ وأكتشف

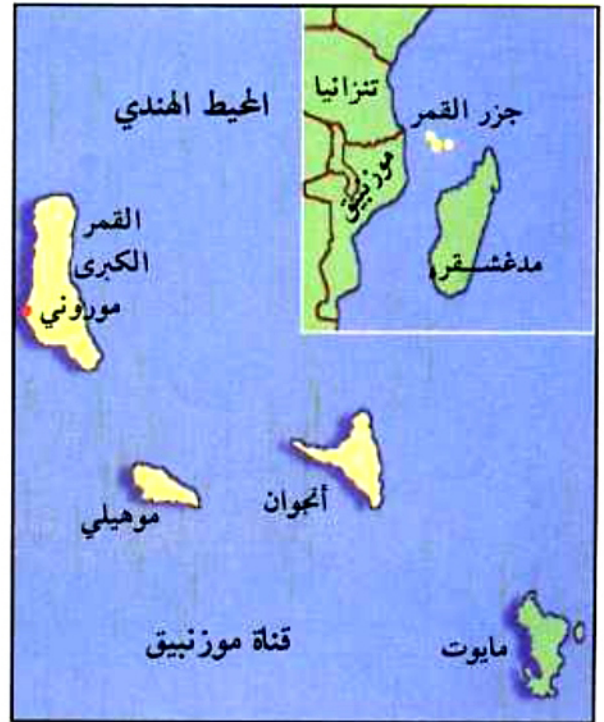


تأمل الخريطتين شكل (1)، (2):

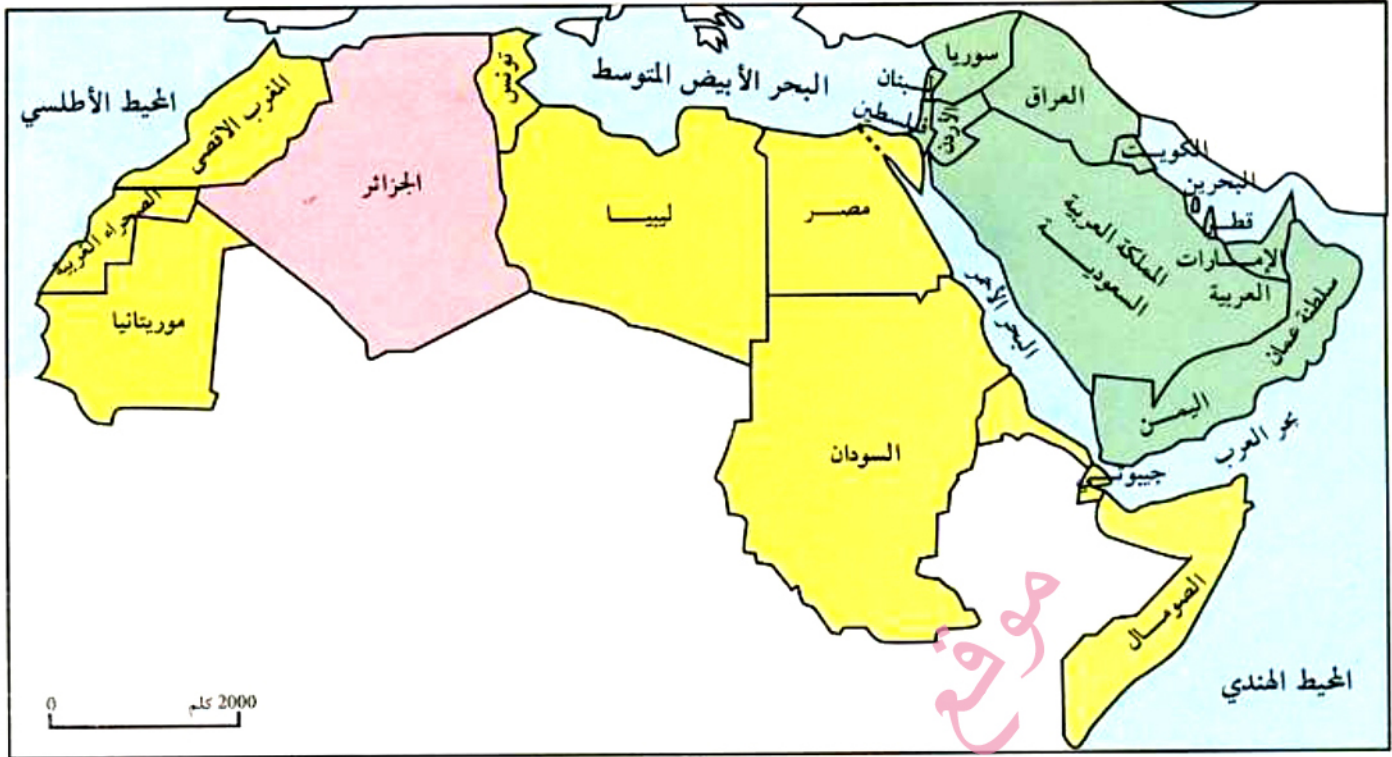
إذا تأملت الخريطة شكل 1 تجد 22 دولة، وإذا أضفت إليها الدولة الموجودة في الخريطة شكل (2) وهي دولة جزر القمر، يصبح عدد هذه الدول 23 دولة.



خريطة شكل (3): موقع جزر القمر من إفريقيا



خريطة شكل (2): جزر القمر



خريطة شكل (1): الوطن العربي

كيف تسمى هذه المجموعة من الدول؟

في أي قارة توجد الدول ذات اللون الأصفر؟

في أي قارة توجد الدول ذات اللون الأخضر؟

تأمل خريطة الجزائر ضمن هذه البلدان.

كيف يبدو لك موقعها؟

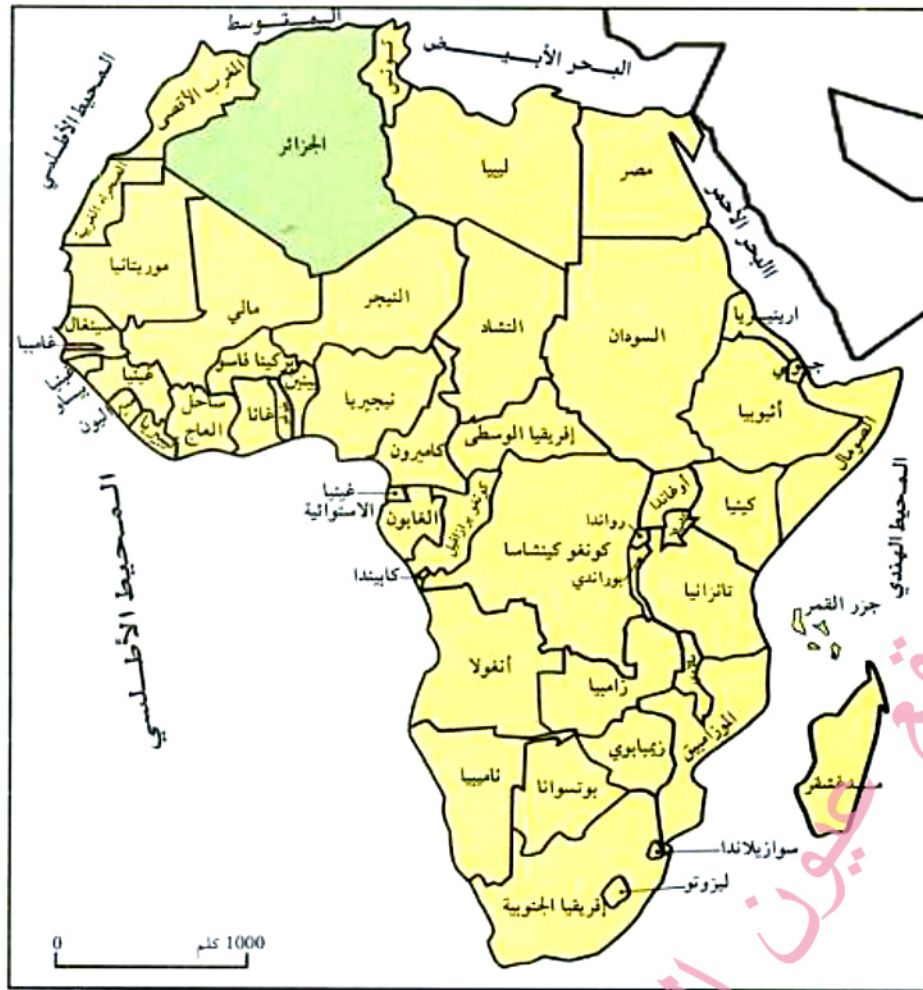
أستنتج



الجزائر إحدى بلدان الوطن العربي، وهي تقع في الجناح الغربي منه، أي في الجزء الإفريقي.

ما الذي يفصل الجزء الإفريقي من الوطن العربي عن الجزء الآسيوي؟





خريطة شكل 1 : قارة إفريقيا

النشاط الثاني



ألاحظ واكتشف



تأمل الخريطة شكل (1):

ما اسم هذه القارة؟



لاحظ عدد دولها.



حدد موقع الجزائر



ضمن هذه الدول.

أذكر الدول التي



لها حدود مشتركة مع

الجزائر وعددها.

كيف يبدو لك امتداد الجزائر في



هذه القارة؟

يقال بأن الجزائر بوابة إفريقيا



استعن بالخريطة شكل (1) لتوضيح ذلك.



الشكل (2): من التراث الإفريقي


أستنتج



تقع الجزائر شمال قارة إفريقيا، لها حدود مشتركة مع عديد من دولها.

هل اشتراك الجزائر في الحدود مع العديد من دول إفريقيا في صالحها أم لا؟
كيف؟





▲ من قارة أوروبا (مدريد)



▲ من قارة إفريقيا (دكار)

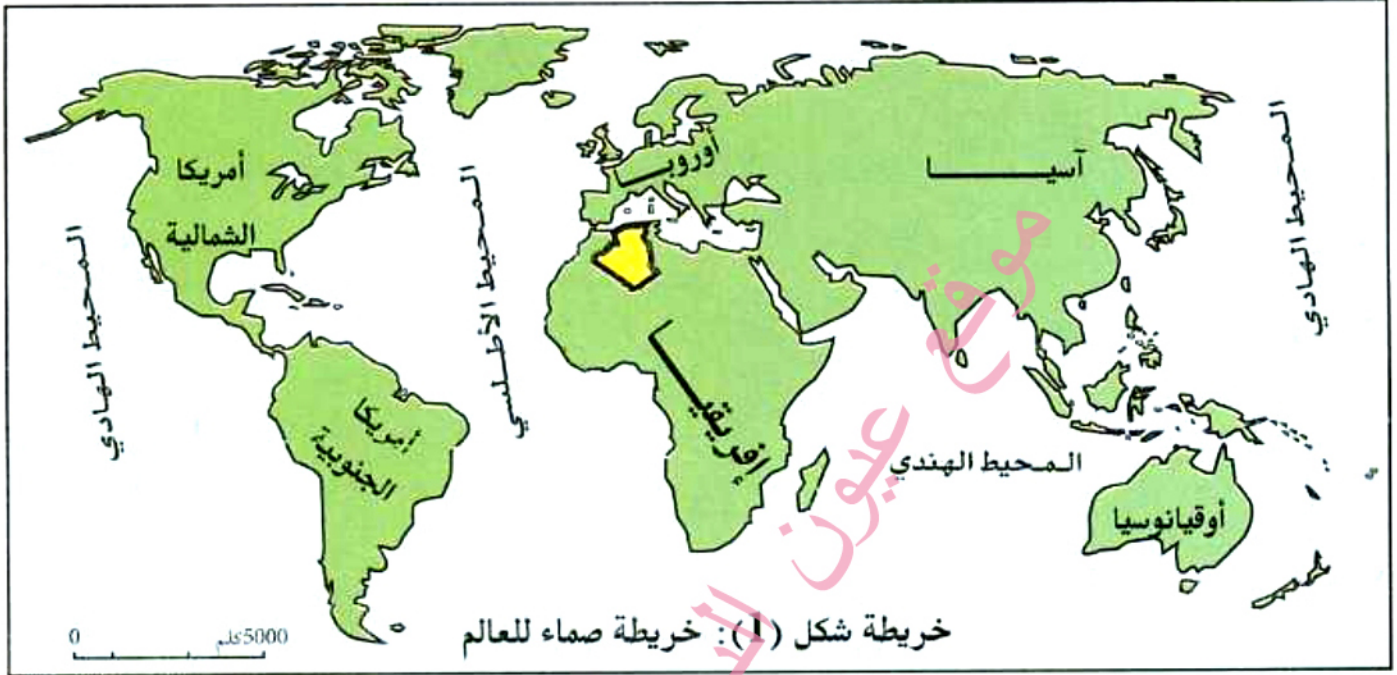
النشاط الثالث



الاحظ واكتشف



تأمل الخريطة شكل (1):



▲ من قارة آسيا (طوكيو)



▲ من قارة أوقيانوسيا (سيدني)



▲ من قارة أمريكا (نيويورك)

أحسب عدد قارات العالم مع ذكر أسمائها.

ما موقع الجزائر بالنسبة لإفريقيا؟

ما موقع الجزائر بالنسبة لأوروبا؟

ما موقع الجزائر بالنسبة لآسيا وأوقيانوسيا؟

ما موقع الجزائر بالنسبة لأمريكا؟

كيف يبدو لك موقع الجزائر ضمن قارات العالم؟

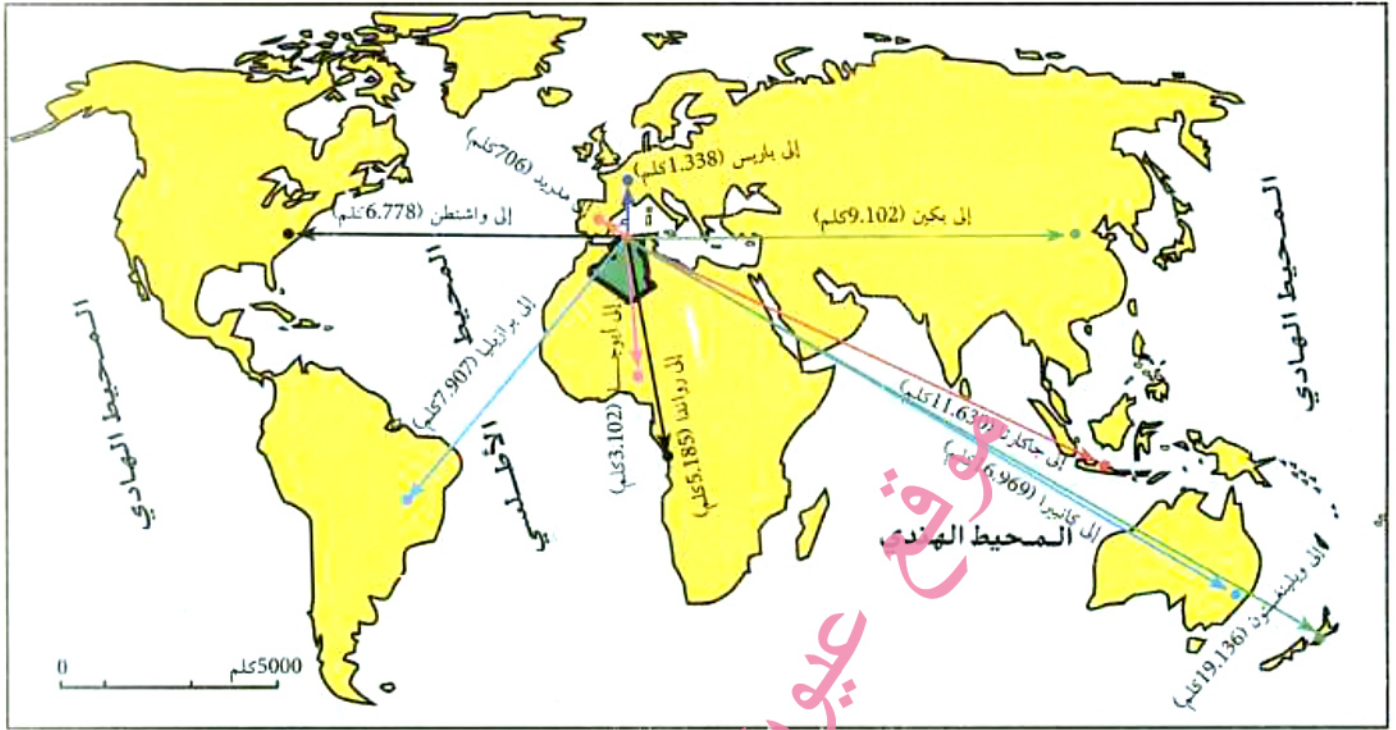
أستنتج



تتوسط الجزائر بلدان العالم تقريبا

وبذلك فهي تحتل موقعا هاما.

من خلال معطيات الخريطة شكل (2) إملأ الجدول شكل (3).

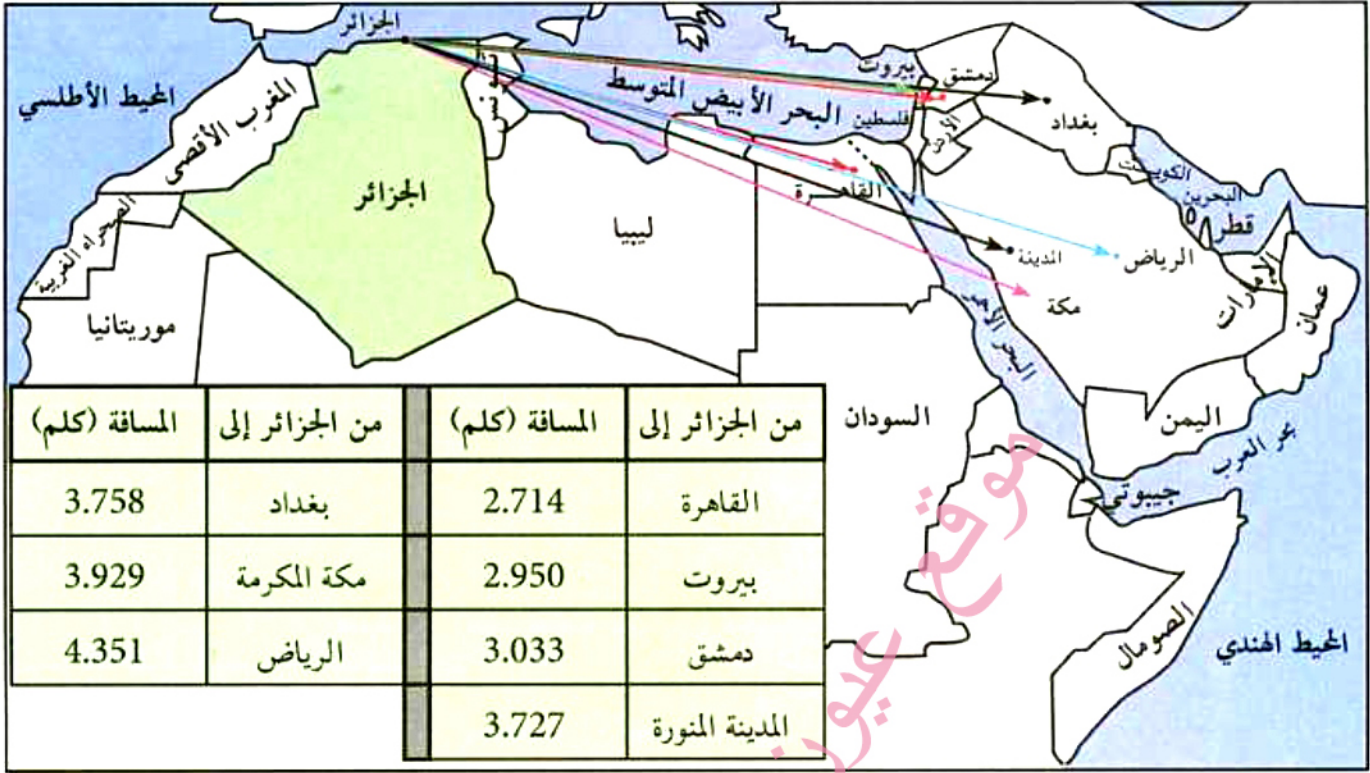


خريطة شكل (2): المسافة بين مدينة الجزائر وبعض العواصم العالمية جواً

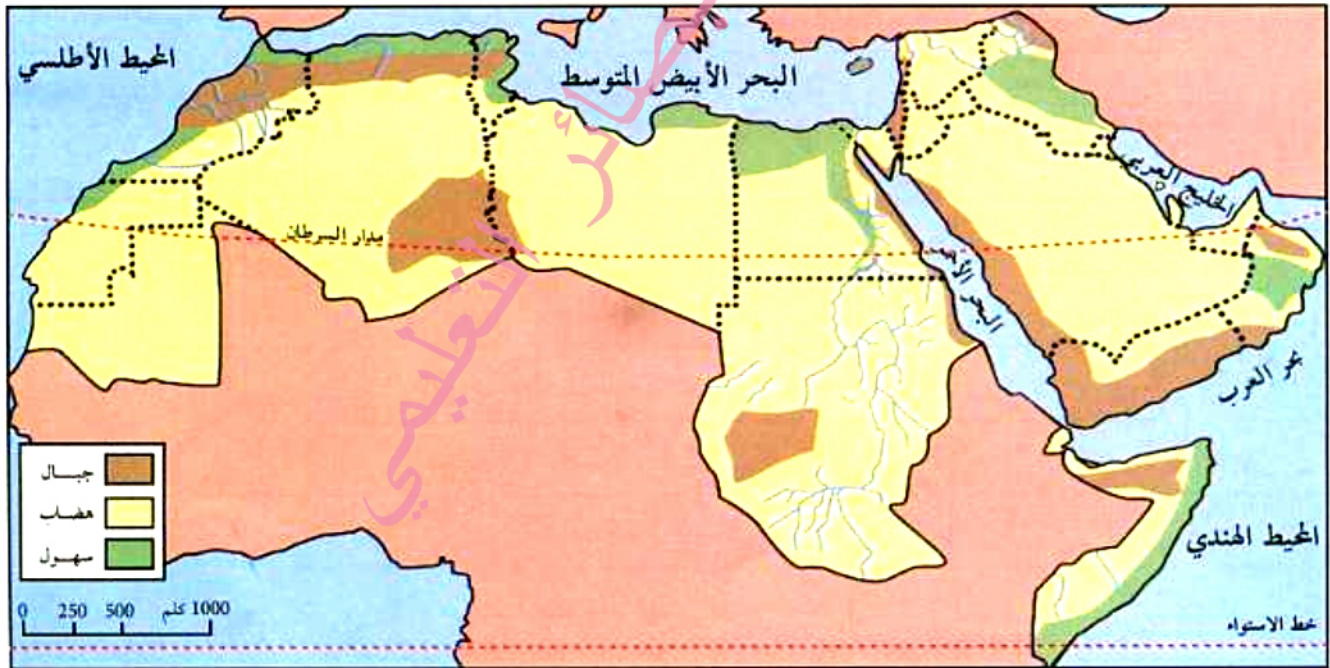
القارة	المسافة من الجزائر إلى	المسافة (كلم)
أمريكا الشمالية	واشنطن (عاصمة الولايات المتحدة)
أمريكا الجنوبية	برازيليا (عاصمة البرازيل)
آسيا	بيكين (عاصمة الصين)
	جاكارتا (عاصمة أندونيسيا)
إفريقيا	أبوجا (عاصمة نيجيريا)
	لواندا (عاصمة أنغولا)
أوروبا	باريس (عاصمة فرنسا)
	مدريد (عاصمة إسبانيا)
أوقيانوسيا	كانبيرا (عاصمة أستراليا)
	ويلينغتون (عاصمة نيوزيلاندة)

الجدول شكل (3)

أثري معلوماتي :

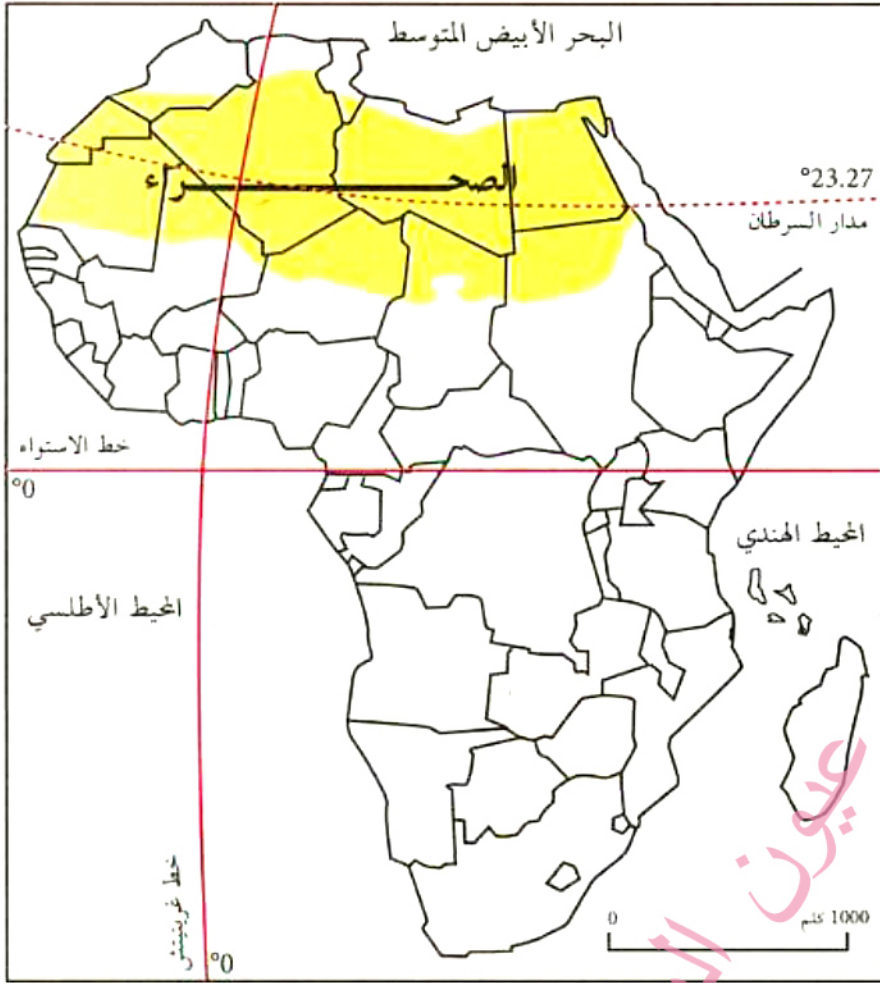


خريطة شكل (1): المسافة بين مدينة الجزائر وبعض المدن العربية جواً



خريطة شكل (2): الوطن العربي طبيعياً

ليست هناك حواجز طبيعية صعبة، أو موانع مائية كبرى تعيق التواصل بين أبناء الوطن العربي في مختلف دوله.



تأمل الخريطة شكل (3):

• إفريقيا

- المساحة: 30 مليون كلم².
- الامتداد: 8000 كلم من الشمال إلى الجنوب.
- الموقع الفلكي: 37° شمالا - 35° جنوبا.
- عدد السكان: 800 مليون نسمة.

رغم كبر الصحراء فإن علاقات الجزائر بإفريقيا لم تتوقف يوما ما

خريطة شكل (3): الصحراء الإفريقية الكبرى

أتعلم

- تحتل الجزائر موقعا هاما ضمن بلدان الوطن العربي وإفريقيا كما تتوسط بلدان العالم.
- هذا الموقع جعلها طريق اتصال بين قارات العالم بوا، بحرا، وجوا، فهي منطقة عبور إفريقية أوروبية وآسيوية، وملتقى حضارات العالم عبر العصور.



منظر عام للجزائر العاصمة

أوظف معلوماتي

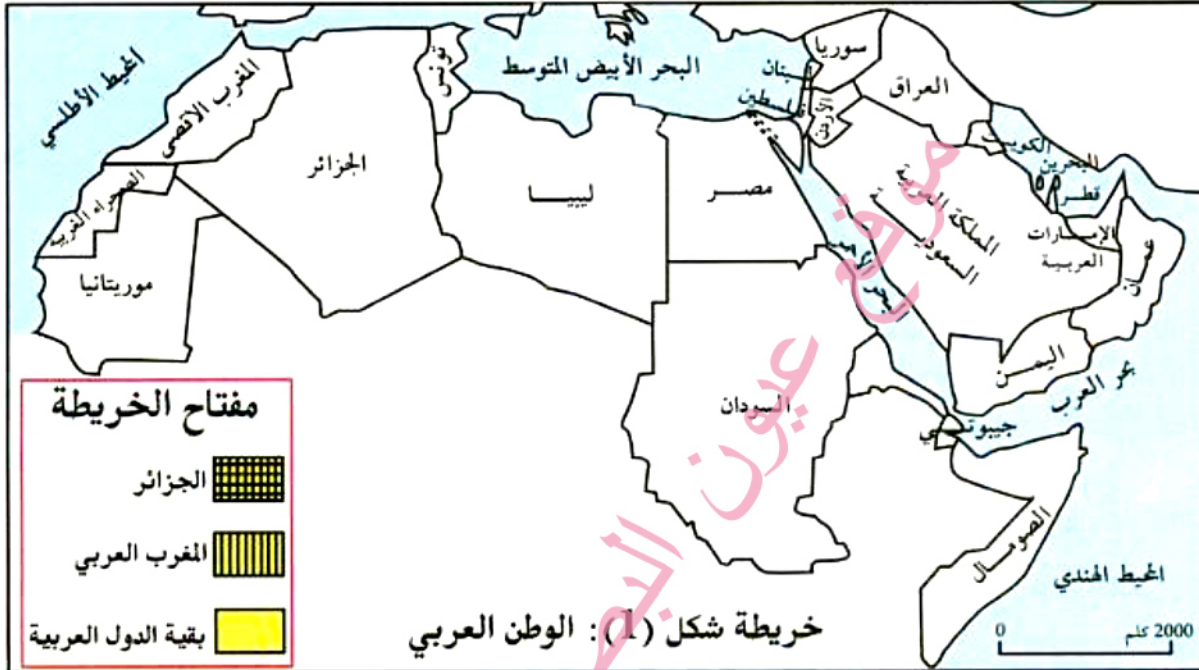


أمامك خريطة الوطن العربي شكل (1).

أ- انقل الخريطة بواسطة ورق شفاف على كراستك.

ب- لون الخريطة وفق المفتاح.

ج- أكتب في بضعة أسطر أهمية موقع الجزائر بالنسبة للمغرب العربي والوطن العربي



استعن بخريطة الوطن العربي شكل (1) لملء الجدول التالي:

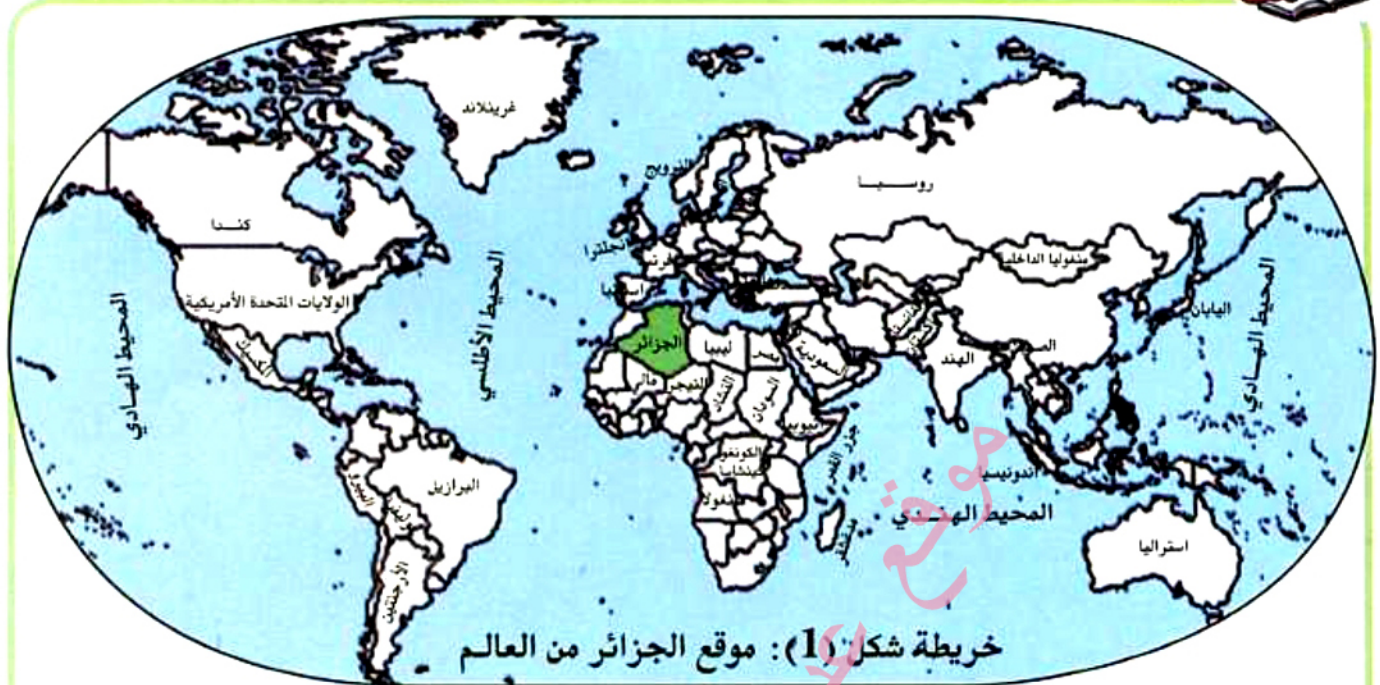
دول عربية إفريقية لها حدود مشتركة مع الجزائر	دول عربية آسيوية ليست لها حدود مع الجزائر
-1	-1
-2	-2
-3	-3
-4	-4
-5	-5

جدول شكل 2



الجزائر بوابة إفريقيا. كيف؟

نشاط إدماجي



استعن بخريطة العالم شكل (1) لملء الجدول التالي:

دول من القارة أوقيانوسيا	دول من القارة الأوروبية	دول من القارة الآسيوية	دول من القارة الأمريكية	دول من القارة الإفريقية
-1	-1	-1	-1	-1
-2	-2	-2	-2	-2



أراد أحد المغتربين الجزائريين حضور مهرجان تيمقاد الدولي، حطت به الطائرة في مطار هواري بومدين بالجزائر العاصمة.
أرسم له المسار الذي سيسلكه للوصول إلى ولاية باتنة حيث يقام المهرجان. مع ذكر الولايات التي يمر بها في طريقه.
ملاحظة: استعن بالخريطة ص 18 شكل (1).



اشرح أهمية موقع الجزائر.



استعن بما تعلمته لإكمال التعابير التالية:

- طول الساحل الجزائري:
- طول الخط المستقيم الرابط بين تندوف وعنابة:
- مساحة الجزائر:
- عدد ولايات الجزائر:
- عدد بلديات الجزائر:
- مساحة إفريقيا:
- مساحة الوطن العربي:
- المسافة بين الجزائر والقاهرة:
- المسافة بين الجزائر وبغداد:



عقدت صداقة عبر الانترنت مع أحد أطفال بلد آخر فسألك عن موقع وطنك الجزائر وأهمية هذا الموقع.

- أجبه في بضعة أسطر.



املاً الفراغات بالكلمات التالية:

الوطن العربي - 12° شرقاً و 9° غرباً - 19° و 37° شمالاً - البحر الأبيض المتوسط - مدار السرطان - 2.381.741 كلم² - إفريقيا - 30 مليون كلم².

الجزائر هي إحدى دول تمتد بين خطي طول.....
 ودرجتي عرض.....يحدها من الشمال.....
 ويمر في جنوبها.....مساحتها تقدر ب.....
 من مساحة.....البالغة.....



إملا الجدول التالي:

الدولة	المساحة	العاصمة	طول حدودها مع الجزائر
ليبيا			
تونس			
المغرب			
الصحراء الغربية			
موريتانيا			



استعن بالخريطة صفحة 18 وإملا الفراغات التالية:

- قد تكون الولاية صحراوية، وفي نفس الوقت حدودية مثل:
- قد تكون الولاية ساحلية، وفي نفس الوقت حدودية مثل:
- قد تكون الولاية داخلية، وفي نفس الوقت حدودية مثل:



تتنوع ثروات البلديات وإمكاناتها الاقتصادية:

- بلديات حدودية تقع بها مراكز عبور ذات موارد مالية بسبب نشاطها التجاري مثل: بلدية مغنية بالغرب الجزائري.
- بلديات ذات ثروات طبيعية باطنية أو سطحية مثل: بلدية الونزة الغنية بالحديد وبلدية حاسي مسعود الغنية بثروة البترول.
- بلديات ذات ثروات فلاحية تعتمد أساسا في دخلها المالي على نشاطها الزراعي أو الرعوي أو الصيد البحري مثل: بلدية بني صاف وبلدية الجلفة، وبلدية الشبلي.
- بلديات سياحية وهي البلديات التي تساهم السياحة بنصيب كبير في دخلها المالي مثل: بلدية تيبازة، تمقاد، جميلة.
- استبدل البلديات الآتية الموجودة في النص ببلديات أخرى: مغنية، الونزة، حاسي مسعود، بني صاف، الجلفة، تيمقاد.

جغرافية الجزائر




1. مظاهر السطح في الجزائر
2. المناخ والنبات
3. الموارد الطبيعية

موقع عينون البضائذ التعليمية

بلادي الجزائر...

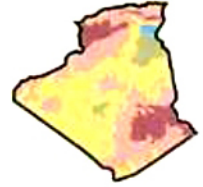
من أجمل البلدان، ذات مظاهر طبيعية خلابة، ومناخ متنوع، وثروات باطنية وسطحية مختلفة.



موقع عين البضائر الشمالي



مظاهر السطح في الجزائر



أتذكر



سبق وعرفت أن الجزائر ذات امتداد كبير بين الشمال والجنوب والشرق والغرب.

أ- هل لهذا الامتداد أثر على تنوع التضاريس؟

ب- هل هذه التضاريس متشابهة بين شمال البلاد وجنوبها؟

النشاط الأول



الاحظ واكتشف



لاحظ الخريطة شكل (1)، التي تمثل تضاريس الجزائر ثم أجب عما يلي:

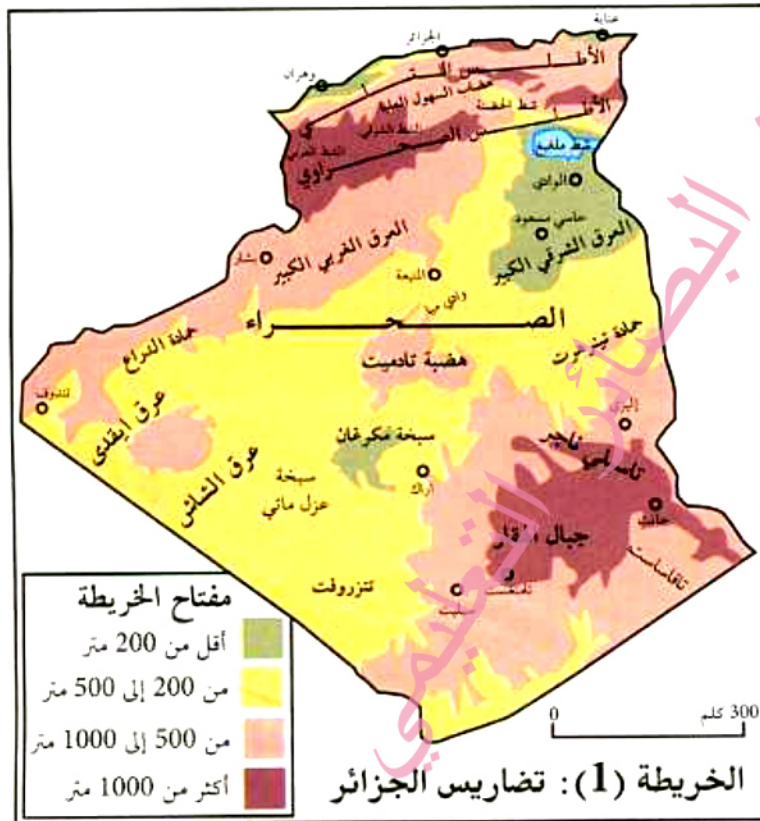
أذكر أنواع التضاريس.

أين يقع كل نوع منها؟

قارن بين شمال البلاد وجنوبها.

بم يتميز كل قسم منهما؟

أي القسمين أكبر مساحة؟



أستنتج



تتنوع تضاريس الجزائر من جبال وسهول وهضاب وصحراء.

مدار السرطان يمر بالصحراء الجزائرية. هل هناك علاقة بين مدار السرطان ووجود الصحراء؟



النشاط الثاني

الاحظ واكتشف

لاحظ الخريطة شكل (1) الذي يمثل الشريط الساحلي، أي المنطقة الفاصلة بين اليابسة والماء، أو ما يسمى بسيف البحر ثم حاول الاجابة عن الأسئلة التالية.



خريطة شكل (1): الساحل الجزائري بأهم رؤوسه وخلجانه



شكل (2): بلدية الغزوات

من أين يبدأ هذا الشريط وإلى أين ينتهي؟

كيف يبدو شكله؟

ما هي الرؤوس التي تتخلله؟

ما هي الخلجان التي توجد به؟

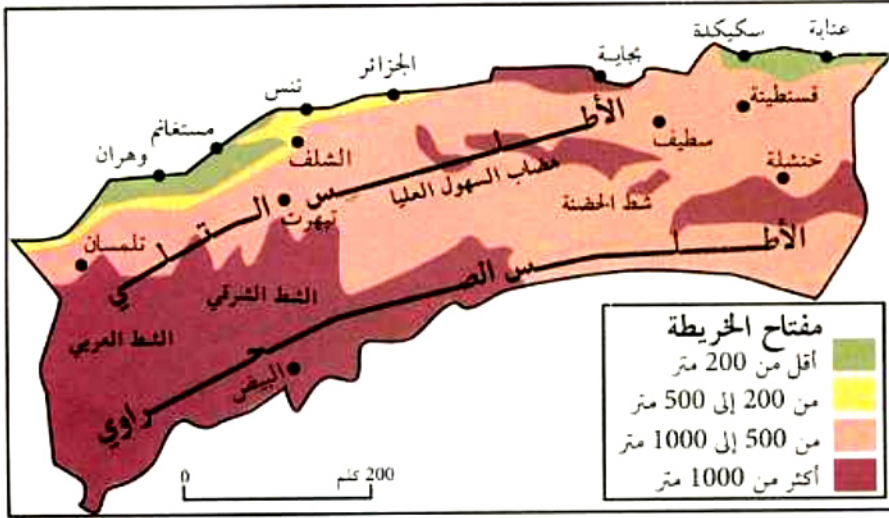
أستنتج



تطل الجزائر على البحر الأبيض المتوسط بساحل متعرج يمتد من بلدية الغزوات غربا إلى بلدية القالة شرقا بطول 1200 كلم.

فيم تبدو أهمية الساحل الجزائري؟





خريطة شكل (1): تضاريس شمال الجزائر

النشاط الثالث

الإنظ واكتشف

لاحظ الخريطة شكل (1) التي تمثل تضاريس شمال الجزائر:



شكل (2): جبال من السلسلة التلية



شكل (3): جبال من السلسلة الصحراوية

كم سلسلة جبلية في

الجزائر؟ وأين تقع كل منها؟

ماذا تسمى كل سلسلة؟

لماذا؟

ما هو الاتجاه العام لكل سلسلة؟

ما هي أهم جبال السلسلة الأولى؟

على ماذا تطل شمالا وجنوبا؟

أذكر أهم جبال السلسلة الثانية.

على ماذا تطل شمالا وجنوبا؟

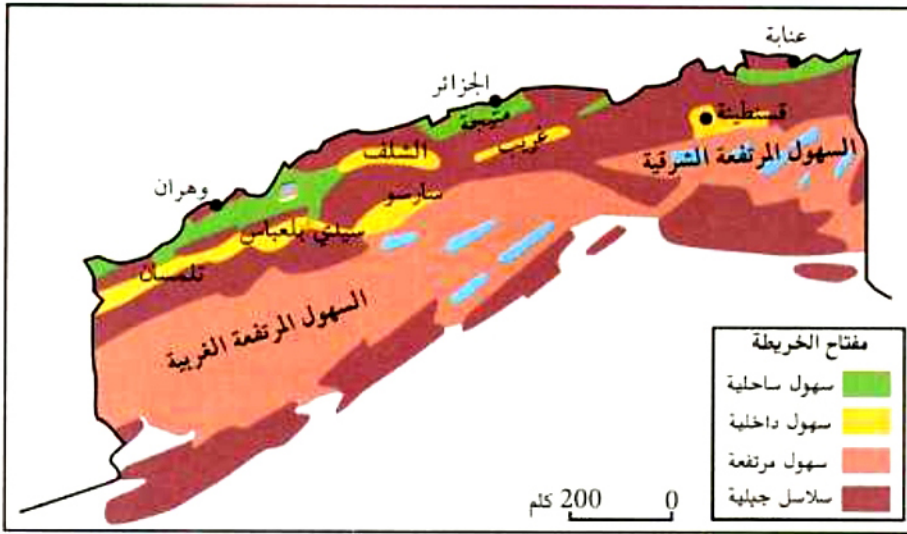
أستنتج

توجد بشمال الجزائر سلسلتان جبليتان هما:

أ- سلسلة الاطلس التلي.

ب- سلسلة الاطلس الصحراوي.

لماذا تسمى السلسلة الأولى بالأطلس التلي، والثانية بالأطلس الصحراوي؟



خريطة شكل (1): السهول الجزائرية

النشاط الرابع



الأحظ واكتشف



لاحظ الخريطة شكل (1):

اقرأ أسماء السهول



الساحلية.

كيف تراها؟



هي محصورة بين ماذا وماذا؟



ما سبب قلة هذه السهول في رأيك؟



لاحظ السهول الداخلية.

اقرأ أسماءها.



حدد موقعها. كيف تراها؟



قارن بينها وبين السهول الساحلية



شكل (2): سهل متيجة (أغنى سهول الجزائر)



شكل (3): سهل غريب

أستنتج



هناك نوعان من السهول شمال الجزائر:

أ- سهول ساحلية: تشرف على البحر

ب- سهول داخلية: بعيدة نسبياً عن البحر

لماذا نجد السهول الساحلية ضيقة، قليلة الامتداد نحو الداخل؟





النشاط الخامس

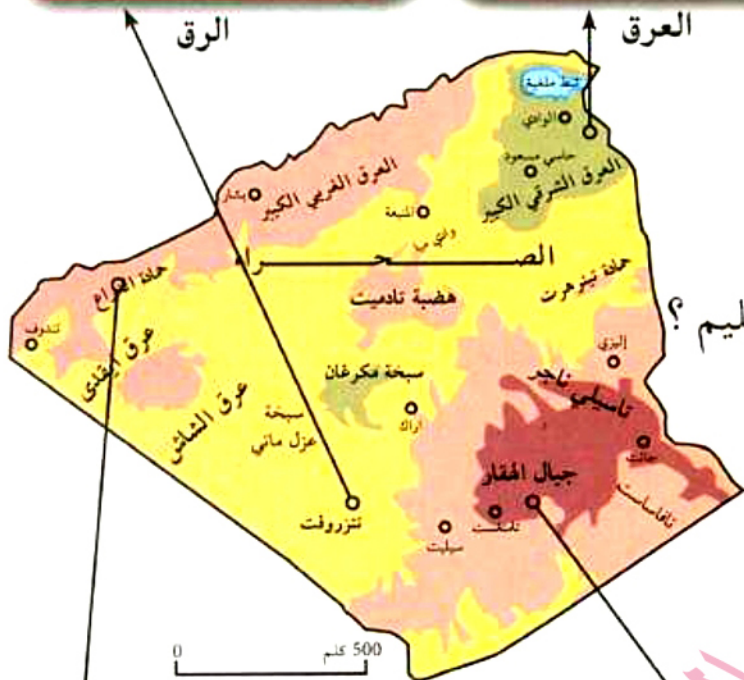
الاحظ واكتشف



الرق



العرق



خريطة شكل (1): تضاريس الصحراء



الحمادة



جبال الهقار

أدرس الخريطة شكل (1):

كيف يسمى هذا الإقليم؟

بماذا يتميز سطحه عموما؟

ما هي المظاهر الأساسية لهذا الإقليم؟

من خلال صورة السهول الصحراوية:

بين أنواع هذه السهول.

أذكر مميزات كل سهل منها؟

كيف تسمى هذه السهول؟

من خلال صورة الجبال الصحراوية:

كيف ترى هذه الجبال؟

ما اسمها؟

ما الاختلاف الذي يبدو لك بينها وبين الجبال الشمالية؟

من خلال صورة الهضاب:

كيف تبدو لك؟

قارن بينها وبين جبال الهقار.

حدد موقع هضبة تادميت.

ما هي المظاهر التضاريسية للصحراء؟ قدم أمثلة لها.

الصحراء إقليم واسع تبلغ مساحته حوالي 2 مليون كلم²، يتميز سطحه بالرتابة والاستواء عموما مع وجود العديد من المظاهر التضاريسية المتنوعة.

أثري معلوماتي :



شكل (2): باخرة جزائرية حديثة



شكل (1): باخرة فينقية قديمة

كان، ومازال، وسيظل البحر الأبيض المتوسط منفذا للجزائر على الخارج ووسيلة اتصال هامة بينها وبين دول العالم وعامل اقتصادي هام.




الحياة في المدينة أكثر تطورا، النشاط بها متنوع. تعمل الدولة على تخطيطها وتنظيمها وتجديدها.

حياة الريف بسيطة، يقوم نشاط السكان فيها على الزراعة، والرعي، والحرف التقليدية.



أتعلم

- يمتد الشريط الساحلي على شكل خط متعرج تتخلله ظاهرة الخلجان والرؤوس.
- هناك سلسلتان جبليتان شمال الجزائر:
 - أ- تسمى الأولى سلسلة **الأطلس التلي** تتكون من جبال تسالا، الونشريس، الظهر، جرجرة، البيان، ومن السلسلة النوميديّة.
 - ب- تسمى السلسلة الثانية **الأطلس الصحراوي** وتتكون من جبال القصور، العمور، أولاد نايل، الأوراس، النمامشة.
- هناك نوعان من السهول:
 - أ- **سهول ساحلية** خصبة وهي سهل وهران، متيجة، عنابة.
 - ب- **سهول داخلية** أقل خصوبة وأكثر جفافاً أهمها: سهل تلمسان، سهل سيدي بلعباس، سهل غريب، سهل سطيف، سهل سارسو.
- تتكون صحراء الجزائر من المظاهر التضاريسية التالية:
 - أ- **السهول**: وهي نوعان:
 - العرق: وهي سهول رملية واسعة مثل العرق الشرقي والعرق الغربي.
 - الرق: وهي سهول صخرية مثل رق تنزريفت، الذي يمتد غرب مدينة عين صالح.
 - ب- **الهضاب**: مثل هضبة تادميت.
 - ج- **الجبال**: وأهمها جبال الهقار البركانية التي تغطي الركن الجنوبي الشرقي من الجزائر وبها قمة تاهاث 3000 م (أعلى قمة في الجزائر)




خليج الجزائر صورة مأخوذة عبر القمر الاصطناعي

أوظف معلوماتي



املا الفراغات التالية بالكلمات المناسبة:
 تتنوع تضاريس الجزائر، فهناك السلسلة الجبلية التلية المكونة من جبال
 و..... و..... و..... و.....، وهناك السلسلة الجبلية
 الصحراوية المكونة من جبال و..... و.....
 وهناك نوعان من السهول. السهول مثل سهل متيجة والسهول
 مثل سهل سيدي بلعباس.
 أما الصحراء ففيها ثلاثة مظاهر تضاريسية وهي و..... و.....



إليك خريطة صممت
 للجزائر، انقلها
 بواسطة الورق الشفاف
 على كراستك، ثم عين
 عليها:

- أ- أهم الخلجان
 والرؤوس.
- ب- السلسلة الجبلية
 التلية.
- ج- السلسلة الجبلية
 الصحراوية.
- د- كتلة جبال الهقار.



خريطة الجزائر

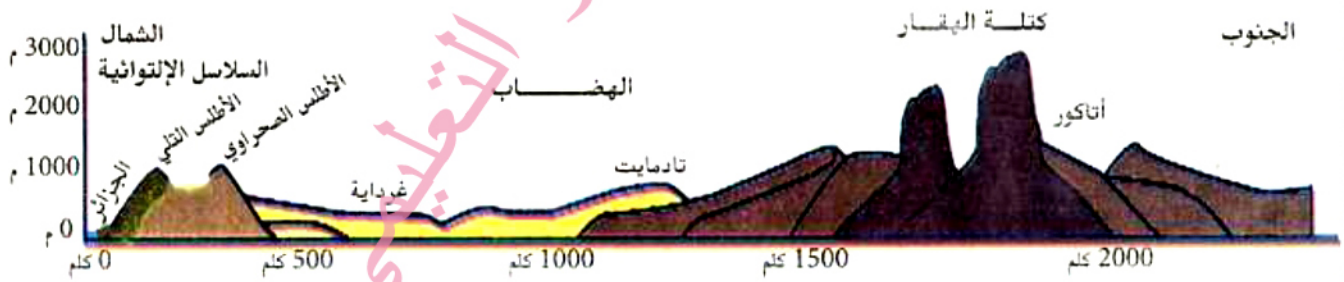


خريطة الجزائر

من أهم السهول الساحلية:
سهل عنابة، متيجة، وهران.
ومن أهم السهول الداخلية
سهل سيدي بلعباس، وسهل
غريب، وسهل سارسو.
• عين هذه السهول على
الخريطة المقابلة بعد نقلها
على كراستك.



يمثل الرسم التالي مقطعا تضاريسيا من شمال الجزائر إلى جنوبها.
أ- تدرب على رسمه.
ب- قارن بين أعلى نقطة ارتفاع في الشمال وأخفض نقطة في الجنوب.



لو عبرت الجزائر إنطلاقا من الجزائر العاصمة إلى تلمسان
- ما هو نوع التضاريس التي تمر بها؟

المناخ والنبات



أتذكر



سبق وعلمت أن الجزائر تشرف على البحر الأبيض المتوسط شمالا وتتوغل في الصحراء الكبرى جنوبا.

كما أن لديها مناطق تعلو حوالي 3000 مترا وأخرى تنخفض إلى ما دون مستوى سطح البحر.

أ- فما تأثير ذلك على الطقس والمناخ ؟
ب- وما تأثير ذلك على النبات ؟

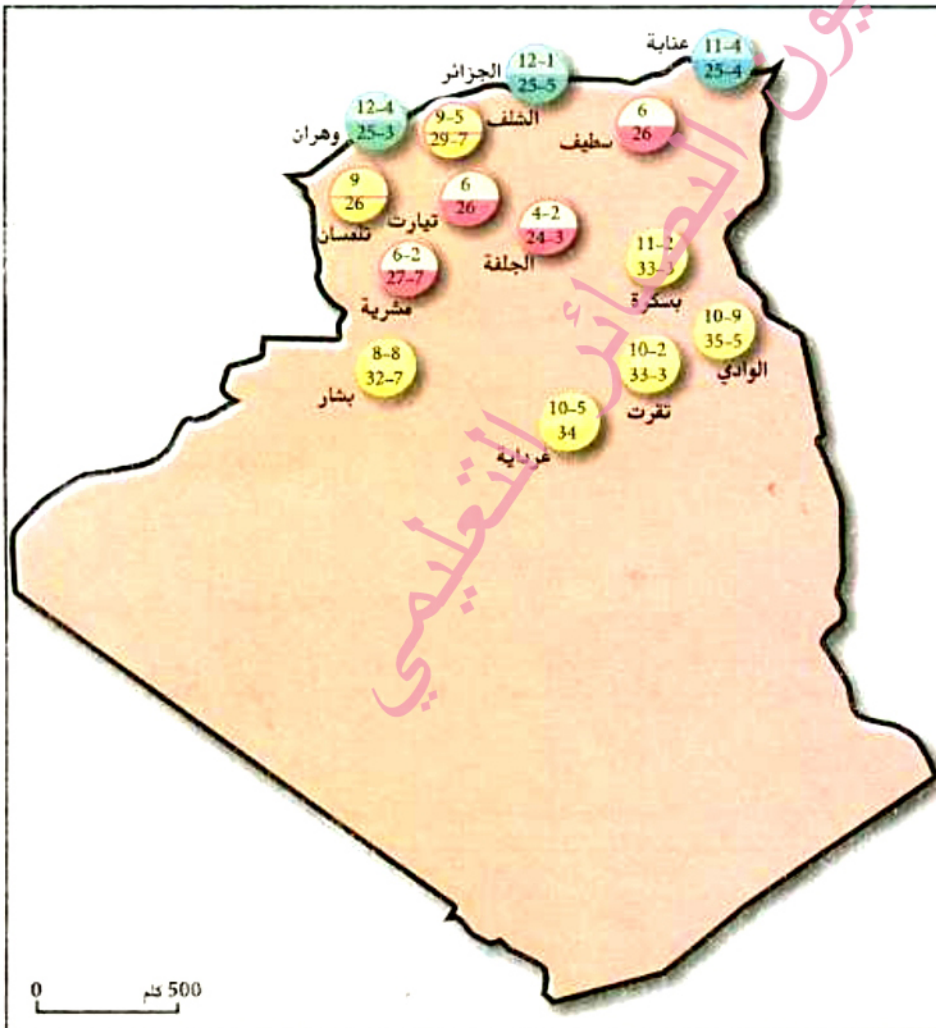
النشاط الأول



الاحظ واكتشف



تأمل الخريطة شكل (1) التي تمثل درجات الحرارة في عدة مدن جزائرية.



مفتاح الخريطة

12-1 متوسط أكثر الشهور حرارة في الجزائر
25-5 متوسط أكثر الشهور برودة في الجزائر

المناطق الساحلية

النسب الداخلي

المناطق المرتفعة

الهوامش الصحراوية

خريطة شكل (1): درجات الحرارة

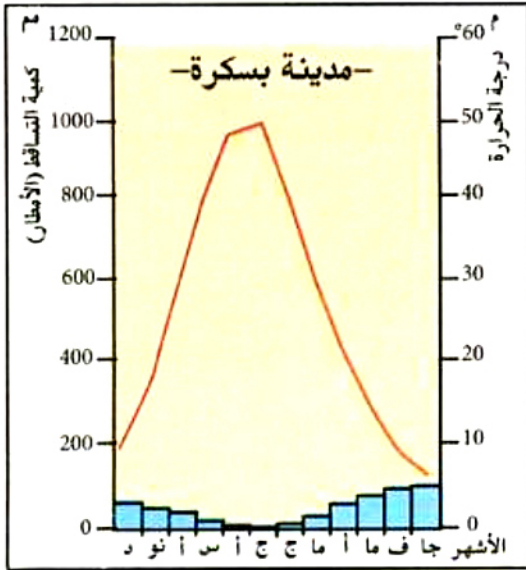


✍ إقرأ درجة الحرارة صيفا وشتاء في مدينتي الجزائر وبسكرة.

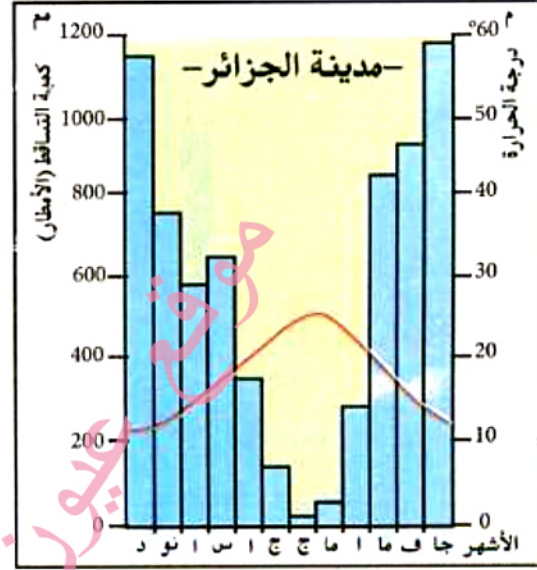
مدينة الجزائر تتميز باعتدال الحرارة صيفا وشتاء.

مدينة بسكرة تتميز بارتفاع الحرارة صيفا وانخفاضها الشديد شتاء.

لاحظ الوثيقة شكل 2 (أ-ب):



شكل (2-ب): الحرارة والتساقط



شكل (2-أ): الحرارة والتساقط

✍ إقرأ كميات التساقط (الأمطار) ستجد أن مدينة بسكرة قليلة التساقط بينما مدينة الجزائر كثيرة التساقط.

إذن: مدينة الجزائر معتدلة الحرارة صيفا وشتاء غزيرة الأمطار، وبسكرة حارة صيفا، باردة شتاء، قليلة الأمطار أي أن مناخ الأولى يختلف عن مناخ الثانية

✍ ماهو المناخ؟

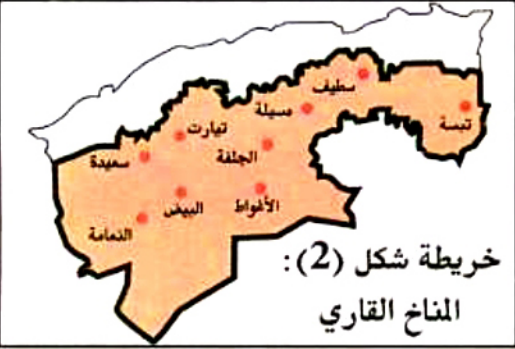
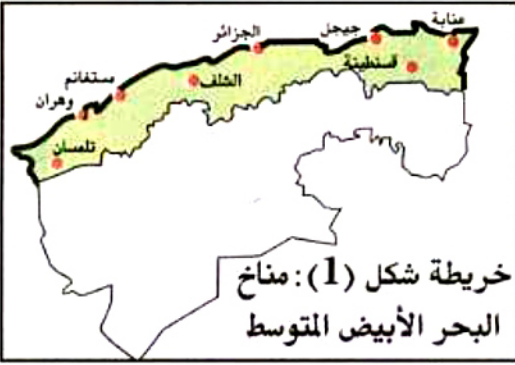
أستنتج



المناخ هو طابع الجو السائد والمعتاد في منطقة محددة من الأرض خلال فترة عام كامل.

✍ صف حالة المناخ في المكان الذي تعيش فيه من حيث الحرارة والتساقط.





النشاط الثاني



الاحظ واكتشف



لاحظ الخريطة شكل (1)

ماذا تمثل؟



ما هي أنواع المناخ؟



أين يسود مناخ البحر الأبيض المتوسط؟



أذكر بعض المدن التي يشملها.



أين يسود المناخ القاري؟



أذكر بعض المدن التي يشملها.



أين يسود المناخ الصحراوي؟



أذكر بعض المدن التي يشملها.



رتب هذه المناخات من حيث



المساحة.

أستنتج



هناك ثلاث مناخات رئيسية في الجزائر هي:

أ- مناخ البحر الأبيض المتوسط.

ب- المناخ القاري.

ج- المناخ الصحراوي.

لماذا سمي المناخ الأول بمناخ البحر الأبيض المتوسط والثاني بالمناخ القاري والثالث بالمناخ الصحراوي؟



النشاط الثالث

الاحظ واكتشف

تأمل الخريطة شكل (1):

تبين الإقليم الذي يسود فيه مناخ البحر الأبيض المتوسط



خريطة شكل (1): إقليم مناخ البحر الأبيض المتوسط

حدد موقعه.

ماذا يحده شمالا؟

ماذا يحده جنوبا؟

تأمل الشكل 2 (أ، ب):

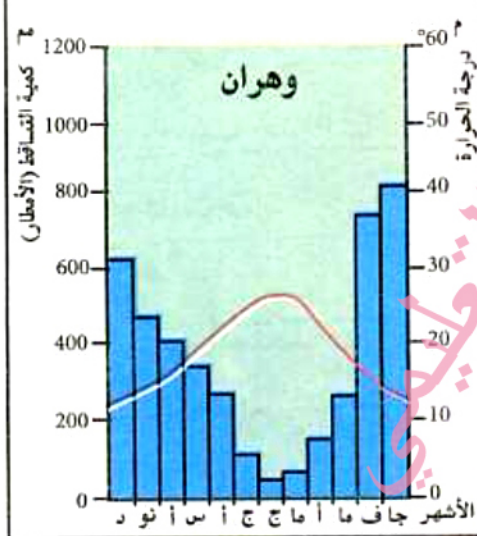
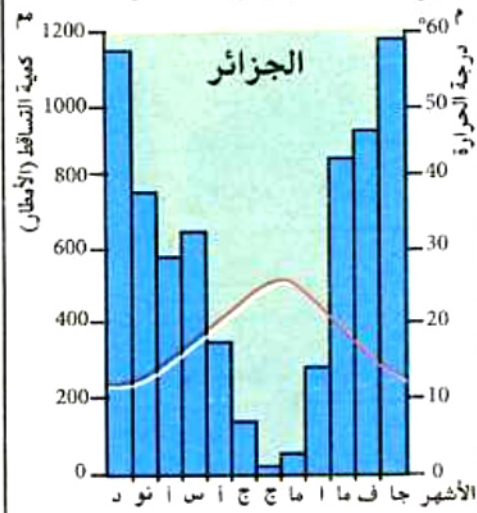
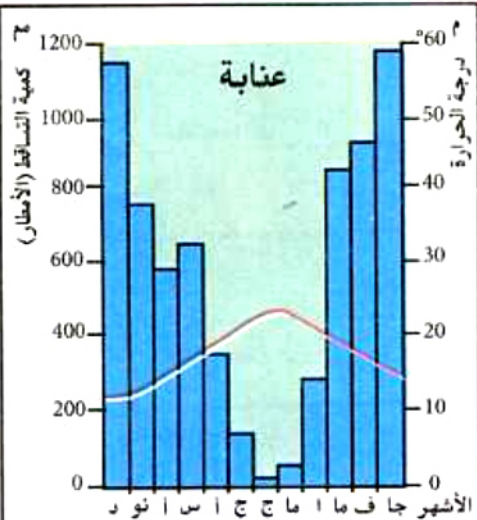
الذي يمثل الحرارة والتساقط في عدة مدن واقعة

ضمن مناخ البحر الأبيض المتوسط.

اقرأ أسماء هذه المدن.

حدد موقع كل مدينة، ثم


اقرأ المدى الحراري والتساقط فيها.



شكل (2-أ): الحرارة والتساقط

عنابة	وهران	الجزائر	
°14	°12,9	°13,4	المدى الحراري
1000 ملم	450 ملم	750 ملم	كمية التساقط

شكل (2-ب): جدول للمدى الحراري والتساقط



صورة شكل (3-أ): أشجار الصنوبر

هل كمية التساقط واحدة في كل المدن الواقعة ضمن مناخ البحر الأبيض المتوسط؟
 أين ترتفع؟ أين تنخفض؟
 لاحظ الصور شكل 3 (أ، ب، ج، د):



صورة شكل (3-ب): أشجار الزيتون



صورة (3-د): حيوانات إقليم البحر الأبيض المتوسط

ما هي الأشجار التي تنمو في هذا المناخ؟
 ما هي الحيوانات التي تعيش به؟



صورة شكل (3-ج): أشجار الكروم

أستنتج



- يوجد مناخ البحر الأبيض المتوسط شمال الجزائر في المنطقة الممتدة من البحر إلى السلسلة الجبلية التالية.

- يتميز بوجود فصلين رئيسيين من حيث الحرارة والتساقط.

- تختلف كمية التساقط بين الشرق والغرب فهي حوالي 400 ملم في الغرب (وهران)، وتصل إلى حوالي 1000 ملم في الشرق (عنابة).

- تنمو به أشجار الأرز، والصنوبر، والفلين، والكروم، والزيتون.

- تعيش به حيوانات عديدة منها: الأغنام، الأبقار، الذئاب

يم يتميز فصل الشتاء، ويم يتميز فصل الصيف في مناخ البحر المتوسط؟



النشاط الرابع

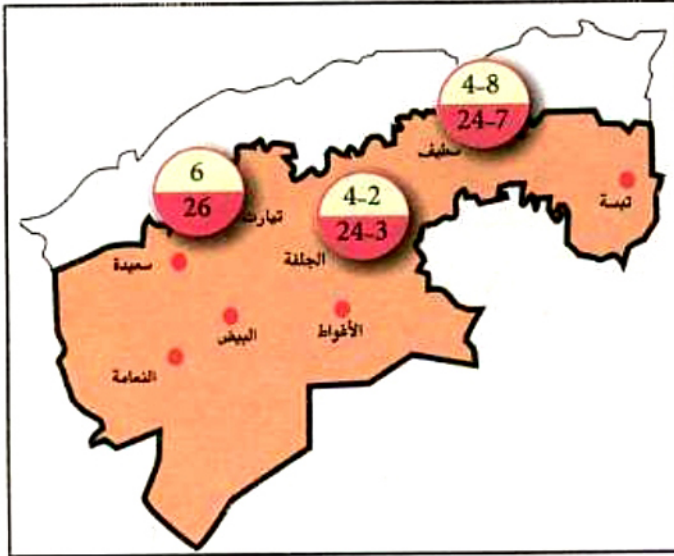


الأحظ واكتشف



تأمل الخريطة رقم (1):

وهي تبين المناطق التي يسودها المناخ القاري بجزائر ثم حاول الإجابة عن الأسئلة التالية:



خريطة شكل (1): المناخ القاري

أين ينتشر هذا المناخ؟



هو محصور بين مناخين، ما هما؟



ما الذي يفصله عن البحر؟



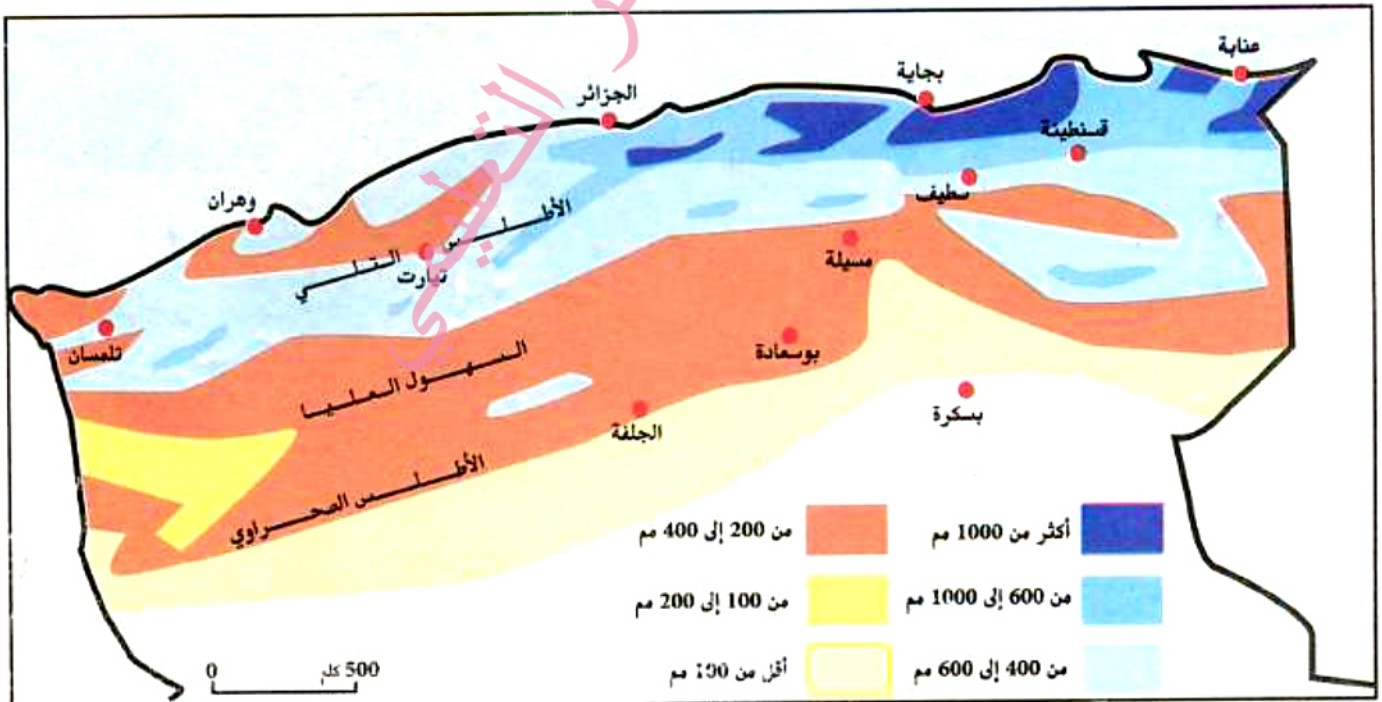
كم يقدر معدل درجة حرارة (سطيف، الجلفة، تيارت) صيفا، وشتاء؟



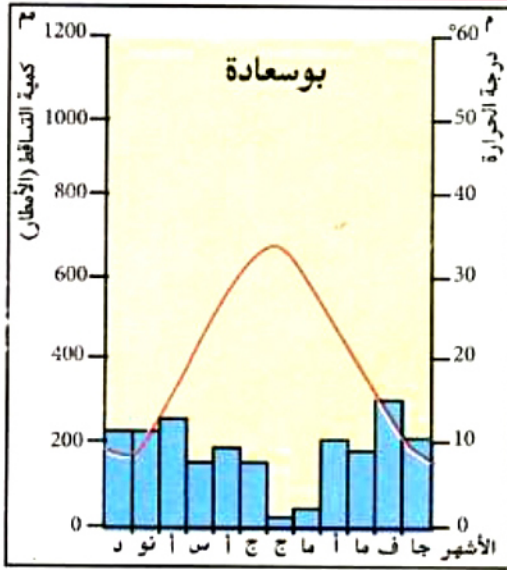
إذا علمت أن المدى الحراري معناه الفرق بين أعلى درجة حرارة وخفضها



فهل هذا المعدل الحراري مرتفع أم لا؟



خريطة (2): المطر السنوي



شكل (3): الحرارة والتساقط

تأمل الخريطة رقم (2):

كم تقدر كمية التساقط بالمناخ القاري؟

تأمل شكل (3):

اقرأ درجات الحرارة والتساقط في مدينة بوسعادة

لاحظ الصور شكل 4 (أ، ب، ج)



صورة شكل (4-أ): حقل حبوب



صورة شكل (4-ج): حيوانات المناخ القاري



صورة شكل (4-ب): نباتات الاستبس

ما هو النبات الذي ينمو في هذا المناخ؟

ما هي الحيوانات التي تعيش في هذا المناخ؟

أستنتج



يسود المناخ القاري في المناطق الداخلية البعيدة عن المؤثرات البحرية. يتميز بصيف حار وشتاء بارد وأمطار قليلة. تزرع في هذا المناخ الحبوب خاصة القمح والشعير، كما تنمو به حشائش الاستبس. وتعيش به حيوانات مختلفة منها الأبقار والماعز والخيول.

أذكر بعض المدن التي يسود فيها هذا المناخ.





النشاط الخامس

الأحظ واكتشف

أدرس الوثائق (1، 2، 3) ثم أجب عما يلي:

أين يسود المناخ الصحراوي؟

من أين يبدأ وأين ينتهي؟

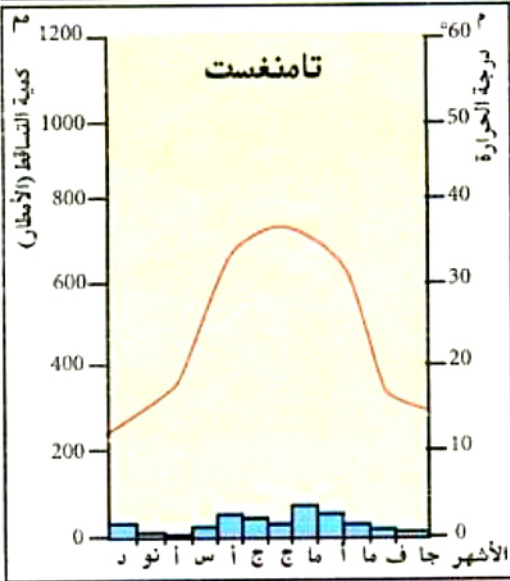
كم تبلغ أقصى درجة حرارته صيفا وشتاء؟

كم يبلغ المدى الحراري به؟

كم تقدر كمية التساقط؟

وفي أي فصل تسقط؟

لاحظ الصور شكل 3 (أ، ب، ج، د):



شكل (2): الحرارة والتساقط

صورة شكل (3-أ):
النبات الصحراوي



صورة شكل (3-ب): الواحات

صورة شكل (3-ج):
البدو الرحل



صورة شكل (3-د): حيوانات الإقليم الصحراوي

ما هو النبات الذي ينمو في هذا المناخ؟

ما هي الحيوانات التي تعيش في هذا المناخ؟

كيف يعيش البدو في الصحراء؟



أستنتج

يحتل المناخ الصحراوي أكبر مساحة في الجزائر تقدر بـ 86% أي 2 مليون كلم²، وهو مناخ متطرف جدا (شديد الحرارة صيفا، وشديد البرودة شتاء).

يُزرع في هذا المناخ النخيل بكثرة إلى جانب مزروعات أخرى متنوعة في الواحات.

تعيش به الحيوانات التي تتحمل العطش كالجمال، والغزلان، والضباع، وبعض الحشرات السامة كالعقارب والأفاعي.

لماذا يزرع النخيل بكثرة في الصحراء؟



خريطة شكل (1): مناخ الجزائر

أثري معلوماتي:

وثيقة



الفرق بين الطقس والمناخ

الطقس: هو حالة عابرة مؤقتة يمكن التنبؤ بها خلال فترة زمنية تكون يوما أو يومين أو أسبوعا.
أما المناخ: فهو الطابع الجوي السائد في منطقة ما خلال فترة عام كامل.

أتعلم

• المقصود بالمناخ الظواهر الدائمة والمستمرة في الأحوال الجوية من حرارة وتساقط ورياح وغيرها وليست التقلبات الجوية

العابرة.

• هناك ثلاث مناخات في الجزائر:

أ- مناخ البحر الأبيض المتوسط يمتاز بصيف حار جاف وشتاء دافئ ممطر، أمطاره ما بين 400 ملم و 1000 ملم.

ب- المناخ القاري يتميز بصيف جاف وحار، وشتاء بارد أمطاره ما بين 200 ملم و 400 ملم

ج- المناخ الصحراوي يتميز بكونه شديد الحرارة صيفا شديد البرودة شتاء، المدى الحراري كبير بين الليل والنهار والصيف والشتاء، أمطاره أقل من 200 ملم



جبال جرجرة مكسوة بالثلوج



▶ حرارة الصحراء وقساوتها

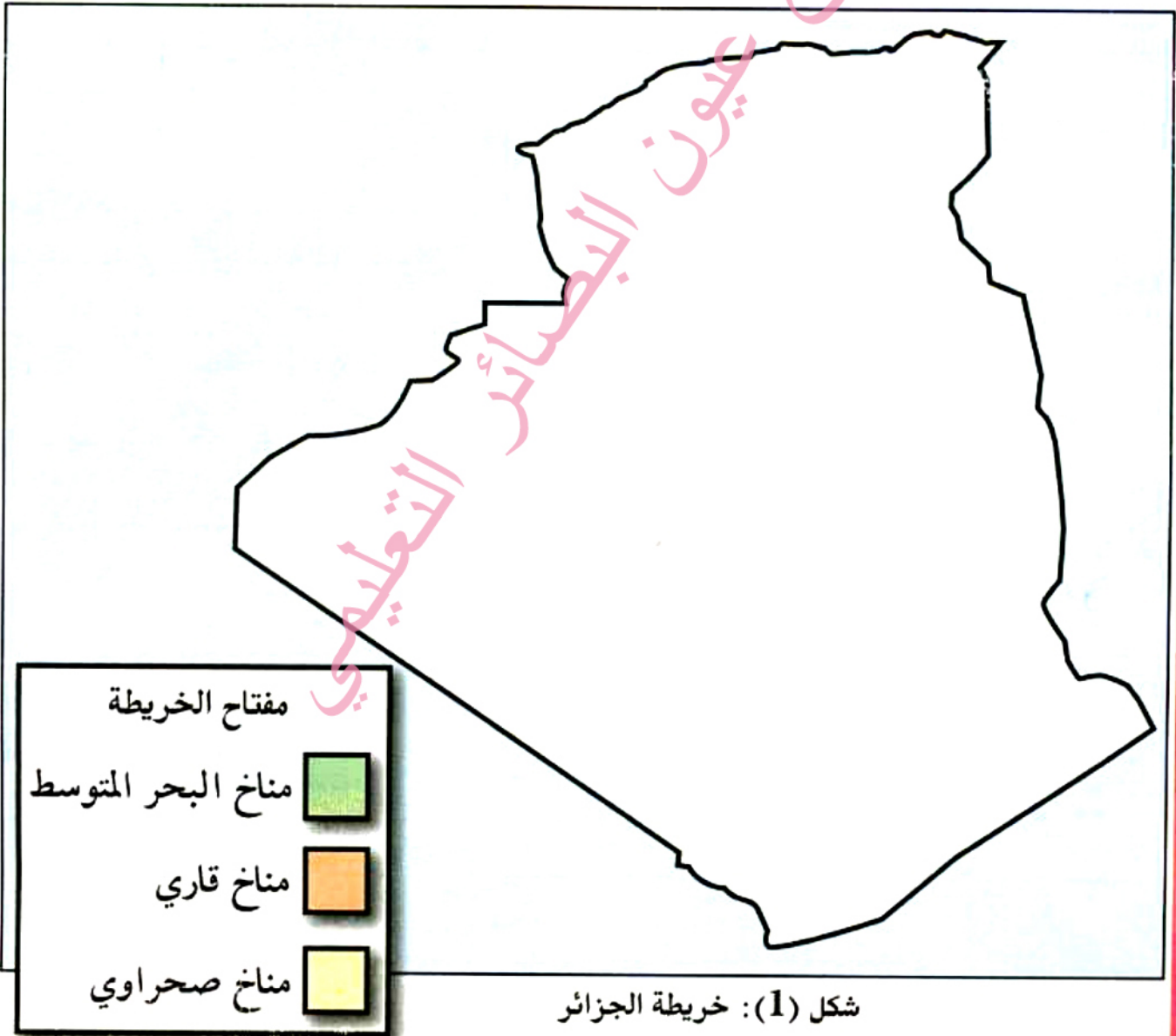
أوظف معلوماتي



طلب منك أحد أصدقائك أن تصف له مناخ الصحراء ونباتاته.
• صف له ذلك في بضعة أسطر.



إليك خريطة صماء للجزائر:
• أنقلها على كراستك، ثم عين عليها أنواع المناخات حسب المفتاح.





أربط بين الجدول (أ) بما يناسبها في الجدول (ب).
جدول (أ) جدول (ب)

أ- مناخ البحر الأبيض المتوسط
ب- نباتات الصحراء
ج- حالة الجو من حرارة وأمطار ورياح لفترة طويلة
د- حالة الجو من حرارة وأمطار ورياح لفترة قصيرة

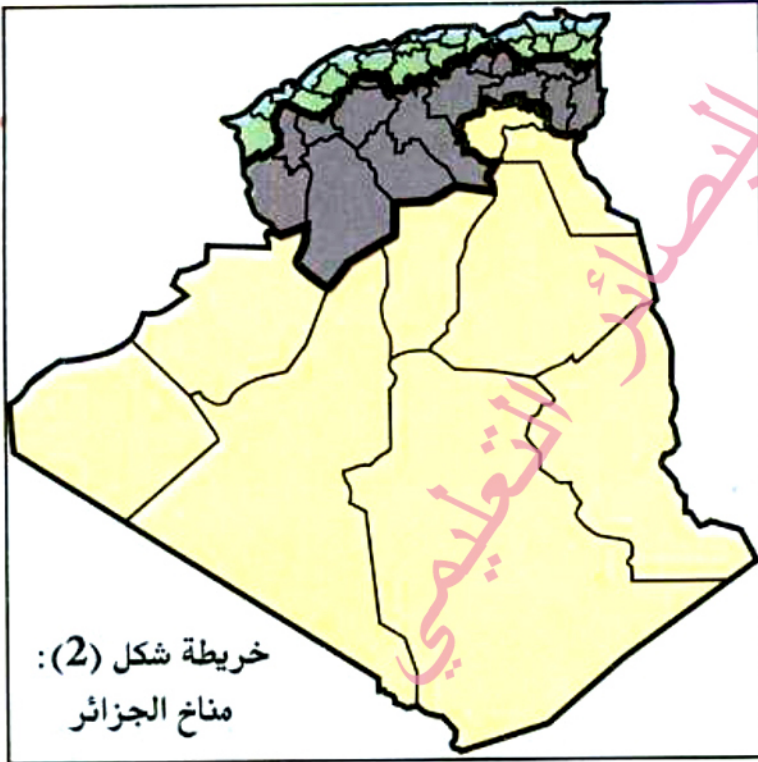
1. جذورها طويلة وأوراقها شوكية
2. منعش صيفا وشتاء
3. الطقس
4. المناخ



تتبع حالة الطقس المقدم في التافزة لمدة ثلاثة أيام ثم استخراج معدلات الحرارة والتساقط.



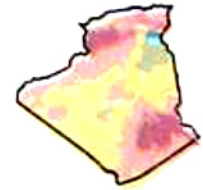
ما هو المناخ الذي تمثله كل صورة؟



المناخ الصحراوي	المناخ القاري	مناخ البحر الأبيض المتوسط
1. ولاية	1. ولاية	1. ولاية
2. ولاية	2. ولاية	2. ولاية
3. ولاية	3. ولاية	3. ولاية

استعن بالخريطة شكل (2):
• إملأ الجدول التالي، بكتابة أسماء ثلاث ولايات عن كل مناخ.

الموارد الطبيعية في الجزائر




أتذكر



إن اتساع مساحة الجزائر، وامتدادها الكبير، وتنوع تضاريسها وتعدد مناخاتها. كل ذلك أدى إلى تنوع ثرواتها الباطنية والسطحية.
* فما هي أبرز هذه الثروات؟



شكل (ب)



شكل (أ)



شكل (د)



شكل (ج)

شكل (1)

النشاط الأول



الاحظ واكتشف



لاحظ شكل 1 (أ، ب، ج، د):

ماذا تمثل الصورة أ؟



ماذا تمثل الصورة ب؟



ماذا تمثل الصورة ج؟



ماذا تمثل الصورة د؟



المجري المائي، النبات الطبيعي، معدن الحديد، الحيوانات البرية، ليس للإنسان دخل في وجودها فهي موارد طبيعية.

أستنتج



الموارد الطبيعية هي التي توجد في الطبيعة على صورتها الأولية دون أن يكون للإنسان دخل في إحداثها أو تشكيل هيئتها.

أذكر ثلاثة موارد طبيعية من الشمال وثلاثة موارد طبيعية من الجنوب.



النشاط الثاني



الاحظ واكتشف



تأمل الشكل 1 (أ، ب، ج، د):

ماذا يمثل الشكل أ؟



ماذا يمثل الشكل ب؟



ماذا يمثل الشكل ج؟



ماذا يمثل الشكل د؟



شكل (ب)



شكل (أ)



شكل (د)



شكل (ج)

شكل (1)

من خلال هذه الأشكال يتبين لك أن مصادر المياه هي: الأمطار - الثلوج - المياه

السطحية (أنهار - بحيرات) - المياه الجوفية.

لاحظ خريطة التساقط

في الجزائر:

أين يكثر التساقط؟



أين يقل؟



كم تبلغ كميته في



الساحل؟

كم تبلغ كميته في

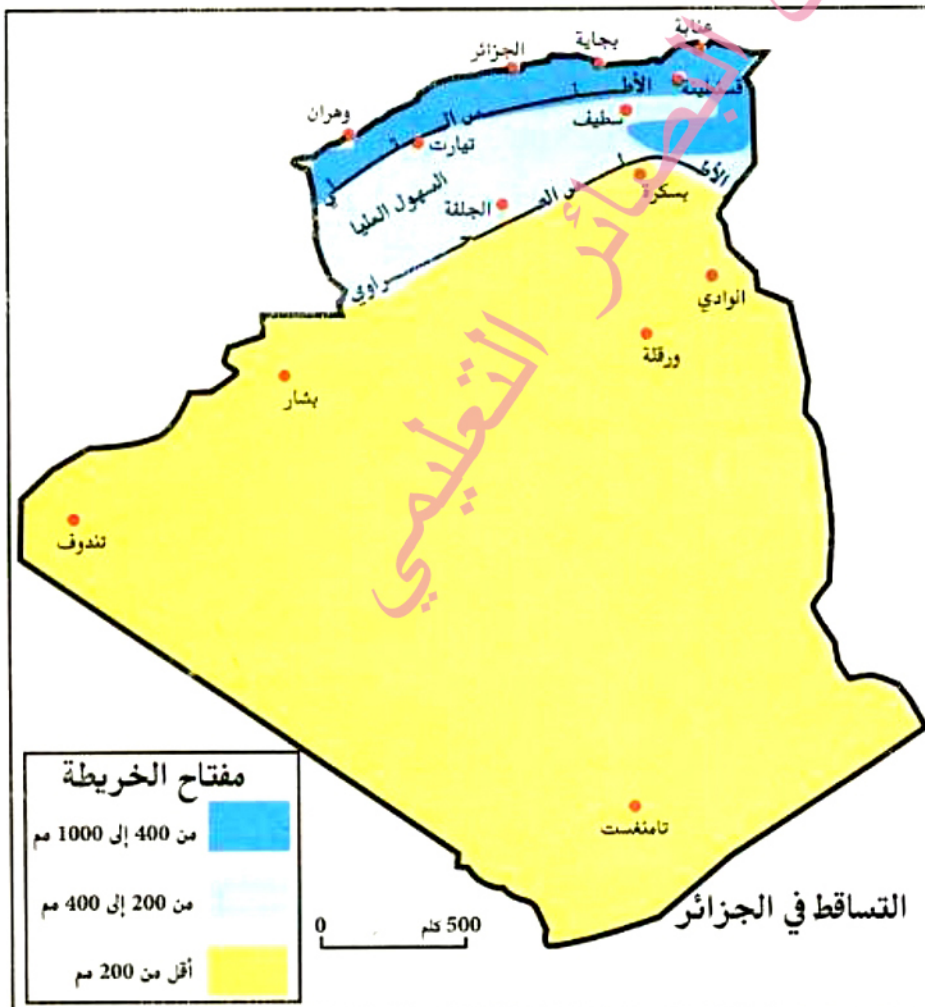


المناطق لداخلية؟

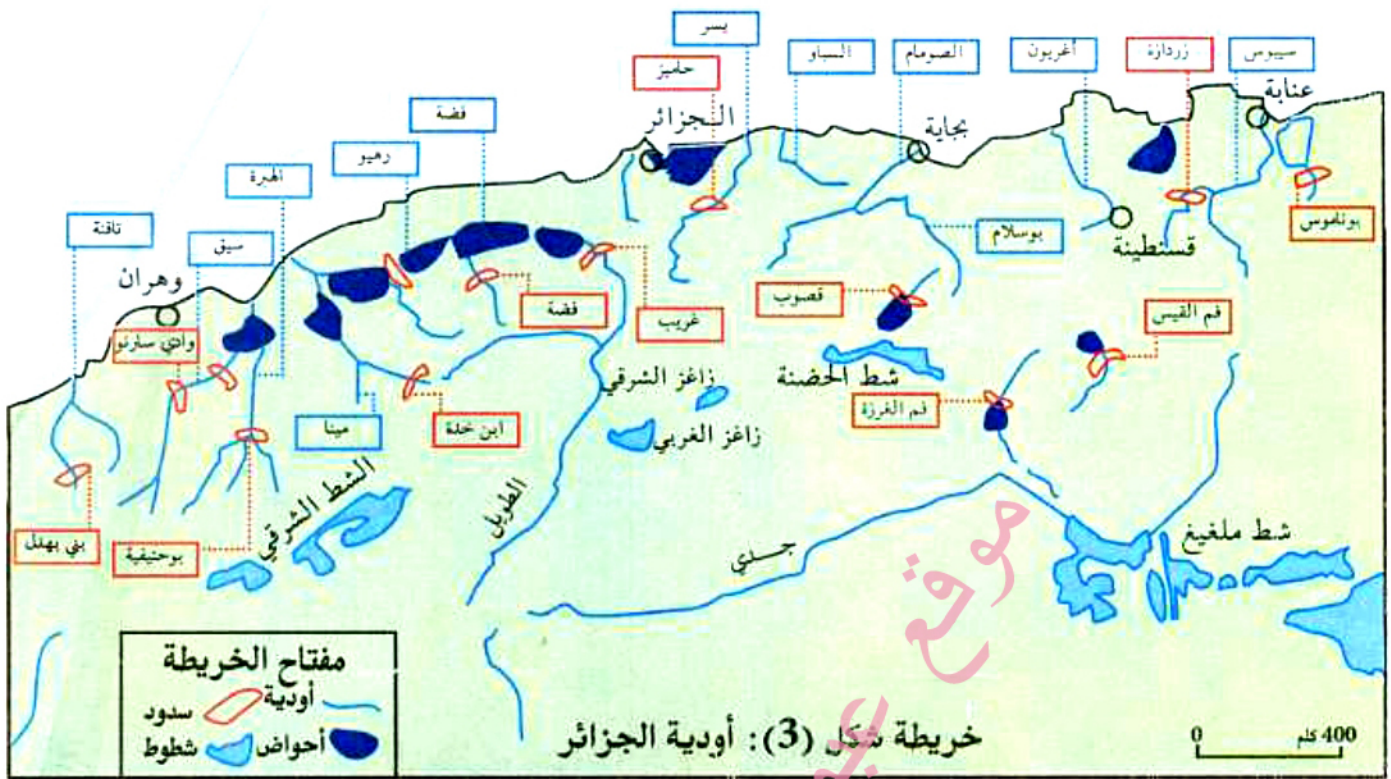
كم تبلغ كميته في



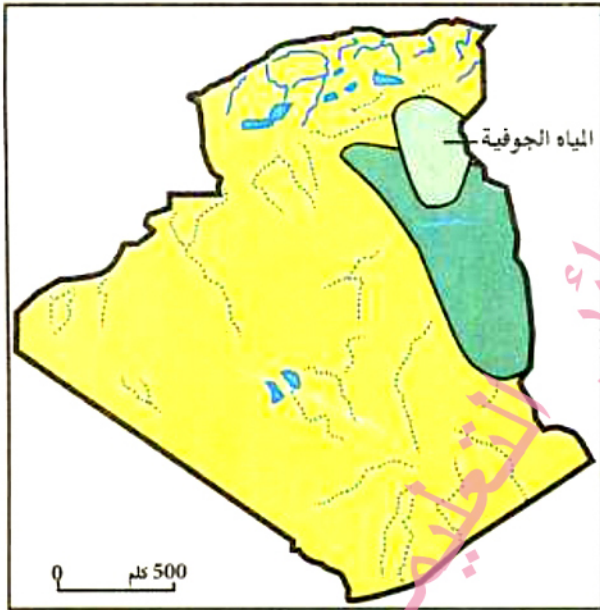
الصحراء؟



لاحظ خريطة الأودية في الجزائر شكل 3:



خريطة شكل (3): أودية الجزائر



خريطة شكل (4): الأودية الصحراوية والمياه الجوفية

أين تكثر الأودية؟

أين تقل؟

أين تصب الأودية الواقعة في شمال البلاد؟

والواقعة في الوسط؟ وأودية الصحراء؟

لاحظ الخريطة شكل (4)، وتأمل وجود المياه

الجوفية بالصحراء.

أين تكثر؟

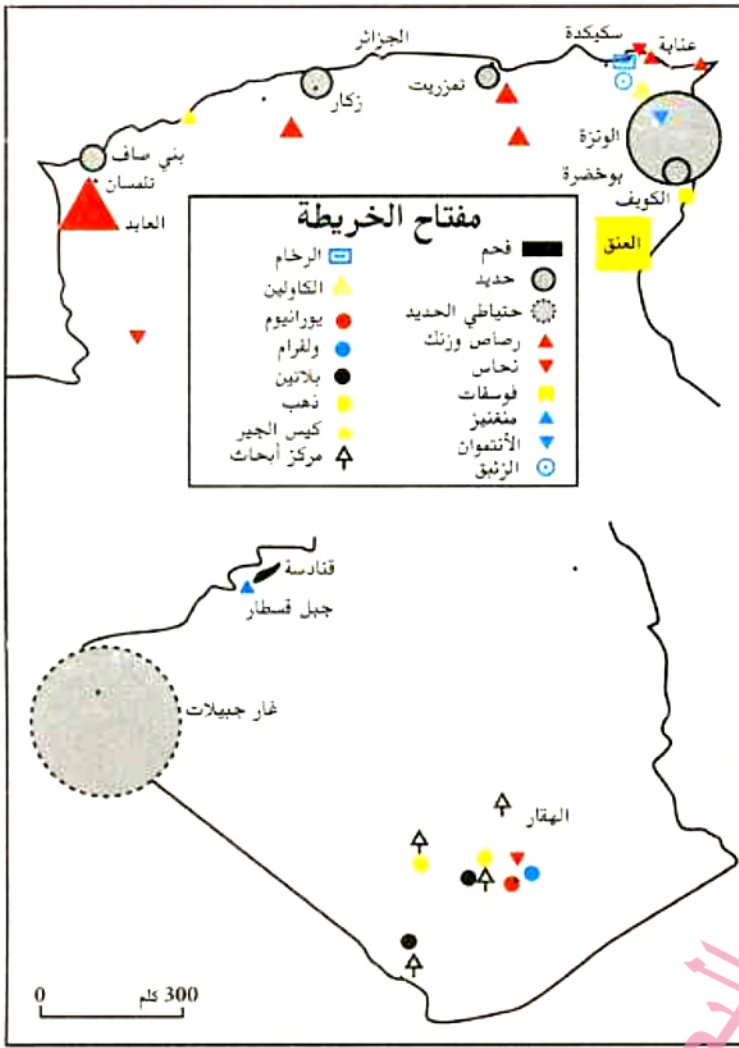
هل يمكن استغلالها؟ كيف؟

أستنتج

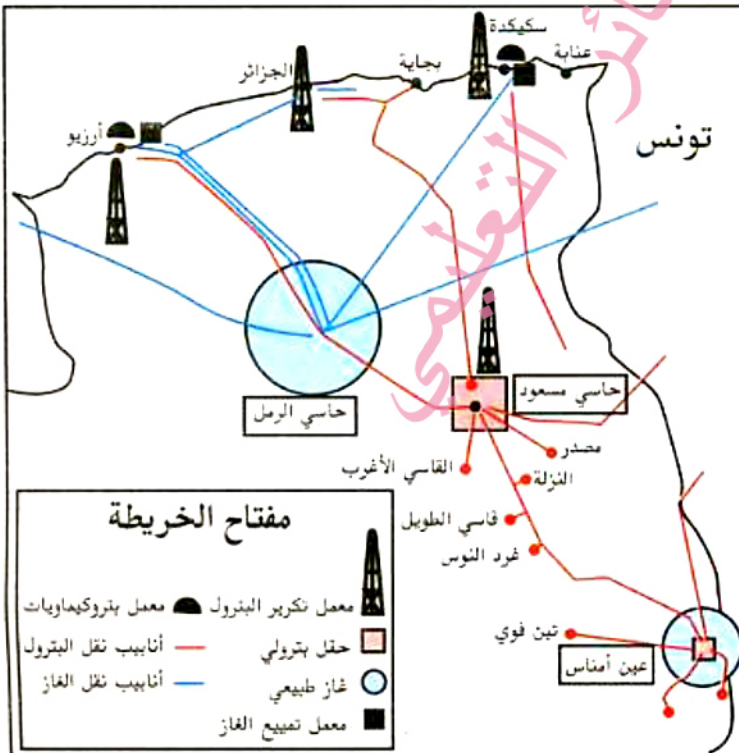


هناك عدة مصادر للمياه في الجزائر هي: التساقط والمجري المائية، والمياه الجوفية خاصة في الصحراء.

لماذا تغطي قمم جبال جرجرة بالثلوج في فصل الشتاء؟



خريطة شكل (1): توزيع المعادن في الجزائر



خريطة شكل (2): البترول والغاز الطبيعي

النشاط الثالث



الأحظ واكتشف



تأمل خريطة توزيع المعادن في

الجزائر شكل (1):

ماهي أهم المعادن الموجودة

بها؟

في أي منطقة من الجزائر تكثر

المعادن؟

هناك المعادن الثمينة مثل

الذهب والنادرة مثل اليورانيوم.

هل هي موجودة بالجزائر؟ أين تقع؟

تأمل الخريطة شكل (2):

ماذا تمثل؟

ماهي مصادر الطاقة الموجودة

بالجزائر؟

أين يوجد البترول والغاز؟

هل هناك موارد طاقة أخرى؟

ماهي؟

كيف ينقل البترول والغاز

الطبيعي من الصحراء إلى

موانئ الساحل؟



أستنتج

الجزائر غنية بالمعادن المتنوعة ومصادر الطاقة المختلفة خاصة البترول والغاز الطبيعي.

استعن بالخريطة شكل (1) وأذكر أماكن تواجد معادن الحديد، الرصاص، الزنك.

وثيقة



تجربة المياه المحلات في الجزائر

قررت وزارة الموارد المائية منذ سنة 2001 الشروع في بناء عدد من محطات تحلية مياه البحر، بسبب تذبذب الأمطار وشحها في الشمال، ويتضمن المشروع:

- بناء 21 محطة تحلية صغيرة بطاقة 57000 م³ في اليوم.
- بناء 10 محطات كبرى تصل طاقتها الإجمالية إلى 1.040.000 م³ في اليوم.

أثري معلوماتي:

أهمية الأنهار

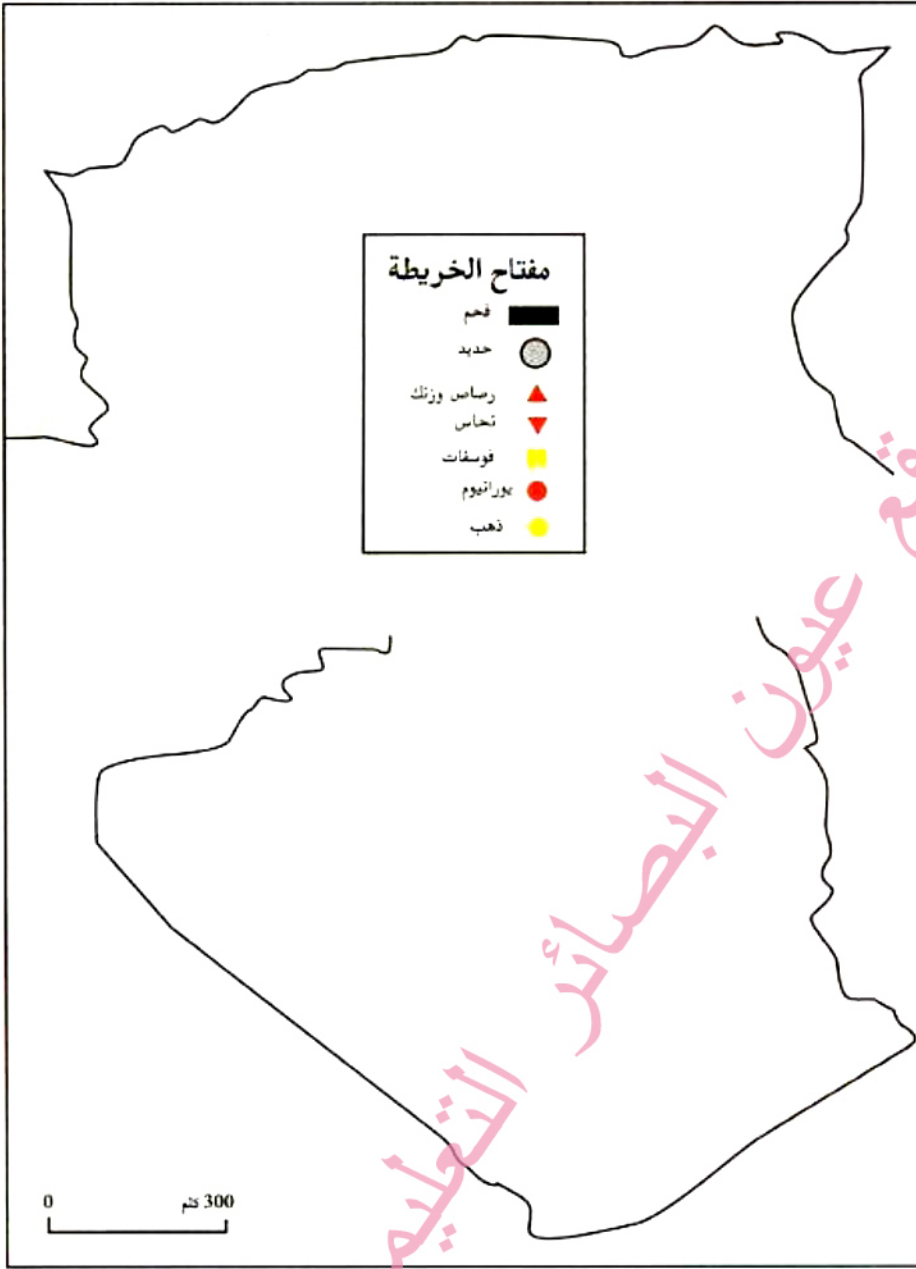
- توفر للإنسان المياه الصالحة للشرب.
- تستغل في ري الأراضي الزراعية.
- تستخدم في توليد الطاقة الكهربائية.
- مصدر للثروة السمكية.

أتعلم

• تتوفر الجزائر على موارد طبيعية كثيرة، ومتنوعة تصنف كالتالي:

- أ- سطحية: كالأنهار، الثروة الغابية، الحلفاء، وبعض الحيوانات النادرة كالغزال.
- ب- بحرية: ثروة سمكية، مرجان.
- ج- باطنية: مياه جوفية، معادن مختلفة كالحديد، مصادر الطاقة من بترول وغاز طبيعي وفحم حجري.
- الموارد الباطنية خاصة البترول والغاز الطبيعي تساهم بنسبة معتبرة في الدخل الوطني.

أوظف معلوماتي



خريطة توزيع المعادن في الجزائر

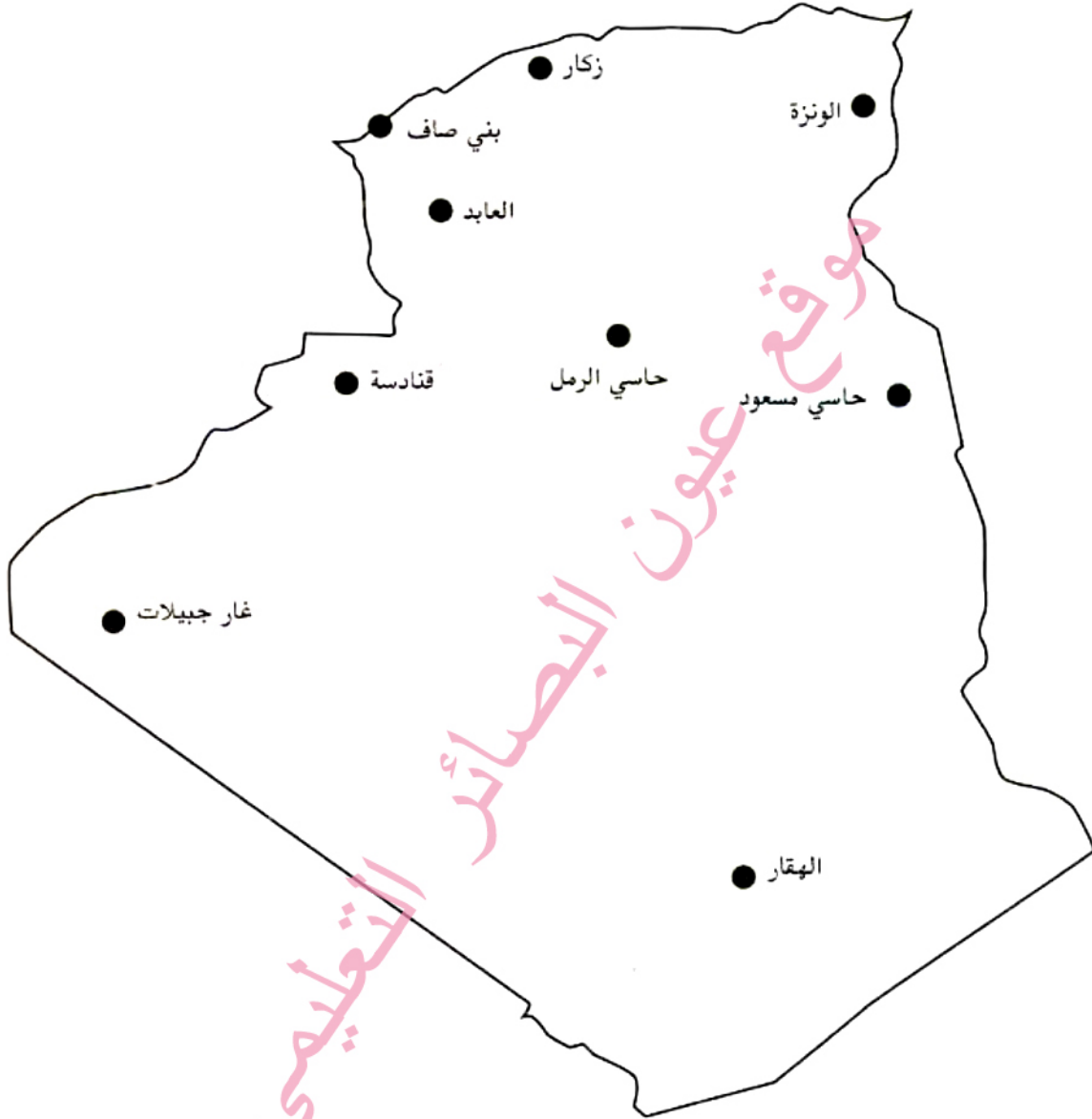
أمامك خريطة صماء للجزائر:
أ- أنقل هذه الخريطة على كراستك.
ب- وقع المعادن ومصادر الطاقة المشار إليها في المفتاح في مكانها الصحيح من الخريطة.



هناك تبذير للثروة المائية، تقدر بـ 45%.
- أكتب في بضعة أسطر أهمية المياه، وكيفية المحافظة عليها.



أمامك خريطة الجزائر عليها أسماء بعض الأماكن الغنية بالمعادن أو مصادر الطاقة.
- أكتب إسم المورد الطبيعي الذي يشتهر به كل مكان



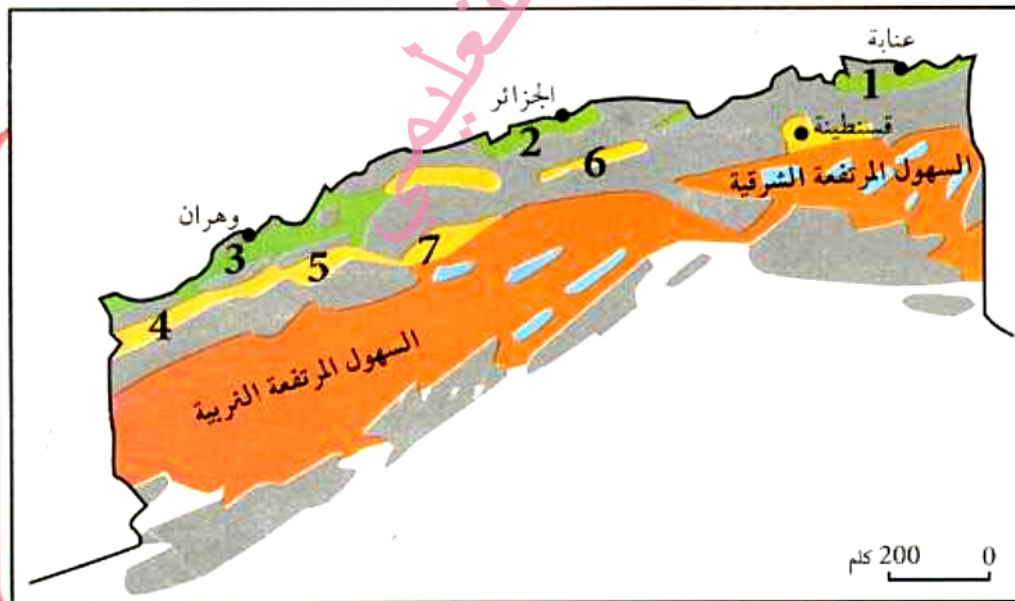
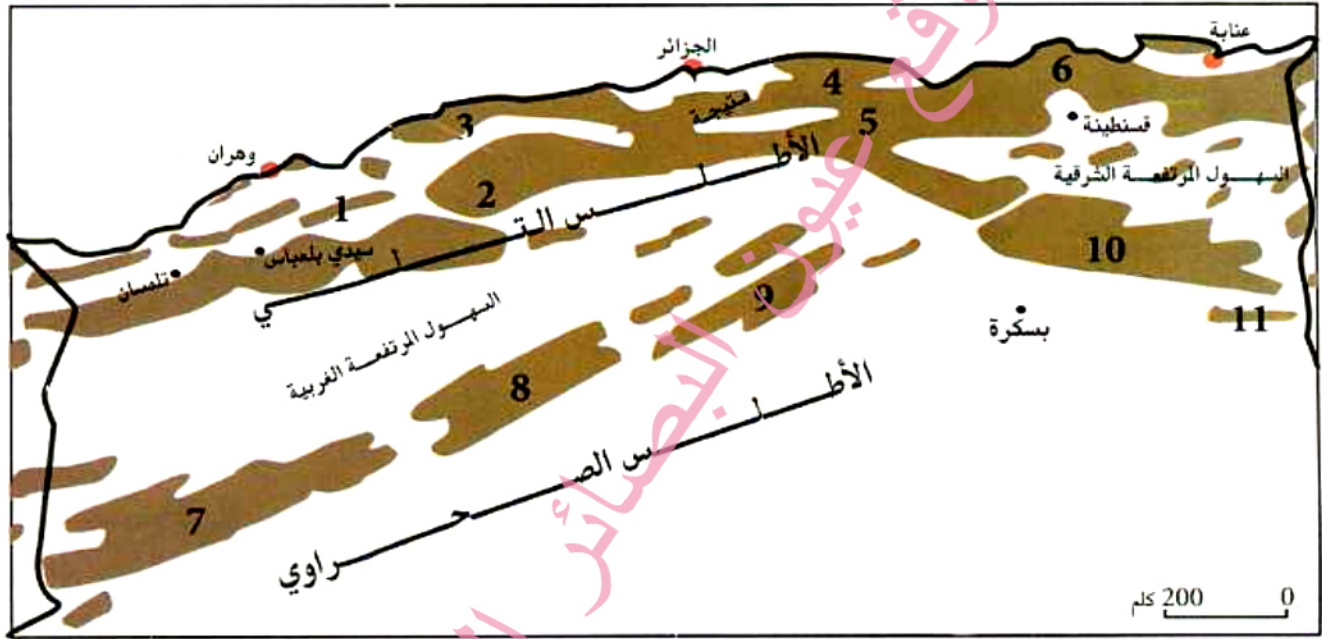
تغطي الغابة مساحة هامة من شمال الجزائر، إلا أنها تتعرض لعدة مخاطر.
أ- ما هي هذه المخاطر؟
ب- كيف يمكن تجنبها؟

نشاط إدماجي



تتكون سلسلة الأطلس التلي من الجبال التالية:
1. جبل تسالا، 2. جبل الونشريس، 3. جبل الظهر، 4. جبل جرجرة، 5. البيان، 6. السلسلة النوميديّة.

تتكون سلسلة الأطلس الصحراوي من الجبال التالية:
7. القصور، 8. العمور، 9. أولاد نايل، 10. الأوراس، 11. النمامشة.
أ- أنقل الخريطة بواسطة الورق الشفاف على كراستك، وعوض أرقام الجبال بأسمائها.
ب- لاحظ امتداد السلسلتين، ماذا يبدو لك؟



تمثل الخريطة المقابلة بعض السهول الجزائرية على النحو التالي:



سهول ساحلية:

1. سهل عنابة، 2. سهل متيجة، 3. سهل وهران.

سهول داخلية:

4. تلمسان، 5. سهل سيدي بلعباس، 6. سهل غريب، 7. سهل سارسو.

- أنقل الخريطة بواسطة ورق شفاف على كراستك وأكتب اسم كل سهل.



إملا الجدول التالي:

حيوانات	مكان تواجدها	فائدتها
الغزلان
الجمال
الأبقار
الأغنام
الماعز



إملا الجدول التالي:

النبات	الكروم	النخيل	الحبوب	الحلفاء	الشعير	الحوامض	الاستبس	التين
مكان تواجده



أجب عما يلي:

1. أين تزرع المحاصيل التالية في الجزائر، ولماذا؟ الزيتون، القمح، النخيل.
2. أين تربي الحيوانات التالية في الجزائر، ولماذا؟ الجمال، الأبقار، الأغنام.



ضع كل مدينة في المربع المناسب لها: الجزائر، أدرار، الجلفة
 مدينة حرارة شديدة صيفا، أمطار قليلة شتاء، كثافة سكانية منخفضة.
 مدينة حرارة متوسطة، أمطار متوسطة، كثافة سكانية متوسطة.
 مدينة حرارة معتدلة، أمطار غزيرة، كثافة سكانية مرتفعة.

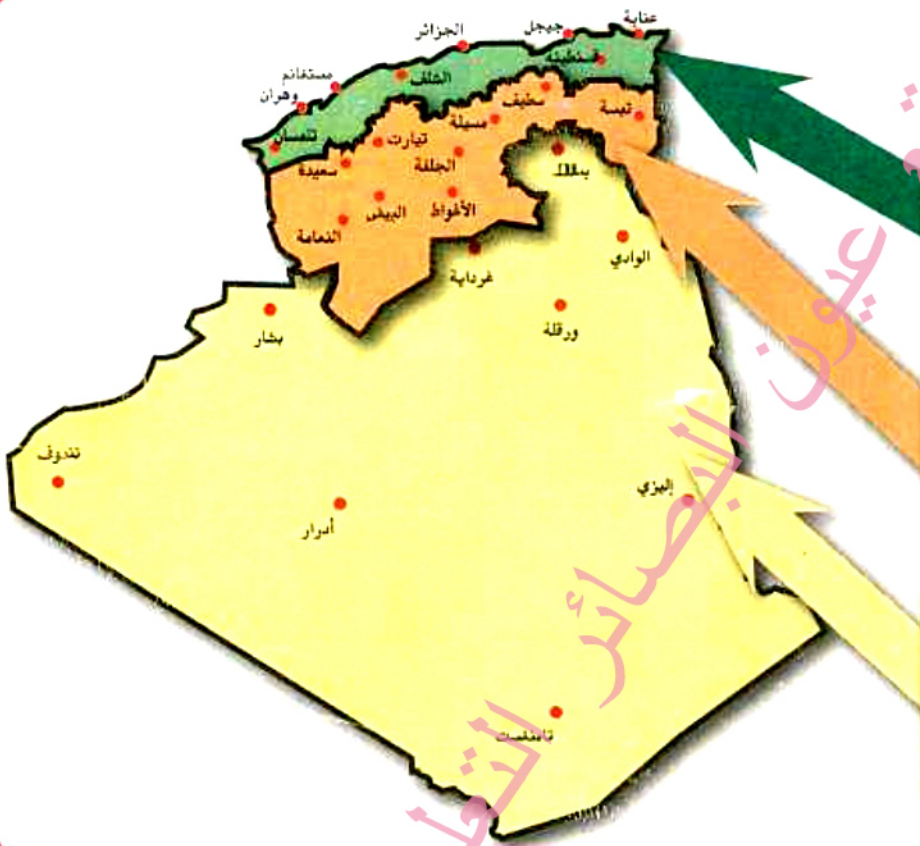


أكمل ما يلي:

كمية التساقط هي:
 درجة الحرارة هي:
 الكثافة السكانية هي: ...

كمية التساقط هي:
 درجة الحرارة هي:
 الكثافة السكانية هي: ...

كمية التساقط هي:
 درجة الحرارة هي:
 الكثافة السكانية هي: ...



الجزائر غنية بالمواد الأولية المعدنية والطاقوية والفلاحية: أكتب بعضها في الجدول التالي:


مواد معدنية	مواد طاقوية	مواد فلاحية
-1	-1	-1
-2	-2	-2
-3	-3	-3
-4	-4	-4

الأحظ وأستنتج



يصنع من الأصواف؟

.....



يصنع من الحديد؟

.....



يصنع من الأخشاب؟

.....



إليك خريطة الأودية في الجزائر:



1. هناك أودية تصب في البحر مثل

2. هناك أودية تصب في الشطوط مثل

3. هناك أودية تتوغل في الصحراء مثل



أكتب تقريرا حول ما يوجد في منطقتك من ثروات:

أ- باطنية (مياه جوفية، بترول، غاز، معادن).

ب- سطحية: (أخشاب، حلفاء، ...).

ج- بحرية: (أسماك، مرجان، ...).

السكان في الجزائر



1. الكثافة وتوزيع السكان في الجزائر
2. العوامل المتحكمة في توزيع السكان
3. نشاط السكان الاقتصادي



موقع
الجزائر
التجارية

بلادي الجزائر...
فسيحة الأرجاء، يتباين فيها التوزيع السكاني، وتتنوع بها النشاطات
الاقتصادية.



موقع
البحرين
البيروت



الكثافة وتوزيع السكان في الجزائر



أتذكر



- إن توزيع السكان في الجزائر غير متساو.
- فعدد السكان في القرية ليس هو عدد السكان في المدينة.
 - وعدد السكان في ولاية ما. ليس هو عدد السكان في ولاية أخرى.



صورة (1-ب)



صورة (1-أ)

النشاط الأول



الأخذ واكتشف



صورة (1-ج)

لاحظ الصور (أ، ب، ج):

كيف يظهر السكان في الصورة أ؟



كيف يظهرون في الصورة ب؟



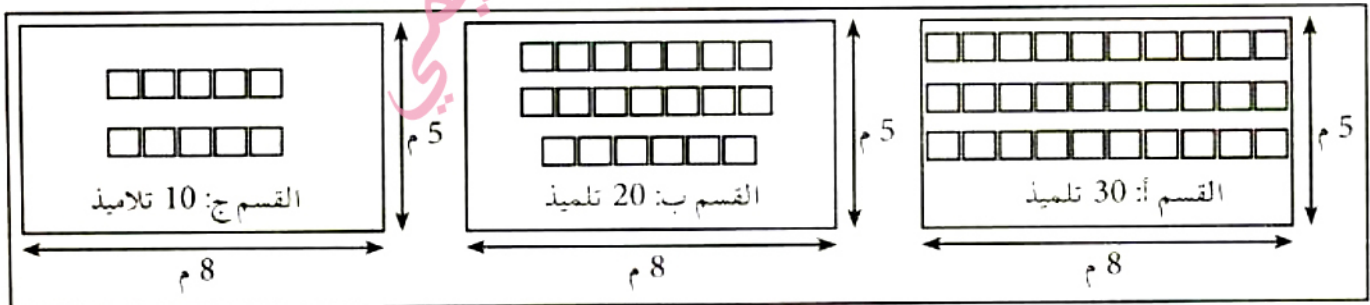
كيف يظهرون في الصورة ج؟



ما هي الصورة التي تبين إزدحاما (كثافة) سكانية؟



لاحظ الشكل (2):



شكل (2)

سوف تجد أن الأقسام متساوية المساحة، لكن عدد التلاميذ بها متفاوت.

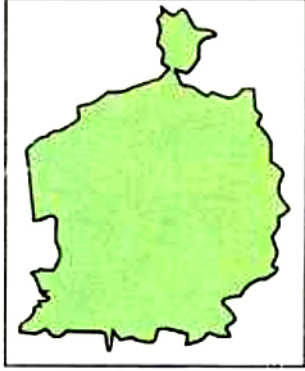
إذن أيها أكثر إكتظاظا (كثافة)؟ لماذا؟





الكثافة السكانية هي عدد السكان في مساحة محددة

ما معنى الكثافة السكانية



لكي أحسب الكثافة السكانية في منطقة أقوم بالعملية التالية:

• عدد السكان / المساحة = الكثافة

وعليه: فكثافة بلدية ما هي:

$$\text{كثافة بلدية ما هي} = \frac{\text{عدد سكانها}}{\text{مساحتها}} = \dots\dots\dots \text{ن / كلم}^2$$

خريطة شكل (2): بلدية عين عبيد ولاية قسنطينة



كثافة ولاية ما هي:

$$\text{كثافة ولاية ما هي} = \frac{\text{عدد سكانها}}{\text{مساحتها}} = \dots\dots\dots \text{ن / كلم}^2$$

خريطة شكل (3): ولاية قسنطينة



للحصول على الكثافة السكانية لأي بلد، نقسم عدد سكان القطر على المساحة بالكيلومتر المربع.

ابحث عن مساحة بلديتك وعدد سكانها، وأحسب الكثافة السكانية بها.



النشاط الثاني

الاحظ واكتشف



خريطة شكل (1)

إذا حسبت الكثافة السكانية في الجزائر (سنة 2006) ستجدها

$$\text{كالتالي: } \bullet \frac{33000000}{2382741} = 13 \text{ ن / كلم}^2$$

هذه الكثافة تسمى الكثافة الحسابية.

لاحظ الخريطة شكل (2) واقرأ المفتاح:

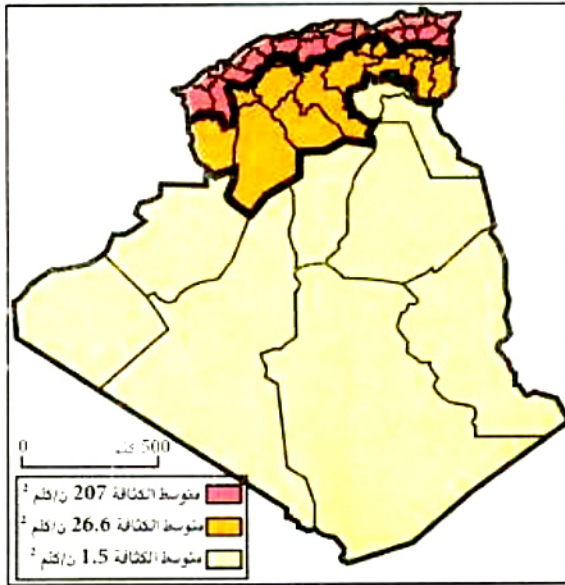
كم تقدر الكثافة السكانية في شمال الجزائر؟

وكم تقدر في المناطق الوسطى؟

وكم تقدر في المناطق الجنوبية؟

إذن: الكثافة السكانية في الجزائر تختلف من

منطقة لأخرى.



خريطة شكل (2)

لاحظ الجدول شكل (3):

في أي إقليم تقع هذه المدن؟

هل الكثافة بها متساوية؟



خريطة شكل (3)

إذن: الكثافة تختلف في داخل الإقليم الواحد. كثافة

الجزائر 4167 ن/كلم²، عناية 421 ن/كلم²، وهران 633 ن/كلم².

تسمى الكثافة الحقيقية.

أستنتج



هناك نوعان من الكثافة السكانية:

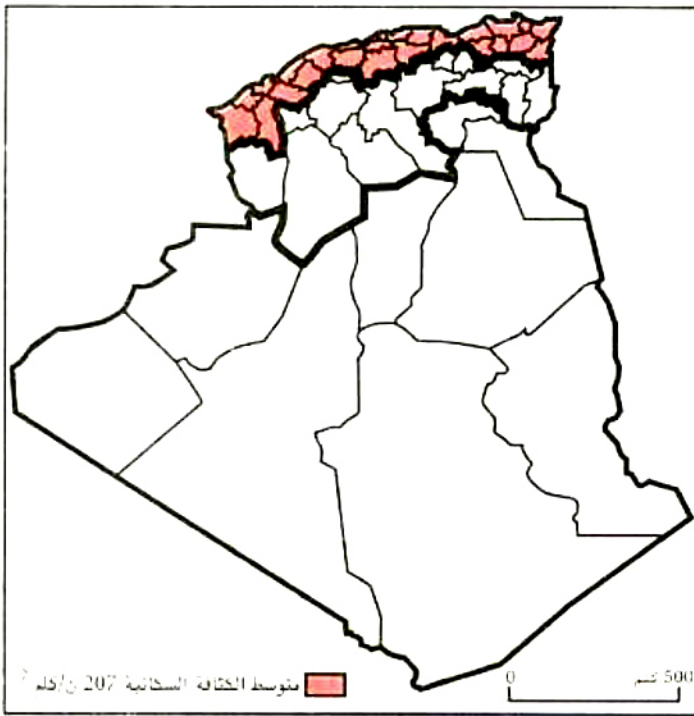
أ- الكثافة الحسابية

ب- الكثافة الحقيقية

عدد سكان ولاية سطيف 1.3 مليون نسمة ومساحتها 6500 كلم²

احسب الكثافة السكانية بها.





النشاط الثالث



الاحظ واكتشف



تأمل الخريطة شكل (1):

ماذا تمثل؟



أين يقع هذه الإقليم؟



استعن بمعطيات الجدول شكل (2)

و (3) ثم أجب عما يلي:

خريطة شكل (1): الكثافة السكانية بالإقليم التالي

الولايات	عنابة	الجزائر	المدينة	قسنطينة	تلمسان	سيدي بلعباس
الكثافة ن / كلم ²	421	4167	99	406	102	163

جدول شكل (2)

هل الكثافة بهذا الإقليم متساوية في كل الولايات؟



ما هي الولايات الأشد كثافة؟



ما هي الولايات ذات الكثافة المتوسطة؟



ما هي الولايات ذات الكثافة القليلة؟



25	عدد الولايات
102781	المساحة (كلم ²)
21278023	عدد السكان (نسمة)
207 ن/كلم ²	الكثافة

جدول شكل (3)

أستنتج



ترتفع الكثافة السكانية في الإقليم التالي ارتفاعا كبيرا إذ تصل في بعض المناطق إلى أكثر من 3000 ن / كلم².

لماذا ترتفع الكثافة السكانية في ولاية الجزائر؟





النشاط الرابع



الاحظ واكتشف



تأمل الخريطة شكل (1):

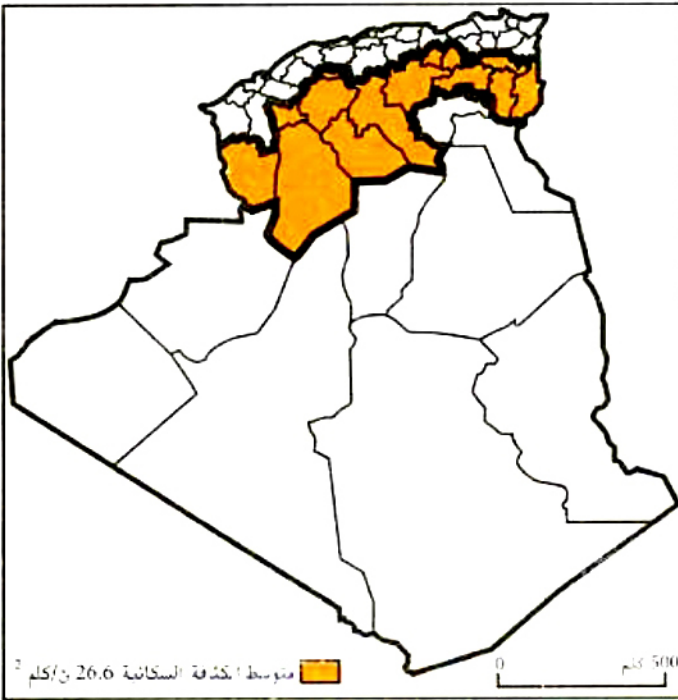
ماذا تمثل؟



أين يقع إقليم الهضاب العليا؟



استعن بمعطيات الجدول شكل (2)، واستنتج الكثافة السكانية بالإقليم الأوسط.



خريطة شكل (1)

اقرأ مفتاح الخريطة ثم قارن بين:

قارن بين ولاية سطيف وولاية البيض، ماذا يتبين لك؟



هل جميع مناطق هذا الإقليم ذات كثافة واحدة؟



الولايات	تبسة	سطيف	باتنة	الجلفة	تيارت	سعيدة	النعامة	البيض
الكثافة السكانية ن / كلم ²	43	224	88	14	39	46	5	2.5

جدول شكل (2)

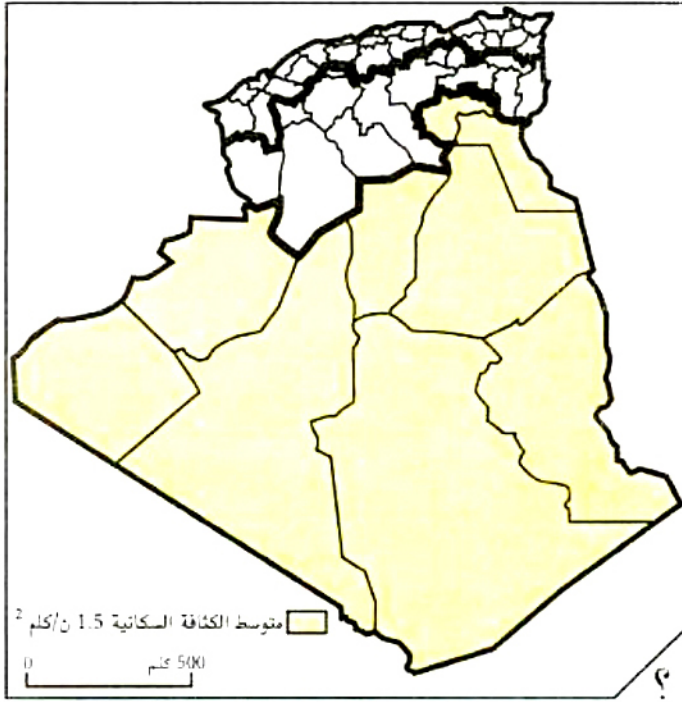
استنتج



يتميز الإقليم الأوسط بكثافة سكانية متوسطة عموما، أقل بكثير من كثافة الإقليم الشمالي.

ما هي أكثر المناطق كثافة بالإقليم الأوسط؟ وما السبب في رأيك؟





خريطة شكل (1)

النشاط الخامس

الاحظ واكتشف

تأمل الخريطة شكل (1)، وإقرأ مفتاحها: إنها تمثل الإقليم الجنوبي (الصحراء).

لاحظ المساحة العامة لهذا الإقليم. سيبدو لك أنه إقليم ذو امتداد كبير ومساحة واسعة جدا

كيف تبدو لك الكثافة السكانية به؟ لاحظ الجدول شكل (2):

الولايات	بسكرة	الوادي	ورقلة	غرداية	إليزي	تامنغست	بشار	أدرار	تندوف
الكثافة السكانية ن / كلم ²	31	11	2.5	4	0.14	0.3	1.5	0.8	0.2

جدول شكل (2)

بعد قراءة المعطيات الموجودة به حاول الإجابة عما يلي:



مناطق ذات كثافة سكانية منخفضة جدا

هل الكثافة بهذا الإقليم متساوية؟

ماذا يحدث لهذه الكثافة كلما اتجهنا جنوبا؟

ما هي المناطق ذات الكثافة المرتفعة؟

ما هي المناطق ذات الكثافة المنخفضة؟

ما سبب هذا الاختلاف في الكثافة؟

أستنتج



يتميز الإقليم الجنوبي (الصحراوي) بانخفاض شديد في نسبة كثافته السكانية.

لماذا تنخفض الكثافة السكانية في الصحراء؟




أثري معلوماتي :

هناك ثلاثة أقاليم رئيسية كبرى بالجزائر تختلف الكثافة السكانية بينها اختلافا واضحا (لا حظ الجدول التالي).

الكثافة (ن/كلم ²)	عدد السكان	المساحة (كلم ²)	
207	21278023	102781	إقليم الشمال
26.6	8668686	303231	إقليم الوسط
1.5	2965166	1975729	إقليم الجنوب

المدينة تجمع بشري كبير تقوم بين أفرادها علاقات وظيفية متعددة أهمها الوظيفة التجارية والوظيفة الصناعية، بحيث لا نجد أثرا للحياة الزراعية.

تشهد المدن تضخما سكانيا كبيرا، لكثرة المرافق العامة بها والنزوح الريفي إليها.



مدينة الجزائر سنة 2006

تطور سكان مدينة الجزائر

تعد مدينة الجزائر العاصمة الإدارية والاقتصادية والثقافية للجزائر وناقلة إفريقيا على أوروبا.

تنتصب على خليج الجزائر، وقد توسعت كثيرا منذ سنة 1944 كما تزايد سكانها تزايدا سريعا خاصة بعد الإستقلال.

كما يوضحه الجدول التالي:

السنة	1954	1962	1966	1977	1987	2006
عدد السكان	578570	500000	1164369	1363000	1483000	2800000



أتعلم

- تختلف الكثافة السكانية في الجزائر من إقليم لآخر
- 1. الإقليم الشمالي (التلي): ترتفع به الكثافة نتيجة عدة عوامل.
 - أ- طبيعية: (ملاءمة المناخ ووفرة السهول الخصبة)
 - ب- إقتصادية: (وفرة النشاط الإقتصادي من زراعة وصناعة وتجارة).
 - ج- إجتماعية: (وجود مختلف المرافق، الهجرة من المناطق الداخلية).
- 2. الإقليم الأوسط: أقل كثافة من الإقليم الشمالي بسبب قساوة ظروفه الطبيعية، ونقص الأمطار وقلة السهول الزراعية.
- 3. الإقليم الصحراوي: تقل به الكثافة حتى تكاد تنعدم في بعض المناطق، لكنها ترتفع في الواحات لتوفر شروط الحياة المختلفة (مياه، زراعة، نشاط إقتصادي متنوع)



مدينة الجزائر



مدينة الساورة



أوظف معلوماتي



أدرار



سطيف



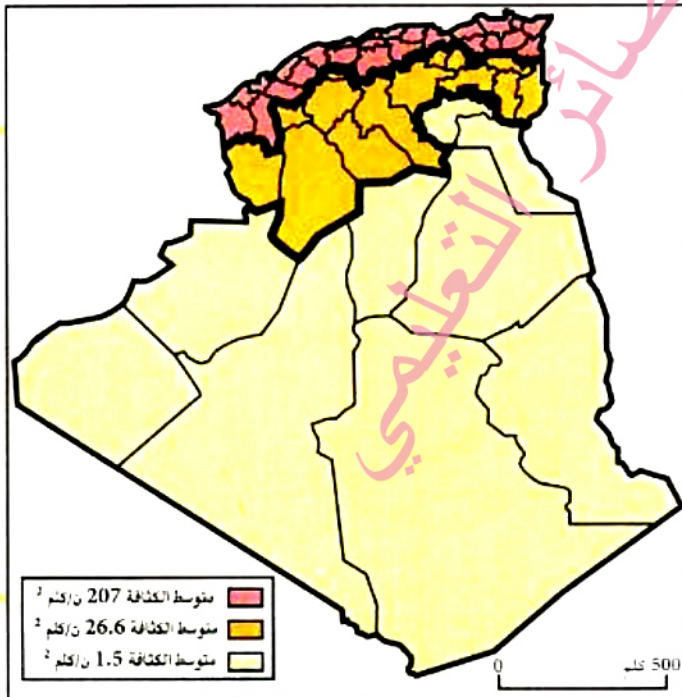
الجزائر



أدرار	الولاية	سطيف	الولاية	الجزائر	الولاية
326 ألف نسمة	عدد السكان	1.3 مليون نسمة	عدد السكان	2.8 مليون نسمة	عدد السكان
464.900 كلم ²	المساحة	6 504 كلم ²	المساحة	809 كلم ²	المساحة


أحسب الكثافة الحسابية لكل ولاية، وعلق عليها مستعينا بالصور المرفقة

ملاحظة: بإمكانك الاستعانة بالآلة الحاسبة.



اقرأ الخريطة من خلال المفتاح:

- ما هي في رأيك العوامل المؤثرة في توزيع السكان؟
- تختلف الكثافة السكانية كلما اتجهنا من الشمال نحو الجنوب، لماذا؟



ما الفرق بين الكثافة الحسابية والكثافة الحقيقية؟



رتب الدول التالية من حيث الكثافة السكانية:

الجزائر - الصين - فرنسا - ليبيا

أنت الآن متواجد في إحدى الولايات:

أ- ما هي؟

ب- هل الكثافة السكانية بها مرتفعة أو منخفضة؟ لماذا؟



ضع علامة (✓) أمام الجواب الصحيح، وعلامة (✗) أمام الجواب الخاطئ:

- يمكن حساب الكثافة السكانية في مكان ما إذا عرفنا مساحته وعدد سكانه

- الكثافة الحسابية هي نفسها الكثافة الحقيقية

- الكثافة السكانية في مكان ما ثابتة لا تتغير

- الكثافة السكانية تتغير بين فترة وأخرى

- الكثافة السكانية في الهضاب العليا مرتفعة جدا

- الكثافة السكانية في المدن أكثر من الأرياف



انجز تقريرا حول مؤسستك وفق المخطط التالي:

- اسم المؤسسة وموقعها (في البلدية والولاية).

- بعدها عن مركز البلدية، ومركز الولاية.

- مساحتها.

- عدد التلاميذ، وعدد المعلمين.

- الكثافة الحسابية داخل المؤسسة.

- الكثافة الحقيقية في قسمك



العوامل المتحكمة في توزيع السكان

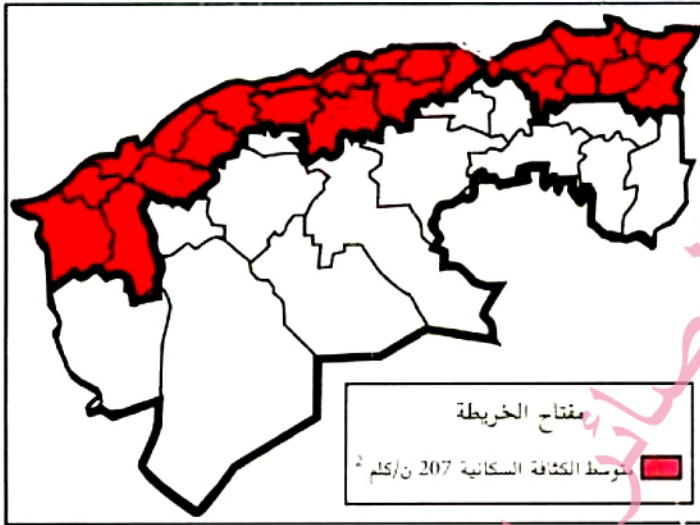


أتذكر



الكثافة العامة للسكان في الجزائر 13.5 ن/كلم²، هذه الكثافة تختلف من منطقة إلى أخرى.

* ما هي العوامل التي تسبب هذا الاختلاف؟



خريطة شكل (1): السكان في الإقليم الشمالي

متوسط الكثافة السكانية	متوسط الحرارة	التساقط
207 ن/كلم ²	18°	من 400 ملم إلى 1000 ملم

شكل (2): الإقليم الشمالي

النشاط الأول



الاحظ واكتشف



لا حظ الخريطة شكل (1):

كيف يبدو الإقليم الشمالي من



حيث الكثافة السكانية؟

كم تقدر هذه الكثافة؟



لا حظ الشكل (2):

كم يبلغ متوسط التساقط؟



هل هذه الكمية مرتفعة أم



منخفضة؟

كم يبلغ متوسط الحرارة؟



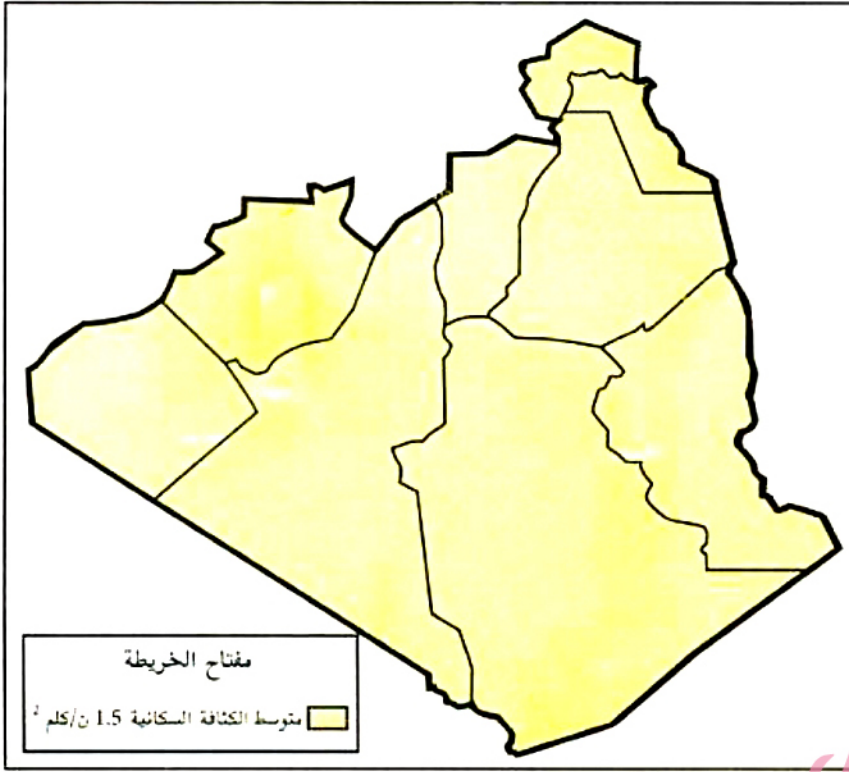
هل حرارة هذا الإقليم مرتفعة؟



كيف هي إذن؟



إذن: الإقليم الشمالي غزير الأمطار معتدل الحرارة ← كثير السكان



خريطة شكل (3): السكان في الإقليم الجنوبي

متوسط الكثافة السكانية	متوسط الحرارة	التساقط
1.5 ن/كلم ²	24°	أقل من 200 ملم

شكل (2): الإقليم الجنوبي

إذن إقليم الجنوب قليل الأمطار مرتفع الحرارة ← قليل السكان

أستنتج



- للتساقط والحرارة دور كبير في توزيع السكان:
- المناطق الغزيرة الأمطار المعتدلة المناخ ترتفع بها الكثافة السكانية.
 - المناطق القليلة الأمطار الشديدة الحرارة تنخفض بها الكثافة السكانية.

لماذا ترتفع الكثافة السكانية في الواحات رغم قلة أمطارها وارتفاع درجة حرارتها؟





صورة شكل (1-ب)



صورة شكل (1-أ)

النشاط الثاني

الاحظ واكتشف




تأمل صور الشكل 1 (أ ، ب ، ج):

ماذا تمثل كل صورة منها ؟

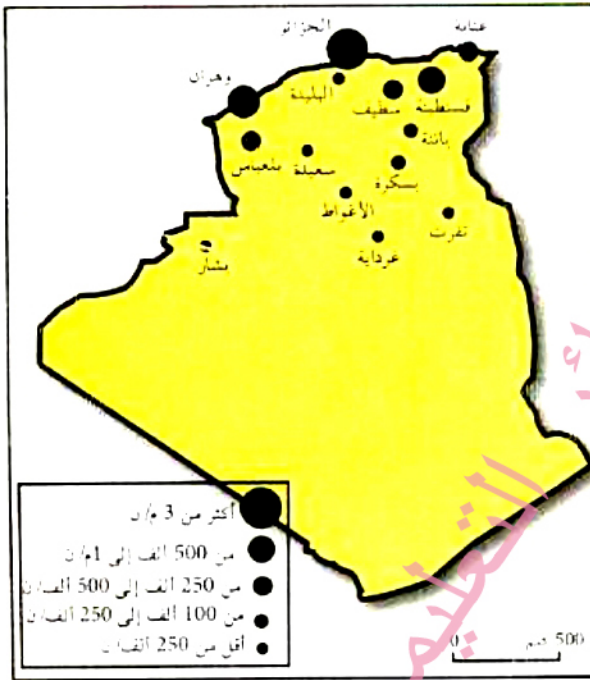
عرف السهل، الهضبة، الجبل.

رتب هذه التضاريس من حيث الأهمية بالنسبة للاستقرار السكاني. لماذا ؟



صورة شكل (1-ج)

إذن: التضاريس السهلية ← تعد مناطق جذب للسكان عكس المرتفعات



لاحظ خريطة المدن شكل (2):

تجد أن أهم المدن تتركز في السهول الساحلية مثل: سهل وهران، متيجة، عنابة. وبعض السهول الداخلية مثل سهل قسنطينة، سطيف.

أما المدن الصحراوية، فتتركز في الواحات مثل: بسكرة، الأغواط.

إذن: السهول الزراعية تجلب إليها أعدادا كبيرة

من السكان فهي ← مناطق جذب للسكان

لاحظ البيانات الموجودة في الجدول شكل (3): خريطة شكل (2): خريطة المدن

النشاط لكل مدينة	عدد السكان 2005	عدد السكان 1987	المدينة
.....	383.504	305.526	عنابة
.....	178.687	128.747	سكيكدة
.....	221.231	84.207	الجللفة
.....	207.987	128.281	بسكرة



تجد أن بعض المدن مثل: (أرزويو، عنابة، سكيكدة، حاسي مسعود...) قد تضاعف سكانها كثيرا.

ما هو النشاط الرسمي بهذه المدن؟

هل ساهم هذا النشاط في نمو السكان؟ كيف؟

أستنتج



النشاط الصناعي من العوامل التي تجلب السكان لأنه يوفر لهم الشغل.

ما هو النشاط الذي يؤدي إلى تضخم المدن: الزراعة أم الصناعة؟ لماذا؟



قرية جبلية

أثري معلوماتي:

رغم وعورة وصعوبة بعض الجبال إلا أن السكان يفضلون الإقامة في أعلاها لأسباب أمنية وتاريخية.

تندم الحياة السكانية تقريبا في جبال الهقار بسبب:

- تكوينها الصخري.
- انعدام الحياة، ووعورتها.
- قساوة وجفاف مناخها.



جبال الهقار



المياه في الصحراء

وجود المياه الجوفية في الصحراء يؤدي إلى تركز السكان قريبا فتنشأ الواحات.



أتعلم

- يفضل السكان الإقامة في السهول بسبب سهولة التنقل بها، وصلاحياتها للنشاط الزراعي، وملاءمة مناخها خاصة إن كانت قريبة من البحر.
- يقل عدد السكان في الهضاب والمرتفعات الجبلية لوعورتها، وشدة برودة جوها شتاء، وقلة صلاحيتها للزراعة.
- رغم شساعة الصحراء (86% من مساحة الوطن) إلا أنها قليلة السكان بسبب ظروفها المناخية والطبيعية الصعبة.
- تتطلب الصناعة أيدي عاملة كثيرة لهذا فالمناطق الصناعية ترتفع بها الكثافة السكانية


عوامل جذب السكان



المدن الساحلية



السهول الخصبة



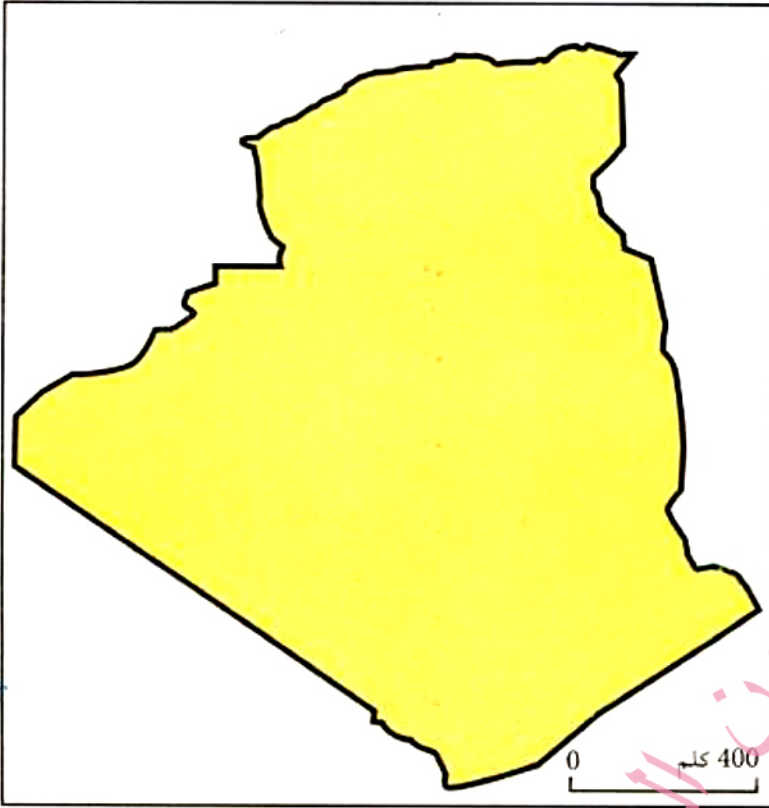
وفرة المياه



الواحات في الجنوب



أوظف معلوماتي



خريطة الجزائر

إليك خريطة الجزائر:
- أنقلها على كراستك، ثم
وزع عليها الكثافة السكانية



إملا الفراغات بالكلمات المناسبة:
تختلف الكثافة السكانية في الجزائر من منطقة لأخرى، فالسهول الساحلية
بالسكان، أما الهضاب العليا ف..... السكان، أما الصحراء ف..... السكان.



سأل المعلم تلميذا من الصحراء: لماذا يقل عدد السكان عندكم؟
وسأل تلميذا من الشمال: لماذا يكثر السكان عندكم؟
- بَمَ أجاب الأول؟
- بَمَ أجاب الثاني؟



نشاط السكان الاقتصادي



أتذكر



تتعدد وتتنوع مهن وحرف الإنسان. ما هي هذه المهن والحرف ؟

النشاط الأول



الاحظ واكتشف



لاحظ الصور (1، 2، 3):



شكل (3): نشاط الخدمات
(القطاع الثالث)

شكل (2): النشاط الصناعي
(القطاع الثاني)

شكل (1): النشاط الفلاحي
(القطاع الأول)

ما هي الأنشطة الأخرى التي
يشملها هذا القطاع ؟

أين يتمركز هذا
القطاع ؟

هناك عدة أنشطة مرتبطة
بالفلاحة، ما هي ؟

أستنتج



رغم اختلاف الأنشطة فإنها تصنف في ثلاث قطاعات هي:

- القطاع الأول: ويشمل الفلاحة (الزراعة، الري، الصيد البحري).
- القطاع الثاني: ويشمل الصناعة (كل أنواع الصناعات).
- القطاع الثالث: ويشمل الخدمات (تجارة، نقل، إدارة: تعليم، صحة)

ما هو القطاع الذي يشغل نسبة كبيرة من الأيدي العاملة في الجزائر، ولماذا ؟





شكل (1): توزيع الأراضي في الجزائر



النشاط الثاني

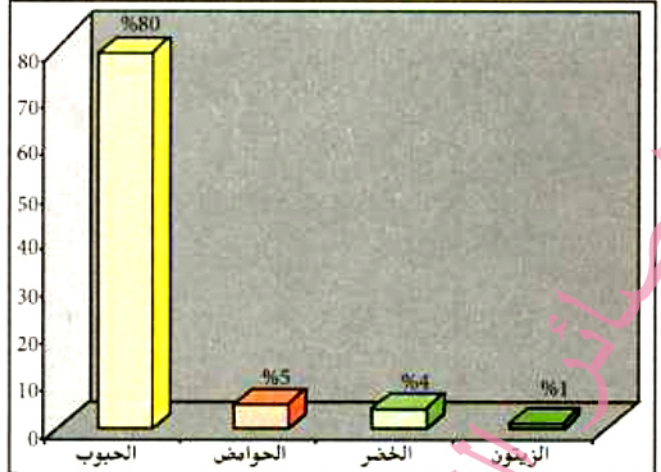
الاحظ واكتشف

تأمل الدائرة النسبية شكل (1):

- ماذا تمثل؟
- كم تبلغ نسبة الأراضي الصالحة للزراعة؟
- هل هي كبيرة أم لا؟
- هل يمكن توسيعها؟


لاحظ الشكل (2):

- ما هي أهم المحاصيل الزراعية؟
- لماذا تحتل الحبوب المرتبة الأولى؟
- هل هذا الإنتاج كاف أم لا؟
- هل يمكن زيادته؟



كم يقدر مردود الحبوب في الجزائر؟ شكل (2): توزيع الأراضي الصالحة للزراعة حسب المحاصيل الرئيسية

لاحظ الصور (أ، ب، ج):



صورة (ج): الجراد



صورة (ب): الجفاف



صورة (أ): التصحر

التصحر، الجفاف، الجراد، الإنجراف مشاكل تعاني منها الزراعة.

هل هناك مشاكل أخرى؟ ما هي؟




أستنتج



- رغم مساحة الجزائر الكبيرة إلا أن نسبة الأراضي الزراعية بها قليلة.
- رغم تنوع المحاصيل الزراعية فإن الحبوب تحتل المرتبة الأولى في الإنتاج الزراعي.
- تعاني الزراعة من عدة مشاكل (جفاف، تصحر، جراد، انجراف، ضعف المردود، النزوح الريفي...)

كيف يمكن توسيع المساحة المزروعة بالجزائر؟



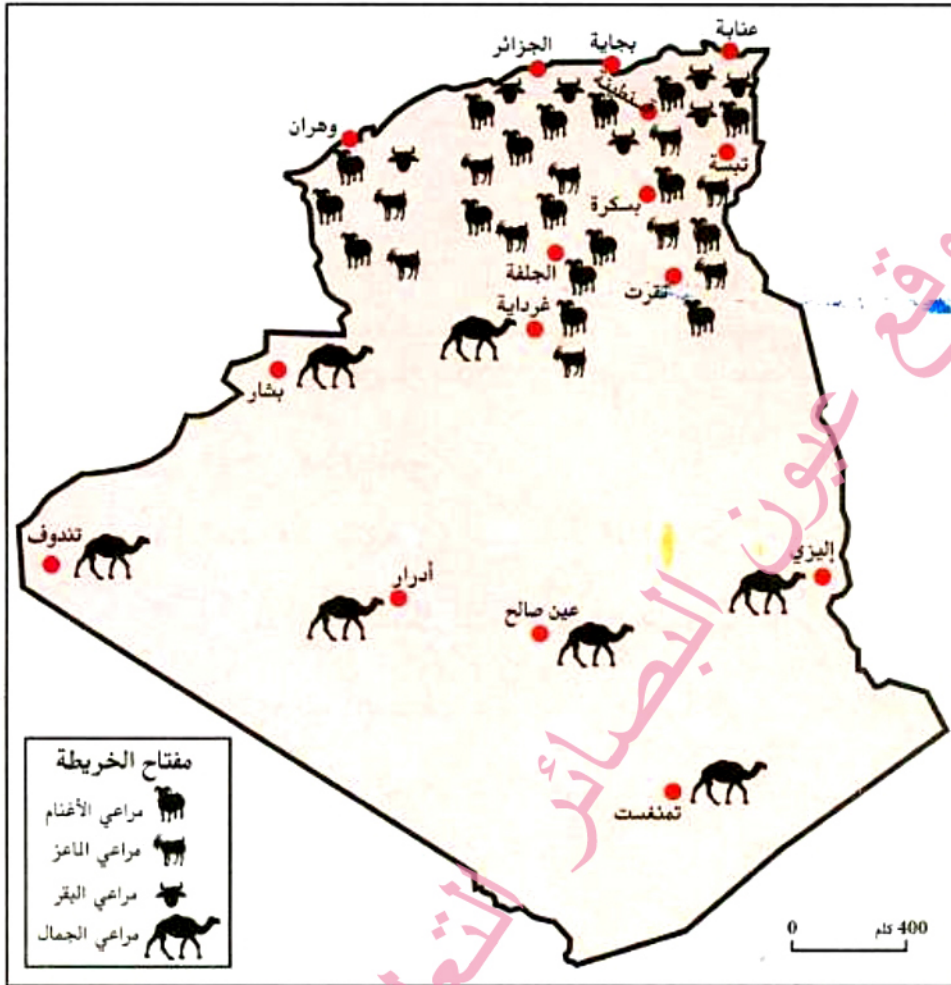
الماء من الشروط الأساسية لاستصلاح الأراضي
(صورة من السهول الخصبة في الغرب الجزائري)



النشاط الثالث

الاحظ واكتشف

لاحظ الخريطة شكل (1)، التي تمثل مناطق تربية الحيوانات في الجزائر:



- أذكر أنواع الحيوانات التي تربي في الجزائر.
- ما هو النوع الأكثر انتشارا؟
- أين تكثر تربية الأغنام والأبقار؟
- أين تكثر تربية الجمال؟
- أين تربي الماعز؟
- لماذا ينتقل الرعاة من مكان إلى آخر؟

خريطة شكل (1): مناطق تربية الحيوانات

ما هي الصعوبات التي تواجه تربية الحيوانات في الجزائر؟

لاحظ الصورة شكل (2):



شكل (2): دواجن

ماذا تمثل؟

أين تربي الدواجن؟

من يقوم بتربيتها؟

ما الاسم الذي يطلق على لحومها؟

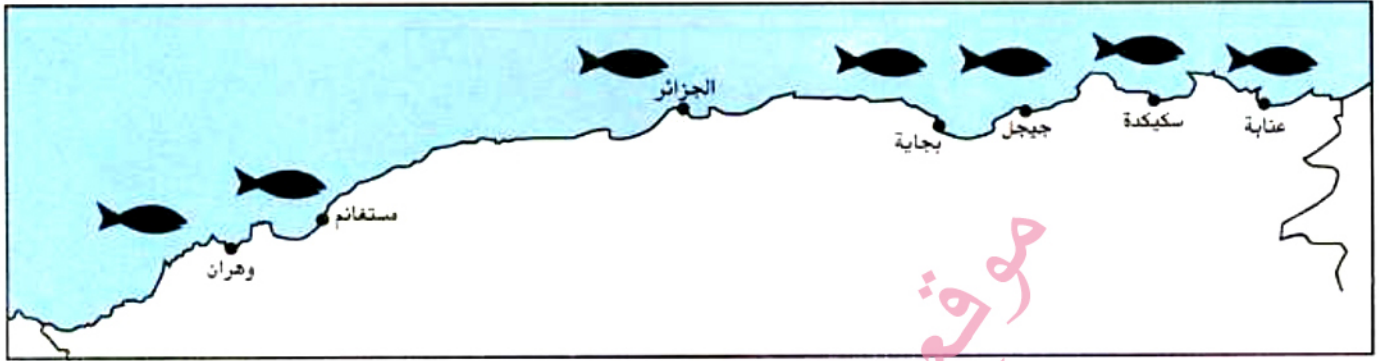


ماذا استفاد منها؟

ما الصعوبات التي تواجه تربيتها؟

ما الطرق المتبعة في تربيتها؟

لاحظ الخريطة شكل (3):



خريطة شكل (3): أهم موانئ الصيد البحري في الجزائر

أين توجد هذه المصايد؟

ما الأسلوب المتبع في الصيد؟ التقليدي أم الحديث؟

ما هي أنواع الأسماك المتواجدة في هذه المصايد؟

هل يستهلك السمك طازجا أم معلبا؟

هل تصدر الجزائر الأسماك؟ لماذا؟

أستفتح



تتنوع الثروة الحيوانية في الجزائر على النحو التالي:
أغنام وأبقار وخيول، تكثر في المناطق التلية، أما الماعز والجمال فتنتشر
تربيتها بالجنوب، تتم تربية الدواجن للاستفادة من بيضها، ولحومها البيضاء،
في حين توجد مصايد الأسماك في السواحل.

تربي الأبقار في الشمال، وتربي الجمال في الجنوب. لماذا؟





صورة شكل (1): خشب

الصناعة



النشاط الرابع



الاحظ واكتشف



تأمل الصور (1، 2، 3، 4):




صورة شكل (2): جلود

- الجلود والأخشاب من المواد الأولية الفلاحية.
- الحديد من المواد الأولية المعدنية.
- البترول والغاز الطبيعي من المواد الأولية الطاقوية.



صورة شكل (3): حديد



صورة شكل (4): محروقات

فيم تستعمل كل هذه المواد؟



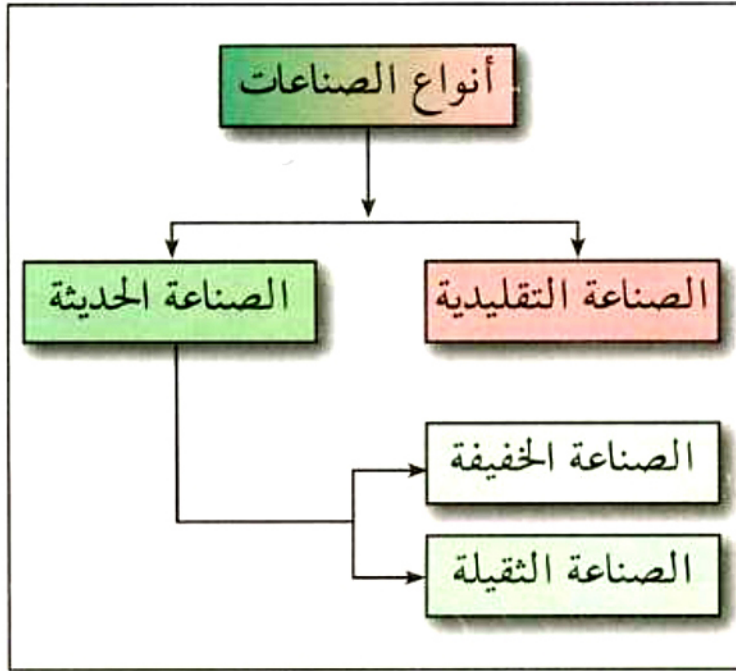
أستنتج



- تتطلب الصناعة مواد أولية فلاحية كالجلود والقطن والصوف.
- مواد أولية معدنية، كالحديد، والرصاص، والزنك والفوسفات.
- مواد أولية طاقوية كالبتترول، والغاز الطبيعي، والفحم الحجري.

ما الذي يوجد بكثرة في الجزائر، البترول أم الغاز الطبيعي أم الفحم الحجري؟





مخطط شكل (1)

النشاط الخامس



ألاحظ وأكتشف



لاحظ المخطط شكل (1):

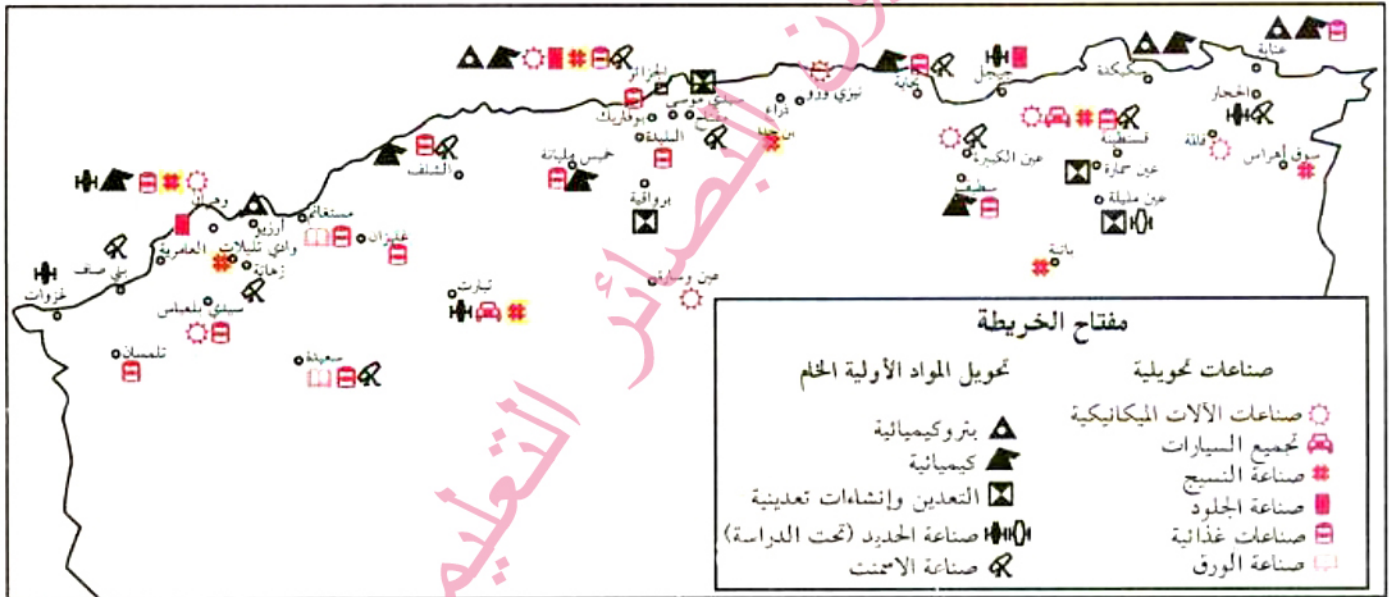
إلى كم من قسم تنقسم الصناعة؟

ما هي أنواع الصناعة الحديثة؟

ما هي الصناعة الثقيلة؟

ما هي الصناعة الخفيفة؟

لاحظ الخريطة شكل (2):



خريطة شكل (2): الصناعات في الجزائر

من خلال معطيات الخريطة تعرّف على ما يلي:

أنواع الصناعات الموجودة في الجزائر.

مناطق تركز هذه الصناعات.

المناطق الصناعية الكبرى.

صنف هذه الصناعات إلى ثقيلة وخفيفة.



صورة (3): الصناعات التقليدية

لاحظ الصورة شكل (3):

- ماذا تمثل هذه الصورة؟
- ما هي الصناعة التقليدية؟
- عدد بعضا من أنواعها.
- علام تعتمد هذه الصناعة؟
- إلى من توجه في معظمها؟
- أين توجد بالجزائر؟
- هل ما زالت مزدهرة كما كانت في الماضي؟ لماذا؟



أستنتج



تنقسم الصناعة إلى قسمين:

- الصناعة الخفيفة: مثل: الصناعة الغذائية، والنسيجية.

- الصناعة الثقيلة: مثل: صناعة الحديد والصلب.

توجد بالجزائر عدة أنواع من الصناعات المنتشرة في مختلف مناطق البلاد منها: صناعة الآلات الميكانيكية، الصناعة البتر وكيمائية، الصناعة الكيمائية، الصناعة الميكانيكية، الصناعة الغذائية، صناعة الورق، والجلود والاسمنت وغيرها.

هناك مراكز صناعية كبرى مثل: الرويبة، أرزيو، حاسي مسعود، سيدي

بلعباس.

عدّد أنواع الصناعات المتواجدة في منطقتك، وبين أهميتها.





شكل (2): صناعة



شكل (1): فلاحة



التجارة



النشاط السادس

ألاحظ واكتشف

تأمل الصور (1، 2، 3، 4):



شكل (3): سوق

ما هي المراحل التي يمر بها المنتج قبل وصوله إلى المستهلك؟

كيف تسمى عملية التبادل التجاري (البيع والشراء) التي تتم داخل الوطن؟

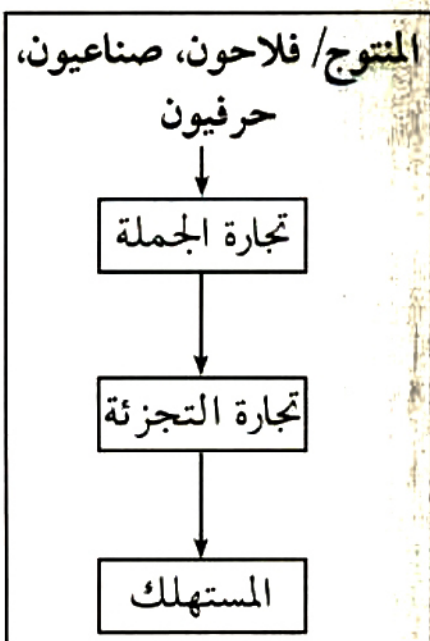
ما هي الأداة التي يتم بواسطتها هذا التبادل؟

ما هي التجارة الداخلية؟

كيف تسمى عملية التبادل التجاري التي تتم خارج الوطن؟

ما هي الأداة التي يتم بواسطتها هذا التبادل؟

ما هي التجارة الخارجية؟



شكل (4)

أستنتج

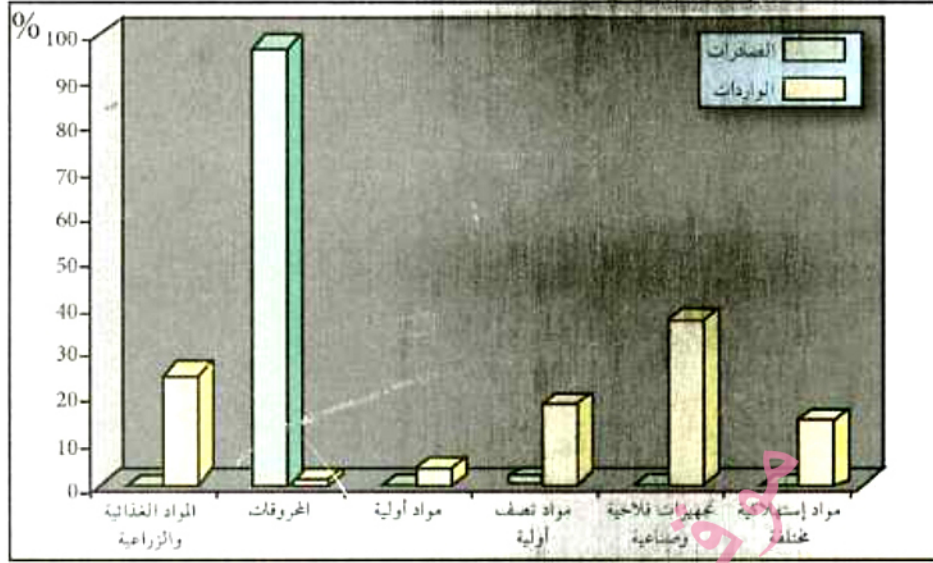
التجارة هي حركة تبادل البضائع والسلع تتم بواسطة رمز نقدي تسمى العملة وهي نوعان:

1. التجارة الداخلية: وهي التي تتم داخل حدود الوطن بالعملة المحلية (الدينار).
2. التجارة الخارجية: وهي التي تتم خارج حدود الوطن وبغير العملة المحلية أي العملة الصعبة (دولار أمريكي، أورو أوروبي، جنيه إسترليني بريطاني، ين ياباني...).

لماذا تحرص الدول على إقامة المعارض الدولية؟



أثري معلوماتي:



أهم الصادرات والواردات الجزائرية لسنة 2002

الميزان التجاري:

هو مجموع قيمة الصادرات من السلع التي تخرج من الدولة ومجموع قيمة الواردات التي تدخل إلى الدولة. يكون راجحا إذا زادت قيمة الصادرات على الواردات ويكون عاجزا في حالة العكس.

أتعلم

- تتنوع الأنشطة الإقتصادية في الجزائر على النحو التالي:
 - الفلاحة: وتشمل الزراعة وتربية الحيوانات والصيد البحري تشغل 16% من الأيدي العاملة، ذات مردود ضعيف ومساحة زراعية صغيرة قابلة للتوسع بالاستصلاح.
 - الصناعة: تتوفر الجزائر على مختلف مقومات الصناعة من مواد أولية، وأيدي عاملة، ورؤوس أموال، إلا أنها مازالت غير كافية، تشغل حوالي 17% من الأيدي العاملة.
 - الخدمات: وتشغل حوالي 67% من الأيدي العاملة وتشمل الإدارة، النقل، التعليم، الصحة.



أوظف معلوماتي



تمثل الصورة القطاع
يضم هذا القطاع




تمثل الصورة القطاع
يضم هذا القطاع



تمثل الصورة القطاع
يضم هذا القطاع


أفكر وأكمل



أكمل ما يلي:

تضم الفلاحة النشاطات التالية
من أهم المنتجات الزراعية في الجزائر
تعاني الزراعة في الجزائر من المشاكل التالية
أهم الحيوانات التي تربي في الجزائر هي
أهم المصايد بالجزائر هي

ألاحظ وأستنتج



صناعة



صناعة



صناعة



نشاط ادماجي



أكمل ما يلي:

- الكثافة السكانية هي
- الكثافة العامة هي
- الكثافة الحسابية هي
- تقل الكثافة في الصحراء بسبب
- ترتفع الكثافة في الشمال بسبب



إليك خريطة مناخ الجزائر
أذكر أهم النباتات والحيوانات في كل إقليم
حسب الخريطة الموائية:

أهم نباتاته هي:

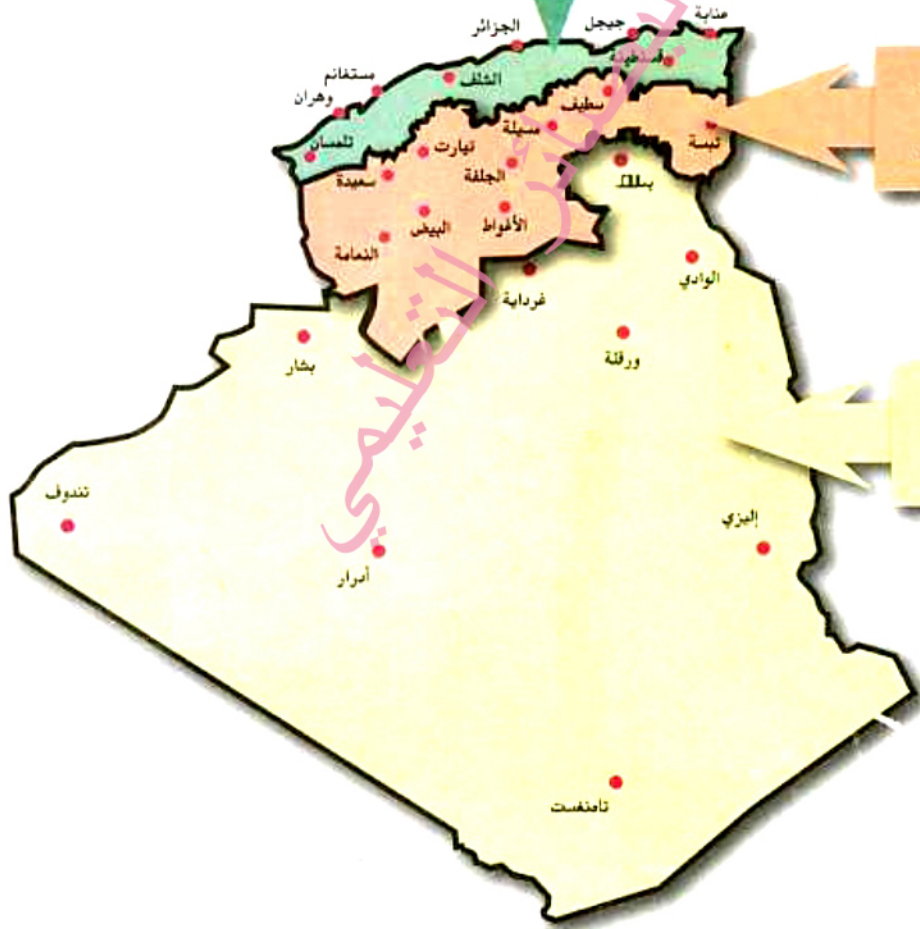
أهم حيواناته هي:

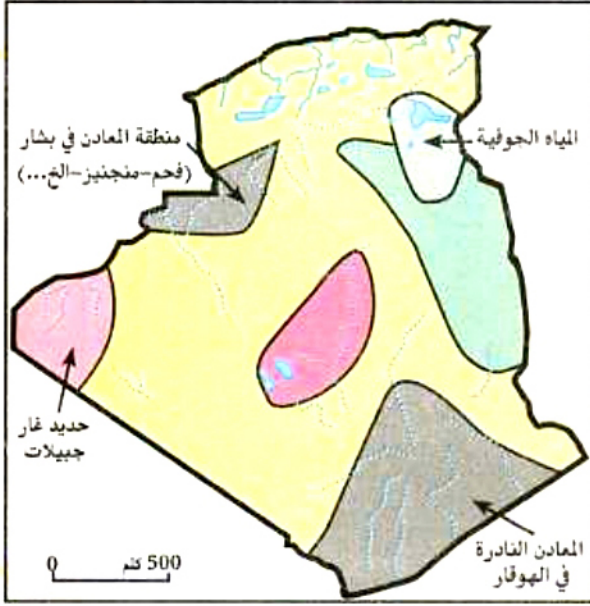

أهم نباتاته هي:

أهم حيواناته هي:

أهم نباتاته هي:

أهم حيواناته هي:





إقرأ الخريطة التي أمامك ثم:

- ضع لها عنوانا.
- ما هي أهم موارد الصحراء الجزائرية؟
- ما الدور الذي يلعبه البترول والغاز الطبيعي في الاقتصاد الوطني؟



أهم مناطقه	نوع النشاط (المخرقة)
.....	- استخراج المرجان
.....	- تربية الأبقار.
.....	- زراعة أشجار الزيتون.
.....	- زراعة الحبوب.
.....	- زراعة النخيل.
.....	- تربية الأغنام.
.....	- استخراج المحروقات

أذكر أهم مناطق كل نشاط.



تربي الماعز في المناطق الجبلية والصحراوية للأسباب الآتية

.....



تقل الحياة النباتية في الصحراء للأسباب الآتية

.....



تكتظ المدن بالسكان للأسباب الآتية

.....

مصطلحاتي الجغرافية

حرف (أ)

◀ **الأبعاد:** من البعد أي المسافة بين نقطتين، أو منطقتين كأن نقول أبعاد الجزائر من الشمال إلى الجنوب 2000 كلم ومن الشرق إلى الغرب 1820 كلم.



◀ **الاقليم المناخي:** مساحة أرضية تتشابه في خصائصها المناخية كالحرارة، وكميات الأمطار، والنبات الطبيعي.

◀ **الاستبس:** حشائش قصيرة متباعدة، ومقاومة للجفاف مثل الشيح والحلفاء والديس والسدرة.

حرف (أ)

◀ **البحر:** مسطح مائي واسع يمتاز بملوحته وحرارته وأنواع حيواناته البحرية.

◀ **البحر الأبيض المتوسط:** هو البحر الذي يتوسط إفريقيا وأوروبا، ويعدّ من أكبر البحار، يمتاز بنشاطه التجاري الواسع، يربط بين المحيط الأطلسي والبحر الأحمر عن طريق مضيق جبل طارق (من الغرب) وقناة السويس من الشرق وتبلغ مساحته 2.970.000 كلم²، وتصل أعماقه 4.400 م.



◀ **البحيرة**: مسطح مائي مغلق في الغالب تقل مساحتها كثيرا عن البحار.



◀ **البدو**: هم السكان الذين ينتشرون في الجهات الصحراوية والشبه الصحراوية، يشكل الرعي حرفتهم الرئيسية ويعيشون في مساكن غير ثابتة تتألف من الخيم المصنوعة من وبر الحيوانات وشعرها وأصوافها.

حرف (ت)



◀ **التجارة**: هي عملية البيع والشراء، وتتم مقايضة أو نقدا، وتكون تجارة داخلية أو تجارة خارجية.

◀ **تحديد موقع مكان**: يحدّد موقع مكان ما بواسطة الاحداثيات الجغرافية (شبكة خطوط الطول ودوائر العرض).

◀ **التربة**: هي الطبقة السطحية الرقيقة المفتتة من قشرة الأرض، والتي ينمو فيها النبات ومن أهمها في الجزائر:



– التربة الطينية الحمراء (في السهول الساحلية).
– والتربة الرملية (في الصحراء).

◀ **التركز السكاني**: ويقصد به تجمع السكان بأعداد كبيرة في مساحة أرضية صغيرة.

◀ **النضاريس**: هي مظاهر طبيعية متنوعة كالجبال والهضاب والأودية والسهول...



◀ **التلوث**: ويقصد به إحداث تغيير في البيئة التي تحيط بالكائنات الحية بفعل مخلفات النشاط الإنساني كنفایات المصانع والقمامة، وتحدث تلك المخلفات تغيرا في البيئة مثل تلوث المياه والهواء...

حرف (ج)



« **الجبل**: أرض مرتفعة ذات جوانب شديدة الانحدار، وقمة عالية.

حرف (ح)



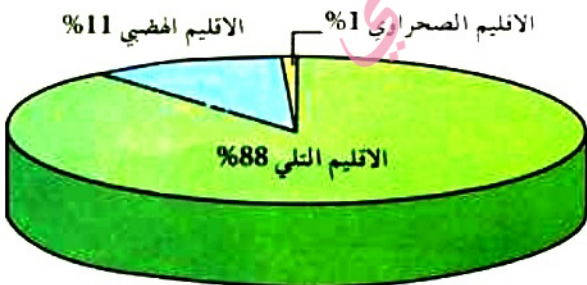
« **الحضر**: هم سكان المدن، ويشكلون حاليا في الجزائر أزيد من نصف مجموع السكان. ويشغل معظمهم في قطاع الصناعة، أو الخدمات.

حرف (خ)



« **الخدمات**: ويسمى القطاع الثالث، ويشمل نشاطات عديدة غير الزراعة والصناعة وذلك مثل: الصحة، النقل، السياحة، التجارة، والتعليم...

حرف (د)



دائرة بيانية تمثل النسبة السكانية في الأقاليم الرئيسية

« **الدوائر النسبية**: هو رسم بياني على شكل دائرة تمثل البيانات الحسابية المطلوبة في قطاعات دائرية ملونة فالدائرة المرفقة مثلا تمثل توزيع الكثافة السكانية في الأقاليم الرئيسية في الجزائر.

الإقليم	التلي	الهضي	الصحراوي
الكثافة ن/كلم ²	207	26.6	1.5

حرف (ر)



◀ **الريفيون**: هم سكان الريف من الفلاحين الذين يشتغلون بالزراعة عموماً، ويسكنون في القرى.

حرف (س)



◀ **ساحل البحر**: هو جزء من الأرض يشرف على البحر.
◀ **السلسلة الجبلية**: مجموعة من الجبال متصلة فيما بينها.
◀ **السهل**: أرض مستوية تمتد على مساحة واسعة.

حرف (ش)



◀ **الشاطئ**: جزء ساحل البحر يظهر عند التقاء مياه البحر باليابس، وليست كل الشواطئ متشابهة، فبعضها رملي منبسط، وبعضها صخري مرتفع.

حرف (ص)

◀ **الصحراء**: مساحة أرضية شاسعة جرداء تغطيها الرمال والحصى والصحراء الجزائرية غنية بثرواتها الطبيعية، ومواردها الطاقوية، أهمها البترول والغاز الطبيعي.



الصناعة

◀ **الصناعة**: نشاط يقوم به الإنسان لتحويل المواد الأولية الخام إلى منتجات مصنعة ينتفع بها في حياته، ويسد بها حاجاته.

◀ **الصيد البحري**: هي حرفة مكملّة للزراعة والرعي تقوم على صيد مختلف أنواع الحيوانات البحرية. وهو على نوعين:




الصيد البحري

- **صيد تقليدي**: يعتمد على وسائل تقليدية كالسنارة والشباك والتوارب الصغيرة.

- **صيد حديث**: تستعمل فيه السفن الكبيرة المزودة بتجهيزات الصيد الحديثة.

حرف (ط)



الطاقة

◀ **الطاقة**: أصبح مفهوم الطاقة مرتبطا بنشاطات الإنسان فكل وسائل النقل والمصانع وأنواع الإنارة تشتغل بواسطة الطاقة فالطاقة هي القوة الكامنة في عناصر الطبيعة وتتنوع مصادر الطاقة.

◀ **الطقس**: هو حالة عابرة مؤقتة يمكن التنبؤ بها خلال فترة زمنية تكون يوما أو يومين أو أسبوعا.

حرف (ق)



القوى العاملة

◀ **القوى العاملة**: هم الأفراد القادرون عن العمل من الذكور والإناث.

حرف (ك)



◀ **الكتلة الجبلية:** مكان جبلي مرتفع.

حرف (م)



◀ **الماء:** سائل شفاف، لا لون له ولا طعم ولا رائحة يزيل الظمأ ويريح البدن، ولا يمكن لأي كائن حي أن يعيش بدونه. رحلته في الطبيعة تبدأ عند سطح البحر حيث يتبخر بفضل الحرارة فيعلو، ويشكل السحب التي تحركها الرياح فتتكاثف وتسقط أمطارا أو ثلوجا، فتشكل سيولا ومجري سطحية يعود جزء منها إلى البحر ويتسرب الجزء الآخر نحو جوف التربة.

◀ **مفتاح الخريطة:** هو الدليل الذي يشرح ما بالخريطة من رموز وألوان ومظاهر طبيعية وبشرية.

◀ **مقياس الرسم:** يوجد أسفل الخريطة على شكل كسري أو خطي أو كتابي ويبين نسبة المسافة على الخريطة وما يقابلها على الطبيعة.

◀ **المدن المليونية:** هي المدن التي يتجاوز عدد سكانها المليون نسمة.

◀ **المضيق:** ممر مائي يفصل بين يابسين، ويربط بين مسطحين مائيين. مثل مضيق جبل طارق الذي يربط بين البحر الأبيض المتوسط والمحيط الأطلسي

◀ **المعالم الكبرى:** ويقصد بها المظاهر الطبيعية، أو الحضارية، أو التاريخية البارزة والمميزة.





◀ **المناخ:** هو طابع الجوّ السائد والمعتاد في منطقة محددة من الأرض خلال فترة عام كامل.

◀ **الموارد الطبيعية:** هي مختلف مصادر الثروة الطبيعية الزراعية منها مثل الحلفاء والفلين والمطاط الطبيعي أو المعدنية كالحديد والنحاس أو الطاقة كالبتروول والفحم والغاز الطبيعي.

◀ **الميناء:** مكان محمي على شاطئ البحر ترسو به السفن وتهتدي إليه بواسطة المنارة.



حرف (ن)

◀ **النباتات:** كائنات حية تتأثر بعوامل كالضوء والمناخ من حرارة ومياه، كما تتأثر بعناصر الغذاء الموجودة في التربة التي تعيش عليها.

حرف (هـ)

◀ **الهضبة أو النجد:** هي أرض مرتفعة ومستوية السطح، مثل الهضاب العليا في الجزائر.

حرف (و)

◀ **الواحة:** رقعة أرضية في الصحراء تزدهر فيها الحياة بسبب توفرها على مياه جوفية غزيرة كواحات الوادي، وتقرت، وميزاب، والساورة في الجزائر.

◀ **الوادي:** هو الأرض المنخفضة الموجودة بين مرتفعين وتجري بها المياه. ويكون الوادي أحيانا ضيقا وعميقا، وأحيانا أخرى مستويا واسعا.



لتحميل الكتب المدرسية

الابتدائي-المتوسط-الثانوي

أضغط هنا

لتحميل الكتاب اضغط في أسفل الصفحة

موقع عيون البصائر التعليمي

elbassair.net



elbassair.net